

機車駕照筆試題庫

【 題庫索引 】

分類
正確觀念與態度
主動停讓文化
安全駕駛能力

正確觀念與態度

貨物裝載

題號	答案	題目內容
1	2	機車附載物品，高度不可超過駕駛人 (1)頭部(2)肩部(3)腰部。
2	1	機車附載物品，寬度不可超過車輛把手外緣 (1)10 公分(2)2 公尺(3)1 公尺半。
3	2	重型機車，附載物品重量，不得超過 (1)50 公斤(2)80 公斤(3)90 公斤。
4	1	機車附載物品，長度規定伸出車尾部分，自後輪軸起，不得超過 (1)半公尺(2)1 公尺(3)3 公尺。
5	2	普通輕型機車附載物件，重量規定 (1)以 40 公斤為限 (2)以 50 公斤為限 (3)以 20 公斤為限。
6	1	關於機車載物的規定，下列何者不正確？ (1)得載運高於騎士肩膀以上之貨物 (2)寬度不得超過把手外緣 10 公分 (3)伸出車尾部分，自後輪軸起不得超過 50 公分。
7	3	機車附載人員或物品，下列何者不正確？ (1)小型輕型機車不得附載人員，重型及普通輕型機車在駕駛人後設有固定座位者，得

題號	答案	題目內容
		附載 1 人 (2)附載坐人後，不得另載物品 (3)附載坐人可以側坐。
8	2	機車附載乘客之原則，何者不正確？ (1)附載乘客不可側坐 (2)普通輕型機車不可附載乘客 (3)重型機車限載 1 人。
9	1	<div style="text-align: center;">  </div> (1)車輛總重限制(2)車輛載重限制(3)車輛空重。
10	1	機車所附載之貨物，長度規定下列何者正確？ (1)自座位後部起不得向前超伸 (2)自座位後部起向前不得伸出超過一公尺 (3)自座位後部起向前不得伸出超過二十公分
11	1	機車附載物品超過車尾，最長不得超過多少？ (1)自後輪軸起不得超過半公尺 (2)自後輪軸起不得超過一公尺 (3)自車尾（車身）起不得伸出超過半公尺
12	1	機車載物之長度，自座位後部起有何規定？ (1)不得向前超伸 (2)得向前伸出但不得超過把手 (3)無相關限制
13	1	機車載物時，所載貨物的最大寬度限制為何？ (1)不得超過把手外緣 10 公分 (2)不得超過把手外緣 15 公分 (3)不得超過機車把手寬度
14	3	機車載運貨物時，關於裝載規定，下列敘述何者正確？ (1)貨物以繩索確實固定且未遮蔽車尾燈號者，得不受尺寸限制 (2)貨物寬度未超出車把手且重量在駕駛人可控制範圍內，即符合規定 (3)載運貨物應遵守法定之寬度、長度、高度及重量限制，不得超載
15	3	機車附載人員或物品，以下規定何者正確？ (1)小型輕型機車、重型及普通輕型機車在駕駛人後設有固定座位者，得附載一人 (2)載物者，小型輕型不得超過三十公斤；普通輕型不得超過六十公斤；重型不得超過九十公斤 (3)附載坐人後，不得另載物品。但零星物品不影響駕駛人及附載人員之安全者，不在此限
16	2	若機車附載人員或物品違反規定，將處罰誰？ (1)乘客 (2)機車駕駛人 (3)機車駕駛人及乘客
17	1	機車附載人員或物品未依規定者，將處駕駛人多少罰鍰？ (1)新臺幣 300 元~600 元罰鍰

題號	答案	題目內容
		(2)新臺幣 600 元~1,200 元罰鍰 (3)新臺幣 1,200 元~2,400 元罰鍰

事故預防及處理

題號	答案	題目內容
18	3	車禍中不醒人事的骨折傷患，(1)除非情況緊急，否則不得任意移動 (2)搬動傷患前，應先處理呼吸困難、出血、骨折等情形(3)以上皆是。
19	1	車禍肇事時，傷者有休克現象時臉色呈(1)蒼白(2)鉛灰色(3)潮紅症狀。
20	2	前方路上發生事故，警察已到現場處理，應如何做比較好？ (1)停在路旁觀看(2)繞道離開，不可好奇在現場停留觀看(3)留下幫忙順便打卡。
21	3	速度愈高停車距離：(1)不變 (2)愈小 (3)愈長。
22	2	如遇油料著火，應即： (1)用水撲滅 (2)用滅火器及泥沙或用水浸濕棉被衣服覆蓋撲滅 (3)就近取樹枝撲滅。
23	2	發生交通事故時，當事人應儘量在現場尋找：(1)親朋好友(2)目擊證人(3)法律人士 以利協助案情釐清。
24	2	下坡行駛時(1)可以關閉電門，空檔滑行(2)不得將引擎熄火空檔滑行 (3)無規定。
25	3	下列哪些地方是高危險區，應避免停駐？(1)路面正落下小石塊(2)有防落石柵處或路邊護欄受撞擊扭曲變形(3)以上皆是。
26	1	駕駛人駕駛汽車肇事致人受傷或死亡者，應即採取救護措施及依規定處置，並通知警察機關處理，不得任意移動肇事汽車及現場痕跡證據，違反者 (1)應處以罰鍰(2)車輛沒入(3)記違規紀錄 1 次。
27	3	道路交通事故係指以下何者在道路上行駛，致有人受傷或死亡？ (1)車輛(2)動力機械(3)以上皆是。
28	3	下列何者非屬重大道路交通事故？ (1)死亡人數在 3 人以上(2)死亡及受傷人數在 10 人以上(3)受傷人數在 14 人以下。
29	3	下列何者係屬重大交通事故？ (1)死亡人數在 3 人以上或死亡及受傷人數在 10 人以上或受傷人數在 15 人以上(2)運送之危險物品發生爆炸燃燒或有毒液氣體放射性物質洩漏等事故(3)以上皆是。
30	2	駕駛人駕車肇事，無人受傷或死亡且機車尚能行駛，應優先 (1)等待警察前來處理(2)將車輛位置標繪後並迅速移置路邊(3)通知保險公司。
31	1	肇事後在地面標繪相關證物位置後，下列何種狀況應將車輛立即移至路邊，切勿妨礙交通？(1)輕微事故無人傷亡(2)有人重傷(3)有人死亡。
32	2	駕駛人駕駛機車肇事無人受傷或死亡，且機車尚能行駛而不儘速將位置標繪移置路邊，致妨礙交通者處罰(1)留置該機車(2)罰鍰(3)扣留牌照。
33	3	肇事時，若以路權責任歸屬，下列何者為正確： (1)直行車應讓轉彎車(2)先到路口者先行(3)轉彎車應讓直行車。

題號	答案	題目內容
34	2	有關呼吸、心跳停止的急救常識：暢通呼吸道，檢查呼吸不超過 (1)5 秒鐘(2)10 秒鐘(3)30 秒鐘。
35	1	進行 CPR(心肺復甦術)，胸外按壓與人工呼吸之比率，成人為 (1)30：2(2)15：2(3)5：1。
36	3	確定傷患無意識時，需進行心肺復甦術，胸部按壓之頻率約為 (1)18 次/每分鐘(2)72 次/每分鐘(3)100 次/每分鐘。
37	3	發現傷者哪個部位受傷時，應告知並維持他不受移動？ (1)頸部(2)脊椎(3)以上皆是。
38	1	維持呼吸道暢通是急救的首要任務，但如果傷者頸椎受傷，適合哪個方法維持呼吸道暢通？ (1)推下顎法(2)抬下巴壓額法(3)壓下巴抬額法。
39	3	下列何者為正確的心外按摩位置？ (1)胸骨外緣(2)胸骨上緣(3)兩乳頭連線中央胸骨上。
40	2	下列哪個表徵顯示個案有呼吸道阻塞？ (1)手抱肚子，彎腰一直喊痛(2)手抓住頸部無法說話(3)手按住胸口無法說話。
41	2	下列何者需執行哈姆立克氏施救法？ (1)個案昏迷時(2)懷疑呼吸道阻塞時(3)懷疑心肌梗塞時。
42	3	當發生車禍時，有名傷者大量出血，下列急救處理方式中何者錯誤？ (1)確定出血位置，剪開衣物，加壓止血(2)使用止血帶止血法，並且每隔 15~20 分鐘就鬆開一次(3)將出血患肢放置低於心臟的位置，這樣血才不會流太多。
43	3	CPR(心肺復甦術)在心跳停止多久後必須馬上執行，以免造成腦部不可逆的傷害？ (1)在 10~15 分鐘內(2)在 8~10 分鐘內(3)在 4~6 分鐘內。
44	3	施行哈姆立克急救法時，雙手應握拳施力於病人的何處？ (1)肚臍左方(2)肚臍下方(3)肚臍與胸骨的中間位置。
45	2	急救的優先做法為何？ (1)把頭擺正(2)輕拍病患，並評估意識(3)聽診呼吸音。
46	1	在化學傷害的緊急處理的措施為何？ (1)沖洗患部(2)找中和劑(3)脫除衣物。
47	2	因外傷導致腿部出血，下列措施何者適當？ (1)不可使用止血帶，以防患肢壞死(2)宜在傷口上加壓止血(3)避免抬高患肢。
48	3	請依急救原則，決定急救順序：A 止血 B 維持呼吸道通暢 C 固定骨折。 (1)A→B→C (2)B→C→A(3) B→A→C
49	2	下列有關一氧化碳中毒的敘述，下列何者錯誤？ (1)瓦斯外漏、汽車引擎排出的廢氣都是造成一氧化碳中毒的原因(2)患者的皮膚呈黑色(3)一氧化碳中毒時，須馬上將患者移出危險環境，並給予 100%氧氣吸入。
50	3	CPR(心肺復甦術)時觀察患者有無呼吸的方法，不包括下列何者？

題號	答案	題目內容
		(1) 看胸部有無起伏(2)感覺有無氣體呼出(3)摸有無頸動脈跳動。
51	1	如患者有骨折，下列何者為不適當的急救處置？ (1)移動患者骨折處，擺出能使患者舒服的臥位 (2)優先處理出血或休克，再以夾板固定患部 (3)不要隨意移動患者的骨折部位。
52	1	關於一般傷口的急救法，下列何者錯誤？ (1)先不要做任何處置，應靜待急救人員 (2)使用流動的水或生理食鹽水來清理傷口 (3)大量流血時，應用止血法
53	2	當發現有人昏迷時，下列何者為首要措施？(1)直接進行 CPR(心肺復甦術) (2)確認患者的意識狀態與脈搏(3)立刻使用自動體外去顫器 (AED)。
54	2	對於意識不清的患者，最好的姿位為下列何者？(1)半坐臥(2)復甦姿勢(3)平躺。
55	1	執行 CPR(心肺復甦術)後，患者已逐漸恢復呼吸及心跳，請問依照現在此患者的狀況，最適合的姿勢為何者？(1)復甦姿勢(2)平躺(3)半坐臥。
56	2	有名患者為大面積的嚴重燒傷，下列處置何者錯誤？(1)馬上大量沖水(2)不管是否傷口沾黏立即脫去衣物(3)靜脈注射補充電解質。
57	3	對於昏迷或是意識不清的患者，要如何幫助其維持體溫？(1)給予患者熱飲(2)使用熱水(3)給予覆蓋毛毯。
58	2	進行 CPR(心肺復甦術)每 2 分鐘，評估效果，應先檢查哪一項？(1)呼吸(2)脈搏(3)意識。
59	3	成人有效的人工呼吸法為何？(1)口對鼻(2)隔空傳氣(3)口對口。
60	1	開始施行心肺復甦術後，不可中斷超過幾秒鐘以上？(1)10 秒(2)13 秒(3)15 秒。
61	1	施行 CPR(心肺復甦術)時，在給予人工呼吸時，若無法吹入氣體則應如何處理？(1)重新打開呼吸道，再吹 1 口氣(2)放棄急救(3)馬上施行胸部按壓。
62	2	CPR(心肺復甦術)實施程序：「叫→叫→C→A→B→D」中的「D」是指(1)壓額提下巴(2)取得 AED(自動體外心臟去顫器)去顫(3)死亡。
63	3	停止施行 CPR(心肺復甦術)的理由為何？(1)救護人員到達接替救護工作(2)傷患已恢復心跳(3)以上皆是。
64	3	血色鮮紅血液連續作噴狀流出係：(1)靜脈出血(2)微血管出血(3)動脈出血。
65	2	斷骨穿出皮外大量流血時，應先(1)企圖把斷骨推回原位(2)止血(3)送醫。
66	2	騎車途中，目睹車禍發生應(1)儘速駛離現場(2)暫留現場協助救護，並向警方處理人員作證(3)如有查詢謊稱未看到，以免波及官司。
67	2	 (1)路面高突(2)路滑(3)禁止超車。

題號	答案	題目內容
68	3	 <p>(1)注意右側落石(2)斷崖(3)注意左側落石。</p>
69	1	 <p>(1)注意右側落石(2)注意左側落石(3)危險路面。</p>
70	1	 <p>(1)右側斷崖(2)碼頭堤岸(3)注意右側落石。</p>
71	2	 <p>(1)警告號誌(2)危險(3)慢行。</p>
72	2	 <p>(1)此路不通(2)救護站(3)醫院。</p>
73	2	<p>機車發生交通事故後，關於事故現場清除作業，下列敘述何者正確？</p> <p>(1)事故雙方已完成拍照存證且對責任歸屬無爭議時，得逕行清除現場恢復交通</p> <p>(2)應等待肇事處理機關指示後，方可進行現場清除作業</p> <p>(3)僅造成車輛輕微損傷且未妨礙交通之事故，得自行清除現場後再行報案</p>
74	1	<p>機車發生道路交通事故後，關於車輛移置及報警義務，下列敘述何者正確？</p> <p>(1)無人傷亡且車輛尚能行駛時，應先標繪車輛位置或以攝影記錄後，將車輛移置不妨礙交通處，並仍應通知警察機關</p> <p>(2)無人傷亡且雙方當場和解者，應先標繪車輛位置後移置車輛，但得免通知警察機關</p> <p>(3)有人受傷時，無論當事人是否同意，均不得移動車輛，應維持現場完整等待警察到場</p>
75	2	<p>機車駕駛人肇事致他人受傷時，關於現場處置之優先順序，下列敘述何者正確？</p> <p>(1)應先報警並保持現場完整，待警方指示後再對傷者進行救護，以免影響肇責釐清</p> <p>(2)應立即對傷者採取救護措施並通知消防機關，同時依規定進行現場標示及報警</p> <p>(3)應先以攝影完整記錄現場及傷者位置後，再行救護並報警處理</p>
76	1	<p>機車發生交通事故後，關於通報處理之方式，下列敘述何者正確？</p> <p>(1)應立即撥打 110 報案，簡要說明事故地點、傷亡情形，並依指示進行後續處置</p> <p>(2)應先完成現場拍照蒐證及車輛位置標繪後，再行報案以提供較完整之事故資訊</p> <p>(3)應先與對方確認雙方損害程度及責任歸屬後，再視情況決定是否報案</p>
77	1	<p>駕駛人因違反道路交通管理處罰條例規定，其駕駛執照被吊銷後，除特定重大違規情形外，多久時間內不得重新考領？</p> <p>(1)應經 1 年</p> <p>(2)應經 3 年</p> <p>(3)應經 5 年</p>

題號	答案	題目內容
78	2	實行心肺復甦術（CPR）時，關於傷患的姿勢，下列何者正確？ (1)傷患的頭部要高於心臟 (2)確保傷患仰臥於堅硬的平面上 (3)可隨意搬動傷患以利急救
79	2	當病患疑似頸椎受傷時，急救時應如何處理呼吸道？ (1)使用壓額抬下巴法暢通呼吸道 (2)小心固定傷患頭頸部後，使用下顎推拉法暢通呼吸道 (3)先確認是否清醒，再進行心肺復甦術

禁止不當行為（酒駕、不使用手機、危險駕駛）

題號	答案	題目內容
80	3	在行車中途，精神疲勞，稍有睡意，你應該怎麼辦： (1)繼續駕駛 (2)擦抹萬金油及藥物，助長精神照常行駛 (3)到最近安全處所停車，下車稍作休息，消除疲勞再駕駛。
81	3	酒後駕車，對駕駛人會產生「視覺之隧道效應」，駕駛者猶如在隧道中行車，前有亮光但四周漆黑，故酒後駕車：(1)視野不變(2)視野變廣(3)視野變窄。
82	1	行駛於公路時，亂拋擲物品、煙蒂或火種：(1)是極不道德的危險行為(2)只要我高興有什麼不可以(3)避免車子髒亂，應該丟棄。
83	3	機車駕駛人以後輪著地、蛇行駕駛因而肇事者，應(1)僅勸導之(2)罰鍰並沒入車輛(3)罰鍰並吊銷其駕駛執照。
84	1	酒精濃度超過規定標準，駕車肇事致人重傷或死亡者，經吊銷駕駛執照後，依規定： (1)終身不得考領駕駛執照，且無重新考領之機會 (2)終身不得考領駕駛執照，但符合特定條件得重新考領 (3)3年後得重新考領駕駛執照
85	1	駕駛人在道路上以蛇行或僅以後輪著地等危險方式駕車因而肇事者，應處(1)罰鍰並吊銷駕照(2)吊扣駕照(3)罰鍰。
86	1	機車駕駛人行駛於道路時，以手持方式使用行動電話、電腦或其他相類功能裝置進行撥接、通話、數據通訊或其他有礙駕駛安全之行為者，將受何種處分？ (1)處罰鍰 (2)僅施以道安講習 (3)勸導。
87	1	機車駕駛人患病影響安全駕駛、或飲用酒類後其吐氣所含酒精濃度達每公升 0.15 毫克者，(1)不得開車(2)照常可以駕駛(3)開車時不可太快。
88	3	機車所有人，明知駕駛人有酒後駕車之情形而不予禁止，除處以罰鍰外，並應吊扣其機車牌照(1)3 個月(2)1 年(3)2 年。
89	1	駕駛人駕駛汽車經測試檢定，其吐氣所含酒精濃度不得達每公升 (1)0.15 毫克(2)0.25 毫克(3)0.55 毫克。
90	2	酒精、麻醉劑及興奮劑中毒者，可否參加駕駛執照考驗？(1)可以 (2) 不可以(3)須先通過直線平衡測試才可以。

題號	答案	題目內容
91	3	任意以迫近、驟然變換車道或其他不當方式，迫使他車讓道等危險方式駕車因而肇事者，應處(1)罰鍰(2)吊扣駕照(3)罰鍰並吊銷駕照。
92	3	非遇突發狀況，在行駛途中任意驟然減速、煞車或於車道中暫停等危險方式駕車因而肇事者，應處(1)罰鍰(2)吊扣駕照(3)罰鍰並吊銷駕照。
93	3	駕駛人駕駛汽車行經警察機關設有告示執行酒測或毒品檢定之處所，不依指示停車接受稽查，或拒絕接受該項測試之檢定者(1)處罰鍰，並當場移置保管該汽車(2)吊銷該駕駛執照及施以道路交通安全講習 (3)以上皆是。
94	1	騎乘機車遭舉發違規酒駕，於何種違規樣態將處駕駛人新臺幣 9 萬元罰鍰、吊銷駕照 3 年及施以道路交通安全講習(1)於 10 年內第 2 次再次遭舉發違規酒駕(2)不依指示停車接受酒測稽查或拒絕酒測(3)以上皆是。
95	2	騎乘機車遭舉發違規酒駕，於幾年內再次遭舉發違規酒駕，將處罰鍰 9 萬元、吊銷駕照 3 年，及施以道安講習之處分?(1)5 年(2)10 年 (3)12 年。
96	3	機車駕駛人於下列何種情況下，可以使用行動電話、電腦或其他相類功能裝置進行撥接、通話、數據通訊?(1)行進中(2)等待紅燈的時候 (3)將機車停靠於路邊。
97	2	機車駕駛人於 10 年內，經測試檢定酒後駕車第 2 次，當場移置 保管該機車及吊銷其駕駛執照 3 年，並處罰鍰新臺幣(1)6 萬元 (2)9 萬元(3)12 萬元。
98	2	駕駛人任意以迫近、驟然變換車道或其他不當方式，迫使他車讓道者，除罰鍰外，並當場禁止其駕駛及吊扣該汽車牌照(1)3 個月(2)6 個月(3)12 個月。
99	3	有關機車號牌規定下列何者不正確?(1)應正面懸掛於車輛後端之明顯適當位置(2)不得變造損毀、塗抹或粘貼其他材料、加裝邊框或霓虹燈、裝置旋轉架(3)可裁剪或扭曲懸掛。
100	1	於身心障礙專用停車位違規停車者(1)罰鍰(2)吊扣牌照(3)勸導。
101	2	駕駛人不在未劃分標線道路之中央右側駕車者，應處：(1)吊扣駕駛執照(2)罰鍰(3)吊扣行車執照。
102	3	汽車駕駛人於道路上併排停車，依規定應處罰鍰新臺幣： (1)1,200 元以上 2,400 元以下 (2)2,400 元以上 3,600 元以下 (3)1,800 元以上 3,000 元以下
103	3	汽機車駕駛人經酒精濃度測試檢定超過標準值，第 1 次違規除罰鍰、當場移置保管該汽機車外，並吊扣駕駛執照：(1)3 個月(2)6 個月(3)1~2 年。
104	3	機車所有人已領有號牌而不懸掛或不依指定位置懸掛者，應處罰： (1)罰鍰並吊扣牌照(2)罰鍰並吊銷牌照(3)罰鍰並禁止其行駛及吊銷牌照。
105	2	牌照借供他車使用或使用他車牌照行駛者，除罰鍰外，並應：(1)吊扣牌照(2)吊銷牌照(3)沒入車輛。
106	1	機車所有人明知駕駛人酒精濃度超過規定標準，仍不予禁止其駕駛該機車，應處罰鍰新臺幣： (1)15,000 元以上 90,000 元以下 (2)30,000 元以上 120,000 元以下

題號	答案	題目內容
		(3)6,000 元以上 12,000 元以下。
107	3	四輪以上車輛駕駛人於 10 年內，經測試檢定酒後駕車第 2 次，當場移置保管該汽車及吊銷其駕駛執照 3 年，並處罰鍰新臺幣(1)6 萬元 (2)9 萬元 (3)12 萬元。
108	1	駕駛人若拒絕接受酒精濃度測試檢定者，除處罰鍰新臺幣 180,000 元，並：(1)吊銷其駕駛執照(2)吊扣其駕駛執照(3)吊扣其行車執照。
109	2	酒精濃度超過規定標準駕車之違規人，於 10 年內違反酒後駕車之規定 2 次以上者，除處罰鍰，及當場移置保管該機車，並應：(1)吊扣其行車執照(2)吊銷其駕駛執照(3)吊扣其駕駛執照。
110	2	駕駛人在快車道上依規定行駛，因行人或慢車不依規定，擅自進入快車道，而致人受傷或死亡，依法應負刑事責任者：(1)一樣不變(2)減輕其刑(3)加重其刑。
111	2	駕駛人無照駕駛或酒醉駕車因而致人受傷或死亡，依法應負刑事責任者，加重其刑至(1)三分之一(2)二分之一(3)一倍。
112	1	拼裝車輛未經核准領用牌證行駛或報廢車仍行駛道路者，除禁止其行駛外，其車輛(1)沒入之並罰鍰(2)公告拍賣之(3)繳清罰鍰後始得領回。
113	3	下列何種違規行為得對車輛所有人逕行舉發處罰：(1)無照駕駛 (2)酒醉駕車(3)違規停車而駕駛人不在場。
114	3	哪些駕駛行為，得以科學儀器取得證據資料，逕行舉發處罰：(1)超速(2)未保持安全距離(3)以上皆是。
115	2	騎乘機車在設有快慢車道分隔線之慢車道，時速不得超過(1)30 公里 (2)40 公里(3)50 公里。
116	3	行駛於有劃分島劃分快慢車道之道路，(1)在慢車道行駛車輛不得左轉(2)在快車道行駛車輛不得右轉(3)以上皆是。
117	3	機車駕駛人，行經有燈光號誌管制之大眾捷運系統車輛共用通行交岔路口闖紅燈，經當場舉發者： (1)罰鍰新臺幣 1,800~5,400 元並予違規記點 (2)吊扣駕照 1 個月 (3)罰鍰新臺幣 3,600~10,800 元並予違規記點
118	2	公園出入口設有禁止機車進入標誌，但未設置車(路)阻，請問機車駕駛人可以騎車進公園嗎？(1)可以(2)不可以(3)不一定，視情況而定。
119	3	 (1)岔路(2)此路不通(3)匝道會車。
120	2	 (1)岔路(2)匝道會車 (3)狹橋。
121	2	小型輕型、普通輕型及普通重型機車後座附載人員的規定，何者正確？

題號	答案	題目內容
		(1)在駕駛人後設有固定座位者，得附載1人 (2)小型輕型機車禁止附載人員 (3)僅有重型機車可以附載人員
122	3	關於「騎車或停等紅燈時使用手機」的敘述，下列何者正確？ (1)只要車輛沒有移動，就能安全使用手機 (2)視情況而定，只要不被警察看到即可 (3)這樣做會分心，屬於錯誤且危險的行為
123	3	機車短小輕便且機動性高，下列駕駛行為敘述何者正確？ (1)可以併行競駛 (2)可以快速穿越車縫及行人穿越道 (3)應減速慢行並遠離大型車，避免進入內輪差及視野死角
124	1	行車中，突然有疲倦感想睡覺，下列行為何者正確？ (1)應尋覓適當地點休息，待精神恢復再上路 (2)增加行車速率，以提振精神 (3)只要降低行車速度，就不會影響行車安全
125	2	駕駛人服用感冒藥或鎮定劑後，關於駕駛車輛之安全考量，下列敘述何者正確？ (1)服用後若未感到明顯嗜睡或不適，經短暫休息後即可駕駛 (2)此類藥物可能影響反應力與判斷力，服用後應避免駕駛 (3)一般非處方感冒藥劑量較低，對駕駛能力無顯著影響，可正常駕駛
126	2	駕駛人因身體或精神狀況影響安全駕駛能力時，關於是否得駕駛車輛，下列敘述何者正確？ (1)輕微疲勞或身體不適時，只要提高警覺並縮短行駛距離，仍可駕駛 (2)精神不濟或患有影響安全駕駛之疾病者，不得駕駛車輛 (3)服用感冒藥或止痛藥後若未感到明顯嗜睡，仍可正常駕駛
127	2	機車駕駛人行車時，以手持方式使用行動電話或其他電訊設備，將受何種處罰？ (1)免處罰鍰 (2)處罰鍰 (3)吊扣駕照
128	2	機車在單一車道內，與他車並行，被現場舉發將處以何種處罰？ (1)只記點不罰鍰 (2)處罰鍰並記違規點數 (3)罰鍰不記點
129	3	機車變換車道或轉彎時，未依規定顯示方向燈，經當場舉發，會造成何種處罰？ (1)不會處罰 (2)處罰鍰並吊銷駕照 (3)處罰鍰並記違規點數
130	2	依道路交通安全管理處罰條例規定，機車對於人行道之使用，下列何者正確？ (1)機車得以低速在有人行道之路段通行 (2)機車不得在人行道行駛 (3)機車於特殊狀況（如壅塞）得暫時行駛人行道
131	2	關於機車附載後座乘客之乘坐方式，下列敘述何者正確？ (1)後座乘客穿著裙裝或行動不便時，得採側坐方式以維護乘坐便利 (2)後座乘客應正面跨坐，不得側坐 (3)後座乘客於低速行駛或短程接送時，得採側坐方式乘坐
132	3	機車駕駛人若感到疲倦或連續駕車時間過長時，應如何處置？ (1)只要精神狀況尚可，仍可繼續駕駛

題號	答案	題目內容
		(2)應以降低車速的方式，繼續保持行駛，避免疲勞 (3)應立即尋找安全地點停車休息，待體力恢復後方得繼續駕駛
133	1	機車駕駛人行經設有學校、醫院標誌之路段，不減速慢行，經交通勤務警察攔截，若未嚴重危害交通安全、秩序，且情節輕微，依法如何處罰？ (1)交通勤務警察得對其施以勸導，免予舉發 (2)應處罰鍰，並上道安講習 3 小時 (3)僅處罰鍰
134	2	關於機車安全駕駛行為，下列敘述何者正確？ (1)行經路口時若號誌為綠燈，應加速通過以減少滯留路口之時間 (2)行經路口時應依規定減速慢行，並注意左右來車及行人動態 (3)行經路口前應變換至車陣前方位置，以確保擁有較佳視野及優先起步
135	3	闖紅燈經逕行舉發之處罰，下列何者正確？ (1)不罰鍰，只記違規點數 (2)處罰鍰，並記違規點數 (3)處罰鍰，但不記違規點數
136	2	闖紅燈未肇事經當場舉發，對駕駛人應給予什麼處罰？ (1)吊銷其駕照 (2)處以罰鍰並記違規點數 (3)吊扣其駕照
137	3	機車駕駛人酒後駕車，下列何者正確？ (1)不會受罰 (2)只會處罰鍰 (3)會處罰鍰、吊扣駕照及參加道安講習
138	3	機車駕駛人因酒精濃度超過規定標準而駕車，致人受傷或死亡者，應處以何種處罰？ (1)處罰鍰並吊扣駕照 (2)處罰鍰並吊銷駕照 (3)依刑法規定處理（如公共危險罪），並吊銷駕照
139	3	機車駕駛人酒駕違規 10 年內第 2 次違規者，其罰鍰處分為？ (1)處新臺幣 3 萬元罰鍰 (2)處新臺幣 6 萬元罰鍰 (3)處新臺幣 9 萬元罰鍰
140	2	駕駛人因酒醉駕車而肇事致人重傷死亡，對其駕駛執照之處分，下列何者正確？ (1)吊銷駕駛人駕駛執照 3 年 (2)吊銷駕駛人駕駛執照，並終身不得再考領 (3)吊扣駕駛人駕駛執照 2 至 4 年，期滿得再次考領
141	3	駕駛人騎乘機車經酒測值超過規定標準時，關於其行政處罰，下列敘述何者正確？ (1)初次違規且酒測值輕微超標者，得以勸導講習代替吊扣駕照處分 (2)違規當下未發生交通事故者，僅處罰鍰，免予吊扣駕照 (3)初犯應處罰鍰及吊扣駕照
142	1	機車駕駛人經測試檢定酒精濃度超過規定標準，且未肇事致人受傷或死亡者，除處以罰鍰外，其駕駛執照應處以何種處分？ (1)吊扣其駕駛執照 1 年至 2 年，並當場移置保管該機車 (2)吊扣其駕駛執照 6 個月，並處以道安講習 (3)吊銷其駕駛執照，且 3 年內不得重新考領
143	2	機車駕駛人若初次拒絕接受酒精濃度測試之檢定（拒絕酒測），將面臨何種處罰？ (1)處新臺幣 12 萬元罰鍰，並吊扣其駕駛執照 1 年

題號	答案	題目內容
		(2)處新臺幣 18 萬元罰鍰，並當場吊銷其駕駛執照 (3)處新臺幣 9 萬元罰鍰，並施以道路交通安全講習
144	2	機車駕駛人酒精濃度超過規定標準而駕車者，第一次違規最高可處多少罰鍰？ (1)新臺幣 6 萬元 (2)新臺幣 9 萬元 (3)新臺幣 12 萬元
145	3	機車駕駛人酒駕且附載未滿 12 歲兒童者，會面臨何種處罰？ (1)僅處以罰鍰 (2)吊扣其駕駛執照 3 個月 (3)除罰鍰外，並吊扣其駕駛執照
146	2	吐氣酒精濃度達每公升 0.25 毫克或吸食毒品、迷幻藥、麻醉藥品或其相類似之管制藥品，致不能安全駕駛動力交通工具而駕駛者，處何種刑罰？ (1)處 1 年以下有期徒刑 (2)處 3 年以下有期徒刑 (3)處 5 年以下有期徒刑


行車檢查（設備、燈光）

題號	答案	題目內容
147	2	檢查機車的煞車時，輕抓煞車拉桿，應有保留多少間隙？(1)不應有間隙(2)應要有 1 至 2 公分間隙(3)應要有 3 至 4 公分以上間隙。
148	1	機車消音器損壞後，不加修復仍然行駛者，依道路交通管理處罰條例應處(1)罰鍰並責令改正(2)交通警察告誡(3)吊扣牌照。
149	1	駕駛機車起駛前(1)應顯示方向燈，注意前後左右有無障礙或車輛行人(2)看側方有無車輛通過(3)看清前方路面。
150	3	駕駛人在起駛前應(1)鳴按喇叭(2)顯示方向燈，儘快駛入車道(3)顯示方向燈，注意前後左右有無障礙或車輛行人。
151	3	遇有緊急或危險情況按鳴喇叭時，應以單響為原則，並(1)不得連續按鳴 3 次(2)每次時間不得超過半秒鐘(3)以上皆是。
152	3	於下列何種情形行駛時應開亮頭燈？(1)遇濃霧、雨、天色昏暗或視線不清時(2)行經隧道時(3)以上皆是。
153	1	有關機車煞車燈燈色，下列何者正確？(1)紅色(2)橙色(3)黃色。
154	3	機車裝設霧燈之規定，以下何者正確？(1)前後霧燈應為 1 盞或 2 盞(2)前霧燈限用黃色或淡黃色或白色，後霧燈限用紅色(3)以上皆是。
155	1	機車頭燈之燈色應為(1)白色或淡黃色(2)藍色(3)沒有規定。
156	1	煞車燈之規定，何者不正確？(1)燈色應為淡黃色(2)煞車作用時，應為續亮，不得閃爍(3)應為紅色。
157	3	方向燈燈色應為(1)紅色(2)黃色(3)橙色。
158	1	小型輕型機車之輪胎直徑之規定為何？應在(1)300 公釐以上，420 公釐以下(2)200 公釐以上，400 公釐以下(3)250 公釐以上，350 公釐以下。

題號	答案	題目內容
159	2	小型輕型機車車輛空重（含電池）應在（1）75 公斤以下（2）70 公斤以下（3）65 公斤以下。
160	3	機車排氣管隔熱防護裝置（1）不影響騎車操作所以可不裝（2）隨興可裝可不裝（3）為避免燙傷他人，規定均需安裝。
161	3	機車設備下列何者不正確？（1）不得裝設可發出不同音調之喇叭（2）左右兩側之照後鏡不得拆除（3）擋泥板可以不裝。
162	1	現行機車出廠滿幾年辦理轉讓過戶時需要參加臨時檢驗？（1）5 年（2）7 年（3）10 年。
163	1	機車因故辦理停駛，期限最多不得超過（1）1 年（2）1 年半（3）2 年。
164	1	報廢之車輛（1）不得再行申請登記檢驗領照使用（2）修復後可申請登記檢驗領照使用（3）無規定。
165	2	機車發生交通事故遭受重大損壞，經修復後應實施（1）定期檢驗（2）臨時檢驗（3）申請牌照檢驗。
166	1	機車全高不得超過：（1）2 公尺（2）2.5 公尺（3）3 公尺。
167	3	機車裝置照後鏡，其功能為（1）增加車輛平衡（2）方便駕駛人整理儀容（3）幫助駕駛人增加兩側視野。
168	1	速克達型（無段變速型）機車之煞車拉桿（1）右手控制前輪、左手控制後輪（2）左手控制前輪、右手控制後輪（3）左手、右手同時控制前、後輪。
169	2	車輛長時間停放未使用，最好多久發動 1 次，每次 3-5 分鐘，以維持車輛引擎最佳啟動狀況？（1）每季（2）每週（3）每月。
170	3	汽油引擎正常之排氣顏色為（1）黑色（2）藍白色（3）無色。
171	2	機車引擎之排氣顏色為黑色，可能為（1）汽油完全燃燒（2）汽油燃燒不完全（3）燃燒引擎機油。
172	2	機車排放廢氣中會造成地球溫室效應的主要氣體是哪一種？（1）一氧化碳（2）二氧化碳（3）水蒸氣。
173	3	檢查機車引擎機油時（1）引擎熄火（2）停在平坦地面（3）以上皆是。
174	1	機車引擎機油除定期檢查外（1）應定期更換（2）不須更換（3）視機油廠牌而定。
175	2	添加機油時，應由何處加入？（1）機油尺孔（2）引擎上機油蓋口（3）汽油箱蓋口。
176	3	機車是否更換機油濾清器？（1）視機油廠牌而定（2）不須更換（3）按照機車使用手冊規範而定。
177	2	夜間或黑暗處，檢查電瓶液時，不可使用之照明工具為（1）手電筒（2）打火機（3）電源工作燈。
178	2	電瓶樁頭塗上何物，可以防止腐蝕並使導電良好？（1）油漆（2）黃油（3）柏油。
179	2	機車起動馬達使用之電源來自（1）發電機供給（2）電瓶供給（3）引擎供給。
180	1	機車安裝空氣濾清器的主要目的是（1）避免吸入空氣中沙塵損傷汽缸（2）減少機車運轉噪音（3）過濾排放廢氣，減少污染。
181	1	輪胎氣壓不足時，易造成（1）輪胎兩側磨損（2）輪胎中央磨損（3）轉向變輕。

題號	答案	題目內容
182	3	輪胎氣壓不足時，易造成(1)輪胎兩側磨損(2)行駛耗油增加(3)以上皆是。
183	2	輪胎氣壓太高時，易造成(1)輪胎兩側磨損(2)輪胎中央磨損(3) 行駛耗油增加。
184	3	輪胎氣壓過高時，易造成(1)車輛避震器加速損壞(2)輪胎中央磨損(3) 以上皆是。
185	2	輪胎胎面中央的花紋有較嚴重磨耗，其原因為(1)輪胎氣壓太低(2)輪胎氣壓太高(3)車輛載重過大。
186	3	車胎過度磨損(1)不致危險(2)乘坐較舒適(3)會影響車輛轉向及煞車距離。
187	3	機車輪胎之胎紋深度小於多少應即更換？(1)2 公釐(2)1.5 公釐(3)達到輪胎的磨耗指示點。
188	3	機車輪胎規格 3.50-10-8PR 表示(1)輪胎寬度 3.5 英吋(2)輪胎內徑 10 英吋 (3)以上皆是。
189	3	駕駛人檢查輪胎之內容主要為(1)檢查胎壓是否正常(2) 檢查輪胎外表是否龜裂、損傷或異常磨損(3)以上皆是。
190	2	輪胎構造中，哪一部分強度最弱？(1)胎面(2)胎邊(胎腹)(3)胎唇。
191	2	檢查輪胎氣壓必須於(1)行駛後輪胎胎溫高於常溫時(2)行駛前輪胎胎溫處於常溫時(3)隨時均可。
192	3	輪胎氣壓太低會造成(1)胎邊容易受損而造成爆胎(2)增加摩擦阻力而增加油耗(3)以上皆是。
193	3	輪胎應受保護(1)避免接近熱源(2)避免接觸礦油類相關油質(3)以上皆是。
194	2	建議使用之輪胎，以輪胎製造後不超過(1)3 年(2)6 年(3)9 年為原則。
195	1	機車輪胎上的胎紋最主要功能為何？(1)排水及增加摩擦力(2)增加行駛速度(3)防止輪胎表面龜裂。
196	3	輪胎製造日期編號：MMD1213 表示 (1)2013 年 12 月(2)2012 年第 13 週 (3)2013 年第 12 週。
197	3	輪胎胎紋太淺之危險性：(1)影響輪胎摩擦力及抓地力，易延長煞車距離而發生事故(2)雨天行駛時輪胎排水性變差，易發生打滑失控(3) 以上皆是。
198	1	機車照後鏡之使用，何者不適當？(1)行進中與前車距離很近時，需觀看照後鏡以利超車(2)行駛前應將照後鏡調整至容易觀察後方車輛或道路狀況之角度與位置(3)可利用等待紅燈時間調整照後鏡。
199	3	購買安全帽(1)必須貼有標準檢驗局之認證合格標籤(2)應選擇顏色鮮明或有反光材料之安全帽(3)以上皆是。
200	1	安全帽經強力碰撞後(1)不宜再使用(2)外觀無損壞可繼續使用(3)製造日期於 3 年內外觀無損壞可繼續使用。
201	1	機車附載成員未戴安全帽(1)處罰駕駛人(2)處罰附載成員(3)不處罰。
202	1	下列敘述何者正確？(1)胎面與輪胎磨耗指示平齊時，表示需更換輪胎(2) 胎面與輪胎磨耗指示垂直時，表示需更換輪胎(3) 機車輪胎任一點胎紋深度達 1.6 公釐時，表示需更換輪胎。
203	3	下列何者非騎車出發前之必要動作(1)檢查燈光(2)確認胎壓(3)暖車。

題號	答案	題目內容
204	3	機車照後鏡之敘述，何者錯誤？(1)大多為凸面鏡(2)幫助騎士掌握車輛後方狀況(3)行進中若發現照後鏡無法順利觀察後方狀況，行駛中應即刻進行調整。
205	2	機車駐車架之敘述，何者錯誤？(1)可分為主腳架與側腳架(2)屬於需作經常性更換之零件(3)側腳架較不穩固，僅建議於短暫停車時使用。
206	3	機車方向燈之敘述，下列何者錯誤？(1)用以提醒前後方來車，本車欲轉彎之方向(2)燈色應為橙色(3)可依路況決定轉彎前是否顯示。
207	2	機車基本配件及功能下列何者正確？(1)照後鏡會阻礙機車於車陣中穿梭之流暢，必要時可拆除(2)頭燈包含遠光燈與近光燈(3)照後鏡屬於凹面鏡。
208	2	騎乘機車如果爆胎，第一時間應(1)立即煞車(2)放鬆油門(3)轉動方向把手。
209	3	機車改裝，下列何者有違規定？(1)擅自裝設高亮度 HID 頭燈(2)將排氣管往上翹(3)以上皆有違規定。
210	3	選用安全帽之原則(1)愈緊愈好，避免被風吹走(2)選深色的，比較不易髒(3)以上皆非。
211	2	下列何項不會顯示於機車儀表板？(1)遠光燈指示(2)輪胎磨耗指示(3)行車速度指示。
212	2	以下何者非機車懸吊裝置之主要功能？(1)減少輪胎磨損(2)能增加引擎動力(3)使車輛能更安全與舒適的操控。
213	1	機車煞車方式要隨外在環境調整，在乾燥或下坡路段(1)前輪煞車為主、後輪煞車為輔(2)後輪煞車為主、前輪煞車為輔(3)前、後輪煞車平均分配。
214	2	機車煞車方式要隨外在環境調整，在濕滑或上坡路段(1)前輪煞車為主、後輪煞車為輔(2)後輪煞車為主、前輪煞車為輔(3)前、後輪煞車平均分配。
215	1	更換機車電瓶時，先將主開關鑰匙轉至“OFF”位置，再拆卸電瓶，步驟為：(1)先拆負極線，再拆正極線(2)先拆正極線，再拆負極線(3)先拆後拆都可以。
216	3	空氣濾清器如堆積塵埃，造成：(1)馬力降低(2)耗油(3)以上皆是。
217	1	 <p>(1)車輛寬度限制(2)禁止停車(3)車輛高度限制。</p>
218	1	 <p>(1)車輛長度限制(2)車寬限制(3)禁止汽車進入。</p>
219	2	 <p>(1)停車再開(2)停車檢查(3)禁止行人通行。</p>

題號	答案	題目內容
220	2	 <p>(1)停車再開(2)停車檢查(3)禁止通行。</p>
221	2	<p>使用機車時，除了注意是否有汽油外，下列敘述何者正確？</p> <p>(1)不需要額外做基本保養 (2)需額外做基本保養，以確保車況 (3)只需要檢查輪胎胎紋深度</p>
222	2	<p>機車煞車時出現異常聲響，關於處置方式，下列敘述何者正確？</p> <p>(1)若異音僅於潮濕天氣出現且煞車功能正常，屬正常現象無須特別處理 (2)應儘速至合格機車行由專業技師檢查煞車系統，確認異常原因並進行必要檢修 (3)可自行檢視來令片厚度，若尚未磨損至警示線則無安全疑慮</p>
223	3	<p>機車行車前應實施安全檢查，關於檢查項目，下列敘述何者正確？</p> <p>(1)主要檢查煞車及輪胎狀況，確認制動系統正常即可安全上路 (2)機車出廠前已通過安全檢驗，日常騎乘僅需於定期保養時進行全面檢查 (3)應檢查燈光、方向燈、煞車、輪胎、喇叭及照後鏡等項目，確保各系統正常運作</p>
224	1	<p>有關安全帽的注意事項，下列敘述何者錯誤？</p> <p>(1)受過撞擊之安全帽，如外觀無損壞，則可正常使用不必更換 (2)頭帶長度不宜過長或過短，約留1指空間大小 (3)扣子應該在下巴後方，保留1指縫的空間，並且旋鈕緊固</p>
225	2	<p>機車駕駛人及附載乘客配戴安全帽時，關於帽帶之扣繫方式，下列敘述何者正確？</p> <p>(1)帽帶扣繫後應保留約一至二指寬之鬆緊度，以兼顧舒適性與透氣需求 (2)安全帽應正面配戴並將帽帶確實扣緊，使安全帽穩固貼合頭部 (3)短程騎乘或低速行駛時，帽帶僅需輕扣固定，無須緊繫</p>
226	2	<p>關於機車安全帽之選購，下列敘述何者正確？</p> <p>(1)選購時應以配戴舒適度及通風散熱性能為首要考量 (2)應選購貼有經濟部標準檢驗局商品檢驗標識之合格安全帽 (3)進口品牌安全帽通過國際安全認證者，其防護性能較國內檢驗標準更為嚴格，可安心選購</p>
227	3	<p>關於機車車燈之改裝或加工，下列敘述何者正確？</p> <p>(1)車燈黏貼透明保護膜以防止刮傷，且不影響燈光亮度者，符合規定 (2)加裝經檢審驗合格之高亮度燈泡以提升夜間照明效果，符合規定 (3)車燈不得噴色、黏貼膠紙或加裝燈罩，以免影響辨識效果</p>
228	3	<p>關於機車排氣管之改裝規定，下列敘述何者正確？</p> <p>(1)更換為通過環保署認證且排放值合格之排氣管，符合改裝規定 (2)使用原廠同型號零件更換排氣管位置，因未變更規格故符合規定 (3)排氣管不得變更數量及位置，亦不得拆除消音器或觸媒裝置</p>
229	3	<p>機車在引擎發動前，應檢查的項目為何？</p> <p>(1)僅須檢查汽油量 (2)僅須檢查機油量 (3)須檢查機油及汽油量</p>
230	3	<p>下列何者是量測機車機油量最準確的時機？</p> <p>(1)剛停車熄火時 (2)機車發生傾斜時 (3)機車靜置於平坦處，引擎熄火一段時間後</p>
231	3	<p>關於機車輪胎氣壓的敘述，下列何者正確？</p> <p>(1)充氣氣壓愈高愈佳 (2)胎壓應當低於原廠規定，以增加抓地力 (3)胎壓應符合原廠規定，且胎紋深度足夠</p>

題號	答案	題目內容
232	3	若車輛輪胎胎壓「過高」，則輪胎何處磨損會最嚴重？ (1)胎紋的兩側 (2)胎紋的內側部分 (3)胎紋的中央部分
233	1	機車儀錶板上用以表示行駛里程累積數的是下列何者？ (1)里程計 (2)速度表 (3)轉速表
234	2	機車油量表顯示「E」時，表示什麼意思？ (1)油量充足，可以繼續行駛 (2)表示油量已不高，應儘速加油 (3)機油不足，應添加機油
235	2	關於大型重型機車（逾 250c.c.）的定期檢驗規定，下列敘述何者正確？ (1)出廠滿 1 年後，每年應至少檢驗 1 次 (2)出廠年份未滿 5 年者，免予定期檢驗 (3)出廠滿 5 年以上者，每滿半年應檢驗 1 次
236	2	夜間騎乘機車，對向來車持續開啟遠光燈造成眩目，下列何種做法最能確保安全？ (1)以遠光燈回應示意對方切換近光燈 (2)視線略偏向右側路緣標線，維持穩定車速與車道，避免直視對向燈光 (3)減速至路邊停車，等待對向車輛通過

平交道、強制險、環保駕駛、特殊天候、駕駛道德

題號	答案	題目內容
237	2	行車速度愈快，則煞車距離愈長，速度若增加 1 倍，煞車距離即會增為(1)2 倍(2)4 倍(3)8 倍。
238	2	行車速度愈快，駕駛人的視野(1)不變(2)愈狹窄(3)愈寬廣。
239	1	行駛在積水路段，應(1)低速行駛(2)快速通過(3)多使用煞車。
240	2	對肇事責任鑑定有異議，(1)絕對服從(2)向覆議機關申請覆議(3)向警察機關提出告訴。
241	1	下列何者最接近防衛駕駛觀念？(1)即使自己遵守交通規則，還是必須小心防範他人違規對自己造成傷害(2)選購耐撞車種，並加強安全配備(3)騎在路中間，大家都看得到。
242	1	行車安全距離的描述，下列何者錯誤？(1)因機車車身小，故行駛其後所保持的安全距離與同車速的汽車相比，可以再縮短一些(2)即使停車時也該保持安全距離(3)被超車後應該略為減速重新取得安全距離。
243	2	關於「購買安全帽注意事項」，下列何者錯誤？(1)必須貼有標準檢驗局之認證合格標籤(2)安全帽受過強力撞擊後，若外觀沒有損壞則不必更換(3)應選擇顏色鮮明或有反光材料之安全帽。
244	2	請問應如何選購機車安全帽較為適當？(1)用工程用安全帽，又輕又透風(2)選擇貼有標準檢驗局之認證合格標籤，比較有保障(3)選深色的，比較不容易髒。
245	3	關於內輪差的敘述，何者錯誤？(1)車輛在轉彎時，後輪向內偏移(2)軸距越長的車輛內輪差越大(3)小客車沒有內輪差。
246	1	機車駕駛人行經路面積水路段時應如何操作較恰當？(1)低速行駛(2)多使用煞車(3)快速

題號	答案	題目內容
		通過。
247	1	以下何者「不是」騎乘機車時的危險行為?(1)騎車後座載人 (2)參加車隊夜間狂飆(3)聚餐酒後夜遊。
248	1	車輛行駛彎道時速度愈高，所產生的離心力(1)愈大(2)愈小(3)不變。
249	2	機車緊急煞車時切記不可以用力過猛而鎖死輪胎，並採取(1)放開油門後控制後輪煞車(2)放開油門後使用前後輪煞車(3)放開油門後控制前輪煞車。
250	2	騎乘機車時良好的手肘姿勢為何？(1)向前伸直(2)向身體靠攏(3)向外張開。
251	2	騎車穿越積水路段後，應特別注意(1)試開燈光(2)試拉煞車(3)試轉動油門加油。
252	2	人的身體哪個部位一經撞擊，所產生死亡和後遺症是最高的?(1)四肢 (2)頭部(3)背部。
253	3	路面上積有油污，你騎車因而滑倒，你應該(1)自認倒霉駛離 (2)不必向最近警察派出所報案 (3)用樹枝或其他標識放置兩端，提醒來往車輛注意，並通知警察機關處理。
254	3	在郊外駕車如發現鵝群橫越道路時應 (1)大鳴喇叭促其趕快通過 (2)加速通過鵝群 (3)減速慢行待其通過後再行前進
255	3	汽機車強制保險針對車禍當事人死亡或全殘最高給付新臺幣 (1)10 萬元 (2)20 萬元 (3)200 萬元。
256	1	駕駛人行車速度，超過規定之最高時速經當場舉發者，應處 (1)罰鍰並記違規點數 (2)吊扣行車執照 (3)吊扣駕駛執照。
257	2	駕駛人因違規而被處罰鍰並記點，以後應 (1)不予理會(2)遵守交通規則，勿再違規(3)小心駕駛，以躲避警察取締。
258	3	不服從執行交通勤務之警察或依法令執行交通稽查任務人員之指揮或稽查，經當場舉發者，應處 (1)吊扣駕照 1 個月 (2)吊扣駕照 2 個月 (3)罰鍰並予記點。
259	2	領用牌照不需使用時， (1)可以借供他車使用(2)得向當地公路監理機關申請繳銷(3)自行保存。
260	1	領有重型機車駕駛執照者，可駕駛(1)輕型機車(2)小型貨車(3)小客車。
261	2	駕駛人允許無駕駛執照之人駕駛其車輛者，應吊扣駕駛執照(1)2 個月(2)3 個月(3)4 個月。
262	3	駕駛人使用偽照、變造或矇領之駕駛執照駕車時，應處(1)罰鍰 (2)吊銷駕照(3)罰鍰並扣繳駕照。
263	2	機車(1)可以借用他車牌照行駛(2)不可以借用他車牌照行駛(3)可以自製牌照行駛。
264	2	聞消防車、救護車、警備車、工程救險車、毒性化學物質災害事故應變車之警號，不立即避讓者，應處(1)吊扣駕駛執照 3 個月(2)罰鍰並吊銷駕照(3)罰鍰。

題號	答案	題目內容
265	3	違反道路管理事件行為人，接獲違反道路管理事件通知單後，應於幾天內得不經裁決，逕依罰鍰基準規定，向指定之處所繳納結案？(1)10 天內(2)20 天內(3)30 天內。
266	1	駕駛人駕車撞傷正執行交通勤務中之警察時，(1)吊銷駕照並處罰鍰 (2)吊扣駕照並處罰鍰 (3)處最高罰鍰。
267	1	駕駛執照破損不易辨明時，要(1)申請換發(2)重行考領(3)仍可持以行駛。
268	3	駕駛人超速駕車者，但行車速度未超過規定之最高時速 40 公里以上，經當場舉發，應處以 (1)罰鍰 (2)罰鍰並吊扣駕照 1 個月 (3)罰鍰並記違規點數 1 點。
269	3	將駕照借供他人駕車，處罰吊扣駕照(1)1 個月 (2)2 個月(3)3 個月。
270	3	利用機車犯罪，經判決有期徒刑以上之刑確定者，除吊銷駕駛執照外 (1)1 年內不得考領(2)3 年內不得考領(3)終身不得考領（但符合特定條件，且所受吊銷駕駛執照處分，執行已逾相關規定時間者，不在此限）。
271	1	違反道路交通安全規則，因而肇事致人重傷者，吊扣其駕照(1)3 個月至 6 個月(2)1 個月至 2 個月(3)2 個月至 4 個月。
272	1	駕駛人如肇事致人重傷或死亡，應即時處理，並向警察機關報告，不得逃逸，違者應處罰 (1)吊銷駕駛執照，並終身不得再考領（但符合 特定條件，且所受吊銷駕駛執照處分，執行已逾相關規定時間者，不在此限）(2)應予罰鍰(3)吊扣駕駛執照 1 年。
273	2	駕駛人在 1 年內，違規記點每達 12 點以上者，吊扣駕駛執照(1)6 個月(2)2 個月(3)1 年。
274	3	駕駛人因違規記點，2 年內經吊扣駕駛執照 2 次，再經記違規點數者，處以：(1)罰鍰 (2)吊扣駕照 1 個月(3)吊銷駕照。
275	1	臨時停車規定時間(1)不得超過 3 分鐘，並保持立即行駛之狀態(2)不得超過 10 分鐘，駕駛人亦可離開座位(3)只要不超過 5 分鐘即可。
276	2	註銷之駕照，應(1)自行保留(2)繳回公路監理機關(3)繼續使用。
277	2	在車站或其他公共場所出、入口 (1)可以停車 (2)不得停車 (3)無規定。
278	1	重型機車在駕駛人後設有固定座位者，可附載(1)1 人(2)2 人(3)3 人。
279	3	聞有消防車、警備車、救護車、工程救險車、毒性化學物質災害事故應變車等之警號時，不論來自何方，應該(1)不須避讓(2)只要不跨線行駛，就不必避讓(3)均應立即避讓，並不得在後跟隨急駛。
280	1	機車路考不合格，申請再考驗者，距上次考驗時間，不得少於(1)7 天(2)15 天(3)30 天。
281	1	機車車主及駕駛人有住址變更(1)應持有關證件向公路監理機關辦理變更登記(2)不必辦理變更登記(3)向附近警察派出所辦理登記。
282	2	機車報廢，應填具異動登記書，向公路監理機關辦理報廢登記，並同時繳還(1)駕駛執照(2)號牌及行車執照(3)行車執照。

題號	答案	題目內容
283	1	機車未經登記檢驗又未領用牌照(1)不准行駛(2)可以行駛(3)可在郊外行駛。
284	1	懸掛號牌(1)應依規定位置懸掛(2)隨便懸掛固定明顯位置就可以(3)無規定。
285	3	依現行規定，持普通重型機車駕駛執照，不得駕駛汽缸排氣量(1)50 立方公分以上 250 立方公分以下(2)50 立方公分以下(3)逾 250 立方公分以上之二輪機車。
286	2	下列何者氣象資訊與道路災害息息相關，應多加留意？(1)潮汐(2)降雨 (3)氣溫。
287	3	下列哪種駕駛行為有誤？(1)隨時收聽警察廣播電台，掌握即時路況訊息(2)如於道路上受困可利用路側之公路里程牌確認目前位置並求援(3)遭遇落石阻道時，可隨意將車輛停放路邊，不用特別觀察附近是否安全。
288	3	假設不幸受困於山區道路應如何處置？(1)利用公路里程牌確認目前位置後向外聯繫呼救(2)確認最近之安全停駐空間或緊急暫停空間，前往避險等待救援(3)以上皆是。
289	3	下列何者「非」公路單位執行封橋封路等交通管制之目的？(1)道路橋樑致災風險提升，行駛該路段可能造成人車危害，故提前封閉道路避免人車進入危險區域而造成生命財產損失(2)因施工或已發生災害造成道路阻斷，為加速搶修及確保用路人安全(3)封路封橋只是為了造成用路人不便，行程受阻。
290	3	機車駕駛人如果未隨身攜帶駕駛執照、未隨車攜帶行車執照及強制汽車責任保險卡者： (1) 處罰鍰 (2) 勸導、告誡 (3) 免處罰鍰
291	1	普通重型機車附載物件之重量規定(1)以 80 公斤為限(2)以 40 公斤為限(3)以 30 公斤為限。
292	1	駕駛汽機車未隨身攜帶駕駛執照不再處罰，主要原因為何？ (1)執法人員可透過電腦系統即時查詢駕駛資格 (2)駕駛執照已全面電子化 (3)駕駛執照已與國民身分證合併。
293	1	自中華民國 95 年 6 月 15 日起，機車出廠五年以上辦理轉讓過戶者，應申請實施(1)臨時檢驗(2)定期檢驗(3)變更檢驗。
294	2	考領輕型機車或普通重型機車駕駛執照須年滿(1)16 歲(2)18 歲(3)20 歲。
295	2	駕駛執照業經吊銷、註銷仍駕駛機車者，除處罰鍰、當場禁止其駕駛外，該駕照並應(1)自行銷毀(2)扣繳(3)無另外規定。
296	3	駕駛執照吊扣期間仍駕駛機車者，除處罰鍰、當場禁止其駕駛外，並應(1)處違規記點(2)處違規紀錄(3)吊銷駕駛執照。
297	3	領有聯結車、大客車、大貨車或小型車駕駛執照，駕駛重型機車者，應處(1)罰鍰(2)當場禁止其駕駛(3)以上皆是。
298	2	機車駕駛人佔用自行車專用道行駛，經當場舉發者，應處(1)加以勸導(2)罰鍰並記違規點數 1 點(3)無規定。
299	3	下列何者不得參加駕駛執照考驗(1)有酒精、麻醉劑、興奮劑中毒者 (2)未取得醫師出具最近兩年以上未發作診斷證明書之癲癇疾病者(3)以上皆是。
300	3	牌照遺失或破損，不報請公路主管機關補發、換發或重新申請者 應處以(1)罰鍰及責令

題號	答案	題目內容
		補換牌照(2)禁止其駕駛(3)以上皆是。
301	3	號牌污穢，不洗刷清楚或為他物遮蔽，非行車途中因遇雨、雪道路泥濘所致者(1)罰鍰及責令改正(2)禁止其駕駛(3)以上皆是。
302	3	使用偽造、變造或矇領之駕駛執照駕駛小型車或機車者 (1)罰鍰並當場禁止其駕駛(2)未滿 18 歲之駕駛人及其法定代理人或監護人應同時施以道路交通安全講習(3)以上皆是。
303	1	駕駛人行經泥濘或積水道路，不減速慢行，致污濕他人身體、衣物者 (1)罰鍰(2)記違規點數 1 點(3) 吊扣駕照 1 個月。
304	1	駕駛人因雨、霧視線不清或道路上臨時發生障礙，不減速慢行者 (1) 罰鍰(2)記違規點數 1 點(3) 吊扣駕照 1 個月。
305	3	駕駛人在起駛前，不讓行進中之車輛、行人優先通行，經當場舉發者(1)吊扣駕照 1 個月(2)施以道路交通安全講習(3)罰鍰並記違規點數 1 點。
306	2	不服從交通勤務警察或依法令執行交通指揮、稽查任務人員之指揮或稽查，經當場舉發者(1)吊扣駕照 1 個月(2)罰鍰並記違規點數 1 點(3)施以道路交通安全講習。
307	3	未投保強制汽車責任保險而肇事者，經扣留車輛牌照後，何時發還？ (1)繳清罰鍰後發還 (2)肇事案件結案後發還 (3)依規定投保後發還
308	2	依強制汽車責任保險法所處之罰鍰經限期繳納，屆期未繳納者(1)吊扣駕照 1 個月(2)依法移送強制執行(3)以上皆是。
309	3	報廢之汽車仍行駛者(1)應處以罰鍰(2)禁止其行駛，車輛並沒入之(3) 以上皆是。
310	3	號牌遺失不報請公路主管機關補發，經舉發後仍不辦理而行駛者，處以(1)罰鍰(2)禁止其行駛(3)以上皆是。
311	3	事故車輛機件及車上痕跡證據尚須檢驗、鑑定或查證者，警察機關 (1)不可扣留處理(2)扣留期間不得超過 1 個月(3)扣留期間不得超過 3 個月。
312	2	以下何者「非」道路交通事故案件之可向警察機關申請閱覽或提供相關資料之人？(1)當事人(2)目擊證人(3)利害關係人。
313	1	事故車輛機件損壞，其行駛安全堪虞者應(1)禁止其行駛(2)強制沒入 (3)緩慢駛離。
314	3	處理違反道路交通管理事件，有關文書送達之程序，依下列何者之規定？(1)民法(2)刑法(3)行政程序法。
315	3	道路交通管理之稽查，違規紀錄，非由下列何者執行之？(1)交通勤務警察(2)依法令執行交通稽查任務人員(3)地方法院法官。
316	2	交通勤務警察或依法令執行交通稽查任務人員，對不服稽查而逃逸之人、車(1)為免發生危險，不得追蹤稽查(2)得追蹤稽查(3)須鳴槍示警。
317	3	違反道路交通管理事件受處罰人，無法 1 次完納罰鍰者(1)吊扣駕照 1 至 3 個月(2)可拿物品抵押(3)得申請分期繳納罰鍰。
318	3	道路交通事故案件當事人或利害關係人得於幾日內向警察機關申請閱覽或提供相關資料？(1)於事故現場提出申請該事故當事人登記聯單 (2)於事故 7 日後得申請閱覽或提

題號	答案	題目內容
		供現場圖現場照片(3)以上皆是。
319	3	下列何者為道路交通安全規則所稱「慢車」？(1)腳踏自行車(2)電動自行車(3)以上皆是。
320	3	報考機車駕照，體格檢查視力之標準為何？(1)單眼裸視視力各達 0.5，雙眼裸視視力應達 0.6(2)單眼矯正視力各達 0.6，雙眼矯正視力應達 0.8(3)以上皆是。
321	1	機車車身式樣、車身、頭燈等設備或使用性質、顏色等如要變更，均應向公路監理機關辦理登記；違反者以下列何者為處分對象？(1)車主(2)駕駛人(3)變更設備的機車車行。
322	3	依現行規定，初次考領機車駕駛執照之流程，下列何者正確？ (1) 筆試→路考→講習→領照 (2) 筆試→講習→路考→領照 (3) 講習→筆試→路考→領照
323	1	機車行車速度，超過規定最高時速幾公里以上即可能遭處罰新臺幣 6,000 元以上 36,000 元以下罰鍰、吊扣牌照 6 個月，及接受道安講習？(1)40 公里(2)50 公里(3)60 公里。
324	2	使用中之機車皆須投保強制汽車責任保險，且申請換發牌照、異動登記或過戶時，保險證有效期間至少應滿 (1)20 日(2)30 日(3) 35 日以上。
325	2	車牌裝置於旋轉架上以規避違規超速照相取締之罰則，下列何者不正確？(1)以車主為處分對象(2)吊扣牌照 (3)處以罰鍰。
326	3	未滿 18 歲駕駛人違反無照騎車之處分，下列何者須施以道路交通安全講習？(1)僅駕駛人(2)駕駛人之法定代理人或監護人(3)駕駛人及其法定代理人或監護人。
327	1	機車失竊，其汽車燃料使用費徵至(1)失竊前 1 天(2)至監理單位辦理失竊登記日(3)報案日。
328	1	駕駛人之體格及體能變化已不符合格標準，應(1)駕照繳回當地監理機關(2)不需繳回駕照(3)評估仍可駕駛即無需繳回。
329	2	申請機車考驗，筆試不及格者，不得參加路考，其及格標準為(1)交通規則 80 分，路考 70 分(2)交通規則 85 分，路考 70 分(3)交通規則及路考各 80 分。
330	3	駕駛人其視力檢查合格標準，下列何者為非(1)兩眼裸視力達 0.6 以上者，且每眼各達 0.5 以上者(2)矯正後兩眼視力達 0.8 以上，且每眼各達 0.6 以上者(3)兩眼裸視力及每眼需達 0.6 以上。
331	1	駕駛人經考驗及格，未領有駕駛執照前，(1)不可駕駛汽車(2)可駕駛汽車(3)駕駛技術優良則可駕車。
332	3	申請駕駛執照考驗，不依規定或利用不正當手段報名參加應考者，下列何者不正確？(1)已考領駕駛執照者無效，由公路監理機關註銷並追繳之(2)報考人及代考人均自查獲之日起五年內不得再行報考(3)已考領駕駛執照者無法註銷。
333	1	行車速度超過規定之最高速限或低於規定之最低速限違規之舉發，採用科學儀器取得證據資料，於一般道路應於多少距離明顯標示？(1) 100 公尺至 300 公尺間(2) 200 公尺至 400 公尺間(3) 300 公尺至 500 公尺間。
334	2	受處分人不服道路交通管理處罰條例第 8 條或第 37 條第 5 項處罰之裁決者，應以原處


題號	答案	題目內容
		分機關為被告，逕向管轄之高等行政法院地方行政訴訟庭提起訴訟；其中撤銷訴訟之提起，應於裁決書送達後幾日內為之？(1) 20 日 (2) 30 日 (3) 60 日。
335	1	逕行舉發違規停車之情形，而駕駛人、汽車所有人不在場或未能將汽車移置，每逾幾小時得連續舉發？(1)2 小時(2)3 小時(3)6 小時。
336	3	駕駛人駕駛汽車肇事致人受傷而逃逸者，吊銷其駕駛執照且多久不得考領？(1)1 年 (2)2 年(3)3 年。
337	2	機車號牌遺失者，重新申領牌照，需要檢附何者開立之車牌遺失證明單？(1)村里長(2)警察機關(3)機車購買廠商。
338	2	機車行照自中華民國 102 年 1 月 1 日起需不需要申請換發(1)需要(2)不需要(3)車齡 10 年以上才需要。
339	3	機車已不堪使用應向監理機關申請(1)過戶(2)停駛(3)報廢。
340	1	機車買賣或讓予應向監理機關申請(1)過戶(2)停駛(3)報廢。
341	1	機車失竊時應檢附警察機關車輛失竊證明單向公路監理機關申辦(1)註銷牌照登記(2)車輛報廢(3)過戶登記。
342	3	機車號牌規定下列何者不正確？(1)不得偽造、變造或矇領(2)不得私下買賣 (3)可借供他車使用。
343	2	鐵路平交道上無看守人員管理或無遮斷器、警鈴、閃光號誌之設備者，駕駛人應在軌道外幾公尺前暫停、看、聽鐵路兩方無火車來時，始得通過？(1)1 至 2 公尺(2)3 至 6 公尺(3)無規定。
344	3	鐵路平交道設有遮斷器或看守人員管理者，下列何者為不正確？(1)如警鈴已響、閃光號誌已顯示或遮斷器已開始放下或看守人員表示停止時，應即暫停，俟遮斷器開放或看守人員表示通行後，始得通過 (2)如遮斷器未放下或看守人員未表示停止時，仍應看、聽鐵路兩方無火車駛來，始得通過(3)遮斷器開放後應盡速通過，無需左右查看。
345	2	駕駛執照遺失後應(1)重新考領駕照(2)向公路監理機關申請補發(3)登報作廢即可。
346	1	駕駛執照破爛損毀不易辨明時，要(1)申請換發(2)重行考領(3)不須換領。
347	3	駕駛人無正當理由，不依規定接受道路交通安全講習者，處新臺幣 1,800 元罰鍰，經再通知依限參加講習，逾期 6 個月以上仍不參加者，應罰(1)吊扣行車執照(2)吊銷駕駛執照 (3)吊扣駕駛執照。
348	2	肇事逃逸案件，經通知所有人到場說明，無故不到場說明，或不提供駕駛人相關資料者(1)吊銷牌照(2)吊扣牌照 (3)吊扣駕照。
349	1	機車所有人或駕駛人於辦理各項監理登記或異動時(1)應繳清未結之違規罰鍰(2)不需要繳清未結之違規罰鍰(3)沒規定。
350	1	交通違規案件，民眾得敘明違規事實或檢具違規證據資料，向公路主管或警察機關檢舉，經查證屬實者，應即舉發。但行為終了日起逾多少日期之檢舉，不予舉發：(1)7 日(2)30 日(3)60 日。
351	2	駕駛執照受吊銷、註銷或吊扣處分時應如何處理：(1)沒有規定(2)應將駕駛執照繳回當地公路監理機關(3)繳交警察機關。
352	2	駕駛人駕車肇事，雖無人受傷或死亡，卻未依規定處置且逃逸者，除處罰鍰外，並：


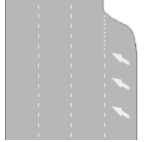

題號	答案	題目內容
		(1)吊扣行車執照(2)吊扣駕駛執照(3)吊銷駕駛執照。
353	3	經終身吊銷駕駛執照之受處分人，如為肇事致人死亡案件，經吊銷駕駛執照處分執行已逾幾年，得向公路主管機關申請考領駕駛執照：(1)8年(2)10年(3)12年。
354	2	機車駕駛人酒後駕車，酒精濃度超過規定標準，被當場移置保管車輛，並處：(1)吊扣駕駛執照3個月(2)罰鍰新臺幣15,000~90,000(3)吊銷駕駛執照。
355	3	未領有駕照駕駛機車者應處罰鍰新臺幣：(1)300~600元(2)3,600~7,200元(3)18,000~36,000元。
356	3	逕行舉發超速行駛時，其：(1)違規時間相隔4分鐘以上或行駛經過1個路口以上(2)違規時間相隔5分鐘以上或行駛經過1個路口以上(3)違規時間相隔6分鐘以上或行駛經過1個路口以上得連續舉發之。但其違規地點在隧道內者，不在此限。
357	3	車輛於一般道路超速行駛遭逕行舉發，依規定須符合何種條件，始得對該車輛連續舉發？ (1)違規時間相隔3分鐘以上，且行駛經過1個路口以上 (2)違規時間相隔4分鐘以上，或行駛經過2個路口以上 (3)違規時間相隔6分鐘以上，或行駛經過1個路口以上
358	3	機車進入加油站加油時，(1)可撥、接行動電話(2)只可接聽、不可撥打行動電話(3)嚴禁撥、接行動電話。
359	2	機車加油時應(1)架起主腳架(2)引擎熄火並嚴禁使用行動電話(3)以上皆是。
360	1	機車進入加油站等候加油時(1)引擎必先熄火(2)引擎不須熄火(3)以上皆可。
361	3	下列何者是錯誤之機車加油知識？(1)避免使用來路不明汽油(2)辛烷值代表抗爆震強度(3)辛烷值愈高的無鉛汽油對引擎愈好。
362	3	機車行駛於下列哪個路面狀況易發生打滑危險？(1)路面標線(2)施工路段鐵板(3)以上皆是。
363	2	機車駕駛人行經路面積水路段應(1)快速通過(2)低速通過(3)蛇行閃避。
364	1	騎乘機車遇降雨，已離目的地不遠，應(1)減速慢行，以免打滑失控(2)撐傘繼續前進(3)加速繼續前進。
365	3	根據道路交通規則的規定，一般正常人報考駕照之視力標準(1)兩眼裸視必須達到0.6以上、且每眼各達0.5以上(2)矯正後兩眼必須達到0.8以上、且每眼各達0.6以上(3)以上皆是。
366	1	駕駛人在行車過程中獲取資訊最重要之感覺：(1)視覺(2)聽覺(3)觸覺。
367	3	機車行駛有慢車道之單行道，可行駛於(1)慢車道(2)慢車道旁之快車道(3)以上皆是。
368	3	騎乘機車遇濃霧應(1)開啟頭燈(2)放慢車速，保持安全距離(3)以上皆是。
369	3	騎乘機車應避免行駛於(1)機車優先道(2)最外側車道(3)路面標線上。
370	1	一般交通秩序混亂造成交通阻塞、癱瘓甚至造成車禍，其主要原因在於(1)用路人不遵守交通規則(2)車輛數太多(3)道路路面不夠寬敞。
371	3	行經泥濘及積水路段正有行人通過，應(1)加速衝過積水(2)大鳴喇叭促使行人走避(3)減速慢行，避免污水濺及行人。

題號	答案	題目內容
372	3	於郊區道路行車，發現有人牽牲畜橫越馬路時，應(1)大鳴喇叭促使快速通過(2)急加速搶在牲畜前通過(3)減速慢行，待其通過後再前進。
373	3	騎乘山路時身體動作要領，右手主控車輛控制油門，保持後輪推力方式過彎：(1)在彎道前應移動臀部，利用身體與車輛同方向前傾(2)左彎放鬆左肩、左手肘、左手腕；右彎放鬆右肩、右手肘、右手腕(3)以上皆是。
374	3	機車加裝防風手把套，可能會導致什麼危險？(1)如果沒有綁好，可能卡住油門，導致爆衝的危險(2)後方的超車車輛不小心會勾到手把套，可能摔車釀禍(3)以上皆是。
375	3	機車騎士誤上國道時，以下何種應變方式不正確？(1)暫停於路肩安全處，並打通報電話求助(2)盡量跟上車流速度行駛於外側車道，在下一個交流道駛離國道(3)沿著路肩逆向行駛，趕緊駛離國道。
376	1	騎車跟前車行到鐵路平交道前，應(1)減速慢行與前車保持更大距離(2)與平常一樣行駛(3)從旁加速超車通過。
377	1	行駛中，駕駛人看到鐵路平交道標誌或標線後，應即將速度減低至時速(1)15 公里以下(2)30 公里以下(3)無規定。
378	3	駕駛人不遵守平交道看守人員指示，或警鈴已響、閃光號誌已顯示，或遮斷器開始放下，仍強行闖越，除罰鍰外，吊扣駕照 1 年並應接受道路交通安全講習，因而肇事者(1)吊扣駕駛執照(2)吊銷駕駛執照停考 1 年(3)吊銷駕駛執照終身不得考領。
379	3	駕駛人不遵守平交道看守人員指示，或警鈴已響、閃光號誌已顯示，或遮斷器開始放下，仍強行闖越，除罰鍰外(1)吊扣駕照(2)應接受道路交通安全講習(3)以上皆是。
380	3	駕駛人闖越平交道因而肇事者，(1)罰鍰(2)吊銷駕照終身不得考領(3)以上皆是。
381	3	駕駛人在鐵路平交道上超車，迴車、倒車、臨時停車或停車，(1)處新臺幣 15,000 元以上 90,000 元以下罰鍰，並吊扣其駕駛執照(2)因而肇事者並吊銷其駕駛執照(3)以上皆是。
382	3	發現鐵路平交道有故障車輛停滯時，應(1)立即按下平交道「緊急按鈕」(2)撥打鐵路緊急聯絡電話 1933(3)以上皆是。
383	1	鐵路平交道設有遮斷器或看守人員管理，如看守人員未表示停止時，(1)仍應看、聽鐵路兩方無火車駛來時，始得通過(2)緊跟前車，加速通過(3)把握時機，加速通過。
384	3	鐵路平交道設有遮斷器或看守人員管理，如遮斷器未放下，(1)應把握時間快速通過(2)緊跟前車，加速通過(3)仍應看、聽鐵路兩方無火車駛來時，始得通過。
385	1	鐵路平交道設有警鈴、閃光號誌者，如警鈴未響、閃光號誌未顯示，(1)仍應看、聽鐵路兩方無火車駛來時，始得通過(2)緊跟前車，加速通過(3)把握時機，加速通過。
386	3	在鐵路平交道上(1)不得停車(2)不得迴車(3)以上皆是。
387	2	騎乘機車經過平交道時應：(1)緊跟前車(2)與前車保持適當距離(3)加速通過。
388	3	按平交道旁機柱上之紅色緊急按鈕，順序為：(1)一、推、二、按、三、跑(2)一、跑、二、推、三、按(3)一、按、二、推、三、跑。
389	1	依據《強制汽車責任保險法》規定，投保義務人未投保強制汽車責任保險而肇事時，下列敘述何者正確？ (1)僅處罰鍰，不扣留車輛牌照

題號	答案	題目內容
		(2)處罰鍰，並扣留車輛牌照至依規定投保後發還 (3)僅扣留車輛牌照，不處罰鍰
390	1	強制汽車責任保險法規定的給付項目有(1)生命身體的傷害給付(2)事故車輛財產損失給付(3)車輛失竊損失給付。
391	3	機車有投保強制汽車責任保險，駕駛人酒後騎車載友人回家，行駛彎道過快不慎撞擊電線桿，兩人都受傷。可否申請保險金?(1)兩人都可以申請(2)兩人都不可以申請(3)乘客可以申請。
392	1	甲、乙騎車發生追撞並受傷，經鑑定甲有過失，乙無過失。甲、乙是否都可以申請強制汽車責任保險理賠?(1)兩人都可以申請(2)兩人都不可以申請(3)乙可以申請。
393	3	甲、乙騎車發生追撞並受傷，經鑑定甲有酒後騎車情形，乙無過失。甲、乙是否都可以申請強制汽車責任保險理賠?(1)兩人都可以申請(2)兩人都不可以申請(3)乙可以申請。
394	2	於颱風天外出，遭遇山崩、土石流，駕駛人順利逃離，同車乘客受重傷，誰可要求強制汽車責任險理賠?(1)駕駛人(2)同車乘客(3)以上皆是。
395	3	強制汽車責任保險法規定的給付項目有(1)傷害醫療及殘廢給付(2)死亡給付(3)以上皆是。
396	1	購買機車，依規定必須投保哪種車輛保險?(1)強制汽車責任險(2)強制駕駛人壽險(3)強制汽車損失險。
397	2	依規定需強制投保「強制汽車責任保險」之車輛為那些?(1)腳踏車(2)機車及汽車(3)以上皆是。
398	1	環保駕駛對個人的好處有哪些？甲、減少汽油消耗 乙、增進交通安全 丙、減少車輛維修成本 丁、降低駕駛者及乘客搭乘壓力(1)甲、乙、丙、丁(2)甲、乙(3)丙、丁。
399	2	下列何種駕駛行為，可以減少車輛維修成本?(1)經常急加油加速(2)定速行駛(3)經常急煞車減速。
400	1	胎壓不足、載重越重等耗油的主要因素為?(1)輪胎與地面的磨擦阻力增加(2)油門控制不當(3)暖車較久。
401	1	車輛啟動時，環保駕駛的動作不包括下列何者?(1)暖車 3-5 分鐘(2)緩慢地加速，5 秒中達到時速 20 公里(3)引擎發動後輕加油門行駛。
402	1	下列何者不是環保駕駛的好處?(1)增加行車時間(2)降低二氧化碳的排放量(3)減少汽油消耗。
403	2	雨天騎乘機車行經標線、人孔蓋或鐵板路面時，應如何操控車輛？ (1) 快速通過以減少輪胎在濕滑處停留時間 (2) 避免在上方急煞或急轉彎，儘量直線減速通過 (3) 標線與人孔蓋設計有防滑功能，正常騎乘即可
404	2	騎乘機車行經學校、醫院等行人較多區域時，下列何種騎乘方式最適當？ (1) 行人應注意來車，騎士依正常速度通過即可 (2) 減速慢行並隨時注意兩側，預判行人可能突然穿越 (3) 按喇叭提醒行人注意後快速通過

題號	答案	題目內容
405	2	 <p>(1)右側斷崖(2)碼頭、堤岸(3)危險。</p>
406	2	 <p>(1)狹路(2)隧道(3)狹橋。</p>
407	1	 <p>(1)禁止停車(2)禁止臨時停車(3)禁止超車。</p>
408	3	 <p>(1)禁止行人通行(2)停車再開(3)禁止任何車輛進入。</p>
409	3	 <p>(1)禁止行人通行(2)禁止任何車輛進入(3)禁止四輪以上汽車進入。</p>
410	3	 <p>(1)禁止任何車輛進入(2)禁止拖車進入(3)禁止大貨車及聯結車進入。</p>
411	1	 <p>(1)禁止大型重型機車以外之機車進入(2)禁止四輪以上汽車進入(3)禁止超車。</p>
412	1	 <p>(1)省道路線編號(2)縣道路線編號(3)國道路線編號。</p>
413	3	 <p>(1)省道路線編號(2)縣道路線編號(3)國道路線編號。</p>

題號	答案	題目內容
414	1	 (1)快速公路之省道路線編號(2)縣道路線編號(3)國道路線編號。
415	2	 (1)省道路線編號(2)市、縣道路線編號(3)國道路線編號。
416	3	 (1)產業道路編號(2)縣道路線編號(3)區、鄉道路線編號標誌。
417	1	 (1)雙線以上電化鐵路平交道(2)雙線以上鐵路平交道(3)單線電化鐵路平交道。
418	3	 (1)停止線(2)近障礙物線(3)車輛停放線。
419	1	 (1)停車處(2)鐵路車站(3)高速鐵路車站。
420	2	 (1)人行天橋(2)人行地下道(3)停車處。
421	3	 (1)迴轉道(2)安全方向導引(3)車道預告。
422	2	 (1)迴轉道(2)安全方向導引(3)車道預告。

題號	答案	題目內容
423	3	 <p>(1)警告標誌(2)道路施工標誌(3)車輛故障標誌。</p>
424	1	 <p>機車駕駛人如果在道路上發現圖中的橫向標線時，應該如何反應？(1)減速慢行(2)加速通過(3)檢查輪胎。</p>
425	1	 <p>圖中最外側的路面邊線與車道線中間的白色實線為何種標線？(1)快慢車道分隔線(2)行車分向線(3)雙方禁止超車線。</p>
426	1	 <p>圖中路口交叉型標線是？(1)對角線行人穿越道線(2)網狀線(3)自行車穿越道線。。</p>
427	3	 <p>圖中白色箭頭是(1)左轉彎(2)避車彎(3)車道縮減標線。</p>
428	1	 <p>(1)特種閃光紅燈號誌 (2)禁止通行 (3)車道管制號誌。</p>
429	1	 <p>(1)當心自行車(2)當心行人(3)當心機車。</p>
430	1	 <p>(1)港埠(2)渡口(3)修理站。</p>

題號	答案	題目內容
431	2	 <p>(1)捷運車站(2)鐵路車站(3)高速鐵路車站。</p>
432	1	 <p>(1)公路汽車客運車站或轉運站(2)捷運車站 (3)計程車招呼站。</p>
433	3	 <p>(1)左轉彎(2)允讓後車超越(3)減速暫停。</p>
434	2	 <p>(1)右轉彎(2)允讓後車超越(3)減速暫停。</p>
435	1	 <p>(1)右轉彎(2)允讓後車超越(3)減速暫停。</p>
436	1	 <p>(1)左轉彎(2)右轉彎(3)減速暫停。</p>
437	3	 <p>(1)車道指定大客車專行(2)車道指定高乘載車輛專行(3)車道指定大眾捷運系統車輛專行。。</p>
438	2	 <p>(1)禁止四輪以上汽車(2)禁止大客車進入(3)禁止大眾捷運系統車輛進入。。</p>
439	2	

題號	答案	題目內容
		(1)車道指定四輪以上汽車及排氣量 550 立方公分以上之大型重型機車專行(2)車道指定四輪以上汽車及大型重型機車專行(3)車道指定四輪以上汽車及大型重型機車以外之機車專行
440	1	 <p>(1)車道指定大客車專行(2)車道指定高乘載車輛專行(3)車道指定大眾捷運系統車輛專行。</p>
441	3	 <p>(1)禁止大客車及大貨車進入(2)禁止四輪以上汽車及大貨車進入(3)禁止大客車、大貨車及聯結車進入。</p>
442	3	 <p>(1)雙線以上鐵路平交道(2)單線鐵路平交道(3)單線電化鐵路平交道。</p>
443	2	 <p>(1)地名(2)車道指示(3)地名方向指示。</p>
444	1	 <p>自行車騎士手勢預告即將(1)右轉 (2)左轉 (3)減速暫停。</p>
445	3	 <p>自行車騎士手勢預告即將(1)右轉 (2)左轉 (3)減速暫停。</p>
446	1	 <p>(1)無柵門鐵路平交道(2)有柵門鐵路平交道(3)禁止汽車進入。</p>
447	3	 <p>(1)禁止汽車進入(2)無柵門鐵路平交道(3)有柵門鐵路平交道。</p>

題號	答案	題目內容
448	3	機車進入單一車道依道路線型行駛，因其於單一無分岔車道行駛，依路面箭頭標線指向轉彎時，關於方向燈之使用，下列敘述何者正確？ (1)既屬轉彎行為，就應使用方向燈 (2)為提醒後車轉彎通行，應使用方向燈 (3)於單一車道依道路線型行駛且無變換車道，無須使用方向燈
449	2	機車於號誌轉為紅燈前已通過停止線進入路口，因橫向車流阻隔停等於路口內，紅燈期間俟車流空隙穿越至銜接路段，下列敘述何者正確？ (1)紅燈期間穿越路口，視為闖紅燈 (2)綠燈時已進入路口，臨時停車於路口致阻礙交通，仍屬違規行為 (3)應依闖紅燈及不遵守標線指示併罰
450	2	機車駕駛人於紅燈期間，以牽引方式通過停止線或號誌管制路口後繼續騎乘機車，此行為應如何認定？ (1)以牽引方式視同行人，無違規 (2)行為人視同闖紅燈 (3)僅違反不遵守標線指示，非屬闖紅燈
451	2	機車行駛於設有機慢車左轉待轉區之路口，於號誌為紅燈時跨越停止線行駛至待轉區內停等，下列敘述何者正確？ (1)待轉區係供機車合法停等，無違規 (2)因需跨越停止線及行人穿越道，視同違規行為 (3)僅違反不依規定兩段式左轉
452	2	機車駕駛人於道路上使用香菸或電子煙，煙霧飄散影響周遭駕駛人，關於舉發依據，下列敘述何者正確？ (1)電子煙非屬於酒管理法及菸害防制法規定之菸品，不得舉發 (2)如致有影響他人行車安全，可依道路交通管理處罰條例第 31 條之 1 第 3 項舉發 (3)僅能依菸害防制法處以罰鍰
453	2	巷道與其臨近之道路系統形成交叉路口，關於該路口十公尺內臨時停車之規定，下列敘述何者正確？ (1)巷道非屬道路交通管理處罰條例所稱之道路，不適用該規定 (2)交叉路口十公尺內不得臨時停車 (3)巷道口僅適用五公尺內禁止臨時停車之規定
454	2	該路口未劃設左彎待轉區，機車行駛於左轉專用車道，當直行箭頭綠燈亮起時超越停止線進入路口內停等左轉，此行為應如何認定？ (1)依直行號誌合法進入路口停等，無違規 (2)違反轉彎時不依標線、號誌指示之規定 (3)視同闖紅燈，應依處罰條例第 53 條舉發
455	2	機車駕駛人熄火以牽引機車方式進入人行道並停放於機車停車格內，此行為應如何認定？ (1)視同機車駕駛人，構成駕車行駛人行道違規 (2)駕駛行為已中止，視同行人，無違規 (3)僅違反未遵守標線指示
456	1	機車可正常行駛無故障，駕駛人牽引機車在車道上移動時，應遵守下列何種規定？ (1)視為機車駕駛行為，必須遵守相關管制規定 (2)視為行人行為，並受行人相關管制規定 (3)機車未熄火正常情形下，可在道路上牽引車輛
457	2	機車駕駛人因違反道路交通管理處罰條例規定，1 年內經記違規點數滿 12 點者，應予何種處分？

題號	答案	題目內容
		(1)吊銷其駕駛執照，且1年內不得重新考領 (2)吊扣其駕駛執照2個月，並應接受道安講習 (3)處新臺幣600元罰鍰，並施以道路交通安全講習
458	2	機車駕駛執照經公路監理機關註銷後，駕駛人如欲重新取得機車駕駛資格，下列敘述何者正確？ (1)向監理機關申請補發駕照並繳納規費後，即可恢復駕駛資格 (2)須重新報考筆試及路考，通過考驗後方可領取駕照 (3)完成道路交通安全講習並經監理機關審核通過後，得申請恢復原駕照效力
459	3	申請汽車駕駛執照考驗，不依規定或利用不正當手段報名參加應考者，如已領有駕照，應受下列何種處分？ (1)吊銷駕照並終身不得再考領 (2)僅予警告，不吊銷駕照 (3)駕照由公路監理機關註銷並追繳之，並自查獲之日起五年內不得再行報考
460	3	機車駕駛執照經吊扣、註銷時，仍駕車者將受何種處罰？ (1)不受處罰 (2)僅記點、處分道安講習 (3)處罰鍰並當場禁止駕駛、吊銷其駕照
461	1	依規定，未滿18歲駕駛人可否騎乘機車？ (1)無論如何都不可以騎乘機車 (2)無須任何證明即可騎乘機車 (3)徵得監護人同意即可以騎乘機車
462	2	中華民國112年6月30日起，新考領之汽車駕駛執照是否可以駕駛輕型機車？ (1)可以，汽車駕照仍包含輕型機車的駕駛資格 (2)不可以，新考領的汽車駕照已不再具備駕駛輕型機車之資格 (3)須經過筆試，通過後方可駕駛輕型機車
463	1	考領輕型機車駕駛執照年齡限制，下列何者正確？ (1)須年滿18歲，最高年齡不受限制 (2)須年滿16歲，最高不得超過70歲 (3)須年滿18歲，最高不得超過75歲
464	3	持有下列何種駕照者，得駕駛普通重型機車？ (1)普通聯結車駕照 (2)職業小型車駕照 (3)大型重型機車駕照
465	1	駕駛人受吊扣駕照處分尚未期滿時，關於參加駕照考驗之規定，下列敘述何者正確？ (1)吊扣處分期間不得報考任何駕照，須待處分期滿並領回原駕照後方可報考 (2)吊扣處分僅限制駕駛行為，不影響報考其他類別駕照之資格 (3)已完成繳納罰鍰及道路交通安全講習者，得於吊扣期間報考駕照
466	1	未滿14歲之人，若違反道路交通管理處罰條例，處罰 (1)法定代理人或監護人 (2)父母親或兄弟姊妹 (3)自己
467	2	有關普通重型機車，下列敘述何者正確？ (1)排氣量50cc以下 (2)排氣量逾50cc~250cc (3)排氣量逾250cc
468	1	汽缸總排氣量50cc以下之機車，屬於何種分類？ (1)普通輕型機車 (2)普通重型機車



題號	答案	題目內容
		(3)大型重型機車
469	2	汽缸總排氣量超過 250cc 之機車，在分類上屬於： (1)普通輕型機車 (2)大型重型機車 (3)普通重型機車
470	3	機車報廢時，所有人應如何辦理？ (1)只要將車輛棄置於公路監理機關即可 (2)應向公路監理機關申請報廢，並需自費回報公路監理機關申請銷毀 (3)應向公路監理機關申請報廢，並繳還牌照
471	2	遵守交通法令與秩序，與駕駛道德之間的關係為何？ (1)遵守交通法令與秩序只屬於優良駕駛，與駕駛道德無關 (2)遵守交通法令與秩序是駕駛道德的重要內容之一 (3)駕駛道德僅與停讓行人有關，與法令秩序無關
472	2	機車申請牌照登記時，其車輛應經何種檢驗？ (1)僅需提供車輛製造證明即可 (2)需經公路監理機關檢驗合格 (3)可自行將車輛送至民間修車廠檢驗
473	2	輕型機車在駕駛人座位後有固定座位，附載規定何者正確？ (1)不得載人 (2)得附載 1 人 (3)無限制
474	2	關於機車性能認識與行車安全之關係，下列敘述何者正確？ (1)現代機車配備 ABS 等安全輔助系統，駕駛人無須深入了解車輛性能即可安全騎乘 (2)了解機車煞車、轉向及動力等特性，有助於安全操作與因應突發狀況 (3)機車性能知識屬於維修保養範疇，駕駛人僅需熟練操控技術即可確保行車安全
475	2	騎乘機車，關於車輛特性及煞車效果，下列敘述何者正確？ (1)突然減速煞車才能知道機車性能及煞車效果 (2)應該透過安全的騎乘瞭解機車及煞車性能 (3)是否了解機車性能無關安全
476	3	機車行駛中遇有車輛或行人突然自路側進入車道時，關於防禦駕駛之應對方式，下列敘述何者正確？ (1)應立即鳴按喇叭警示對方注意，使其停止前進或退回路側 (2)應迅速變換至鄰近車道閃避，以維持行車順暢並避免碰撞 (3)應立即放慢速度並準備煞車，同時與對方保持適當安全間隔
477	3	機車行駛中遭遇濃霧、大雨或路面砂石等特殊狀況時，關於安全駕駛之處置方式，下列敘述何者正確？ (1)開啟頭燈並提高警覺後，得視路況熟悉程度維持正常速度行駛 (2)跟隨前車行駛軌跡並保持安全距離，可維持與前車相同之速度通過 (3)應開啟頭燈減速慢行並拉長跟車距離，必要時靠邊暫停待狀況改善後再行駛
478	1	機車行駛中遇道路施工路段時，關於通過方式，下列敘述何者正確？ (1)應減速慢行並依施工路段指示標誌或引導人員指揮小心通過 (2)施工路段已設置完善警示設施，得維持原速小心通過 (3)施工現場有交通引導人員指揮時，依其指示方向行駛即可，無須特別減速
479	2	關於機車行駛中變換車道之規定，下列敘述何者錯誤？ (1)變換車道前應先顯示方向燈，並注意前後左右有無車輛 (2)道路交通順暢且與鄰車保持安全間距時，得變換車道以利行進






題號	答案	題目內容
		(3)變換車道時不得驟然或任意變換，應讓直行車先行
480	3	<p>機車駕駛執照經公路監理機關註銷後，關於駕駛機車之規定，下列敘述何者正確？</p> <p>(1)持有小型車以上駕照者，依規定仍得駕駛輕型機車</p> <p>(2)完成道路交通安全講習並繳清相關罰鍰後，即可恢復駕駛資格</p> <p>(3)不得駕駛任何種類之機車，須依規定重新考領駕照後方可駕駛</p>




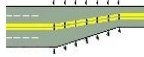

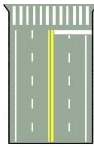


主動停讓文化

路口安全（有號誌路口、無號誌路口、停讓行人）

題號	答案	題目內容
481	2	下列何者不是機車駕駛人在交岔路口轉彎前必要做的動作?(1)減速、禮讓(2)開亮頭燈(3)顯示方向燈。
482	1	行車管制號誌顯示紅燈時：(1)禁止通行 (2)右轉車可以繼續通行 (3)交通狀況許可時，可以左轉彎。
483	3	騎機車駛近鐵路平交道，正好遮斷柵欄慢慢放下，前行很多機車，都加速搶先穿越，你應該怎麼辦：(1)馬上跟著前車搶先通過 (2)停車看一邊確認沒有危險，再從柵欄下穿過去 (3)停下來等火車通過了柵欄拉起後再通過。
484	3	駕駛人駕車行駛人行道，或經行人穿越道不依規定讓行人優先通行，因而致人受傷或死亡，依法應負刑事責任者加重其刑至(1)一倍(2)二倍 (3)二分之一。
485	3	機車駕駛人行經有燈光號誌管制之交岔路口闖紅燈，經當場舉發者，除罰鍰外，並予記違規點數(1)1點(2)2點(3)3點。
486	3	駕駛機車有闖紅燈行為，經當場舉發之處罰是(1)罰鍰新臺幣 1,200 元至 3,600 元(2)吊扣駕駛執照 1 個月(3)罰鍰新臺幣 1,800 元至 5,400 元並記違規點數 3 點。
487	1	行近行人穿越道時，(1)應減速慢行，遇有行人穿越，應暫停讓行人先行(2)鳴喇叭穿越通過(3)應加速通過。
488	3	在鐵路平交道、交岔路口、快車道、行人穿越道(1)可以停車(2)可以臨時停車(3)不得臨時停車。
489	2	行人穿越道上(1)可以停車(2)不得臨時停車 (3)無規定。
490	2	行駛至交岔路口，如未設標誌、標線或號誌劃分幹、支線道者，(1)多線道車應暫停讓少線道先行(2)少線道車應暫停讓多線道先行(3)以上皆可。
491	3	行駛至交岔路口，其左(右)轉彎時應距交岔路口多少公尺前顯示方向燈或手勢？(1)10公尺(2)20公尺(3)30公尺。
492	2	行近未設行車管制號誌之行人穿越道前，應(1)加速通行(2)減速慢行 (3)無規定。
493	3	騎乘機車時，下列何種行為屬違規行為？(1)快接近交岔路口停止線前燈光號誌已轉為紅燈，趕緊加速通過(2)紅燈右轉(3)以上皆是。
494	1	行至無號誌或號誌故障而無交通指揮人員指揮之交岔路口(1)支線道車應暫停讓幹線道車先行(2)幹線道車應暫停讓支線道車先行(3)以上均可。
495	1	駕駛汽車行經行人穿越道有行人穿越時，不暫停讓行人先行通過者，處分為 (1)罰鍰(2)吊扣駕照 1 個月(3)施以道路交通安全講習 1 小時。
496	2	車身顏色變更需要向何者申請變更登記？(1)原購買機車廠商(2)監理機關(3)環保機關。
497	3	行車遇有行人穿越時，下列何者不正確？(1)行近未設行車管制號誌之行人穿越道前，

題號	答案	題目內容
		應減速慢行(2)行經行人穿越道，遇有行人穿越時，無論有無交通指揮人員指揮或號誌指示，均應暫停讓行人先行通過(3)未劃設行人穿越道之交岔路口，無需禮讓行人先行通過。
498	3	行經岔路口，行車管制號誌為綠燈時，(1)通行權在我，應加速通過 (2)應停車，再重新起步行駛通過(3)應減速並小心行駛通過。
499	3	機車駕駛人行經無號誌岔路口，何者非正確行為?(1)接近無號誌岔路口時，減速慢行(2)同時抵達無號誌岔路口時，幹道車輛優先通行(3)同時抵達無號誌岔路口時，若兩車皆為直行，右方車讓左方車優先通行。
500	2	機車駕駛人行經閃黃燈岔路口(1)停車再開(2)減速慢行(3)僅供參考。
501	1	機車駕駛人行經閃紅燈岔路口，(1)停車再開(2)減速慢行(3)僅供參考。
502	2	岔路口一方為閃黃燈、另一方為閃紅燈(1)閃紅燈者優先行駛(2)閃黃燈者優先行駛(3)左方車優先通行。
503	3	機車駕駛人行經岔路口，黃燈亮起時已越行人穿越道，應(1)立即停車(2)退回機車停等區(3)繼續前進。
504	3	騎乘機車在路口停等紅燈時，應(1)儘量避免停於快車道前(2)隨時從照後鏡觀察後方車輛動態(3)以上皆是。
505	2	機車行駛至有大眾捷運系統車輛共用通行，但聲光號誌故障而無交通指揮人員指揮之岔路口時，駕駛人應(1)直接加速通過(2)暫停、看、聽兩方無大眾捷運系統車輛駛來，始得通過(3) 按鳴喇叭通過。
506	3	機車行駛至大眾捷運系統車輛共用通行岔路口，若聲光號誌故障而無交通指揮人員指揮時，駕駛人應(1)直接加速通過(2)按鳴喇叭通過 (3)停、看、聽兩方無輕軌車輛駛來，始得通過。
507	2	下列哪種駕駛行為有誤？(1)輕軌軌道黃線區禁止停留並儘速通過。(2)輕軌聲光號誌警示音聲響時，不用停看聽，趕快加速通過。(3)行經輕軌捷運共用通行岔路口時，要遵守交通號誌。
508	3	有關微型電動二輪車以下敘述何者正確？(1)擅自改裝微型電動二輪車，將處以罰鍰，並須改回原有規格(2)微型電動二輪車最大行駛速率為每小時 25 公里以下，若超速行駛，將處以罰鍰 (3)以上皆是。
509	3	 <p>(1)雙向道(2)救護站(3)岔路。</p>
510	1	 <p>(1)岔路(2)雙向道(3)禁止行人通行。</p>

題號	答案	題目內容
511	3	 <p>(1)狹路(2)雙向道(3)岔路。</p>
512	1	 <p>(1)險升坡(2)險降坡(3)碼頭。</p>
513	2	 <p>(1)停車再開(2)當心台車(3)當心行人。</p>
514	2	 <p>(1)當心行人(2)當心兒童(3)禁止行人通行。</p>
515	2	 <p>(1)當心兒童(2)當心行人(3)禁止行人通行。</p>
516	1	 <p>(1)注意號誌(2)危險(3)行車管制號誌。</p>
517	1	 <p>(1)禁止行人通行(2)當心行人(3)當心兒童。</p>
518	3	 <p>(1)當心兒童(2)當心行人(3)行人專用。</p>
519	2	 <p>(1)岔路(2)此路不通(3)加油站。</p>

題號	答案	題目內容
520	2	 <p>(1)閃光黃燈(2)行車管制號誌(3)雙閃光黃燈。</p>
521	2	 <p>(1)雙閃光黃燈(2)特種閃光黃燈號誌(3)時相交通號誌。</p>
522	1	 <p>(1)行人專用號誌(2)閃光黃燈(3)時相交通號誌。</p>
523	3	 <p>(1)特種閃光「黃燈」號誌(2)行車管制號誌(3)行人穿越道號誌。</p>
524	3	 <p>(1)近障礙物線(2)近鐵路平交道線(3)路寬變更線。</p>
525	1	 <p>圖中斜紋是指：(1)斑馬紋行人穿越道線(2)停止線(3)路面邊線。</p>
526	2	 <p>圖中橫向白色實線是指：(1)禁止超車線(2)停止線(3)行人穿越道線。</p>
527	3	 <p>(1)前方來車停止(2)全部車輛停止(3)前後來車停止，左右來車通行。</p>
528	1	


題號	答案	題目內容
		(1)全部車輛停止(2)前後來車停止，左右來車通行(3)前方來車停止。
529	1	 <p>(1)右方來車左轉彎(2)右方來車速行(3)左方來車速行。</p>
530	1	 <p>(1)右方來車停止(2)右方來車左轉彎(3)右方來車速行。</p>
531	2	 <p>(1)右方來車左轉彎(2)左方來車速行(3)右方來車速行。</p>
532	1	 <p>(1)左方來車左轉彎(2)右方來車速行(3)左方來車停止。</p>
533	1	 <p>(1)前方來車停止(2)前後停止左右通行(3)全部車輛停止。</p>
534	3	 <p>(1)右方來車停止(2)左方來車通行(3)右方來車速行。</p>
535	2	<p>關於闖紅燈之違規認定標準，下列敘述何者錯誤？</p> <p>(1)車輛於紅燈亮起後，車身超越停止線並足以妨害其他方向人車通行者，構成闖紅燈</p> <p>(2)車輛於紅燈亮起後，前輪超越停止線即已構成闖紅燈，不以車身完全越線為必要</p> <p>(3)車輛於紅燈亮起後，車身超越停止線，但實際上未妨害其他方向車輛通行者，不構成闖紅燈</p>
536	1	<p>機車於路口等候時，號誌轉為紅燈後始跨越停止線進行迴轉，關於此行為之違規認定，下列敘述何者正確？</p> <p>(1)紅燈時車身跨越停止線即構成闖紅燈，不因後續迴轉或轉向動作而改變認定</p> <p>(2)迴轉係掉頭返回原道路，未實際穿越路口進入對向，應依違規迴轉處罰而非闖紅燈</p> <p>(3)若該路口設有禁止迴轉標誌，則以違反標誌指示處罰；未設禁止標誌者，不構成違規</p>
537	2	<p>下列行為何者不屬於闖紅燈行為？</p> <p>(1)車輛面對紅燈亮起後，車身仍超越停止線並足以妨害其他方向人、車通行</p> <p>(2)車輛於紅燈亮起前通過停止線，但因對向來車眾多，而於各行向號誌為紅燈時才轉</p>

題號	答案	題目內容
		至銜接路段 (3)車輛面對紅燈亮起後，超越停止線迴轉至銜接路段
538	1	機車於號誌燈號變換之際，因未能依號誌指示及時停止，致前輪伸越停止線，但車身主體仍在停止線後，關於此情形之違規認定，下列敘述何者正確？ (1)僅前輪越線而車身主體未超越停止線，視為不遵守標線指示 (2)紅燈時車輛任何部分超越停止線即構成闖紅燈，與越線程度無關 (3)駕駛人已及時煞停且未繼續前行，顯示有遵守號誌之意，不構成任何違規
539	3	車輛面對號誌為綠燈時，前行或轉彎之車道交通擁塞而逕行駛入交岔路口內，於號誌轉換後未能通過，致妨礙其他車輛通行，關於此行為之違規認定，下列敘述何者正確？ (1)沒有違規 (2)闖紅燈 (3)進入路口時號誌為綠燈，不構成闖紅燈，但仍會因妨礙其他車輛通行，而被處以罰鍰
540	2	車輛於紅燈亮起前通過停止線，僅因橫向車流阻隔或因路口範圍甚大等，而於紅燈後仍停等於路口範圍，並俟他向車流減少或空隙之時，逕予穿越路口至銜接路段，應如何認定？ (1)闖紅燈 (2)屬於特殊情況，不視為闖紅燈 (3)視為不遵守標線指示
541	2	機車駕駛人面對紅燈亮起後，仍超越停止線，並足以妨害其他方向車輛或行人通行時，應如何認定？ (1)不視為闖紅燈 (2)闖紅燈 (3)僅處罰鍰，不記點
542	3	關於平面交叉路口範圍之界定，下列敘述，何者正確？ (1)路口範圍一律以各方向道路停止線相互連接之區域為準 (2)路口範圍以交通號誌或標誌所涵蓋之管制區域為界定標準 (3)劃有停止線者，自停止線劃設後所涵蓋之路面；未劃停止線者，以道路或人行道邊緣虛擬連接線以外 5 公尺劃設後所涵蓋之路面。
543	2	機車行經無號誌之交岔路口，行車速度應該如何？ (1)加速通過 (2)減速慢行 (3)維持原速
544	3	行近交叉路口前，見到遠方行車管制號誌燈已轉為黃燈，且尚未通過停止線，機車駕駛人應如何行駛？ (1)為趕時間可以加速繼續行駛，以免浪費時間空等紅燈 (2)應維持原速通過路口，以免影響後方車流 (3)應適當減速慢行，並於停止線前等候紅燈
545	3	駕駛人為了趕時間而闖紅燈，如遭當場舉發者，依法將處罰？ (1)僅處罰鍰 (2)應處罰鍰，並上道安講習 3 小時 (3)應處罰鍰，並記違規點數 3 點
546	1	機車駕駛人行經有燈光號誌管制之交叉路口，搶快闖紅燈者，依規定將處罰多少金額之罰鍰？ (1)處新臺幣 1,800~5,400 元罰鍰 (2)處新臺幣 1,200~3,600 元罰鍰

題號	答案	題目內容
		(3)處新臺幣 900~1,800 元罰鍰
547	1	駕駛人行經有燈光號誌管制之交叉路口，紅燈右轉者？ (1)處新臺幣 600~1,800 元罰鍰 (2)處新臺幣 1,200~2,400 元罰鍰 (3)處新臺幣 1,200~1,800 元罰鍰
548	2	兩輛機車從不同方向，同時抵達一個未設有任何交通號誌或停（讓）標誌（線）且進入路口行向車道數相同的交叉路口，若兩車皆為直行，關於通行的優先權，下列何者正確？ (1)右方車應讓左方車輛優先通行 (2)左方車應讓右方車輛優先通行 (3)應由車速較快的車輛優先通行
549	3	機車駕駛人行經設有行人穿越道的路口時，若看到行人正在穿越道路，下列哪項處置方式是正確的？ (1)只要保持足夠距離，從行人前後空隙緩慢通過 (2)靠近行人，按鳴喇叭示意行人加速通過 (3)停車，讓行人優先通過
550	2	機車行駛至交叉路口，遇綠燈時應如何通過路口？ (1)綠燈時有絕對路權，可加速通過 (2)放慢車速，小心通過 (3)綠燈時有絕對路權，可保持原速通過
551	2	機車行駛至交叉路口時，關於安全通過之方式，下列敘述何者正確？ (1)號誌為綠燈時即可直接通過，無須再行觀察路口動態 (2)應注意前方及兩側動態路況，並依號誌、標誌、標線指示行駛 (3)跟隨前車行進並保持安全距離，即可安全通過路口
552	2	機車行駛至劃設有「機慢車停等區」之交叉路口遇紅燈時，關於停車位置，下列敘述何者正確？ (1)機慢車停等區與左轉待轉區均為機車專用，可視當時空間擇一停入 (2)應依標線指示停於機慢車停等區內或停止線後，不得停入左轉待轉區 (3)若待轉區有空間，可直接進入，以縮短等候時間
553	3	機車行經行人穿越道時，遇行人違規闖紅燈穿越，關於駕駛人之處置方式，下列敘述何者正確？ (1)行人違規在先，駕駛人依號誌行駛具有路權，按鳴喇叭警示後得逕行通過 (2)行人違規時駕駛人雖應減速，但若發生碰撞，肇事責任歸屬於違規之行人 (3)行人違規要受罰，駕駛人仍應注意停讓行人先行通過
554	2	車輛行至無號誌之圓環路口時，關於通行優先順序，下列敘述何者正確？ (1)應依「左方車讓右方車先行」原則，右側欲進入圓環之車輛優先 (2)應讓已在圓環內行駛之車輛先行，再依序駛入 (3)由較寬或車流量較大大道駛來之車輛，優先進入圓環
555	2	行車遇閃光紅燈號誌時，關於其交通意義及駕駛人應有之行為，下列敘述何者正確？ (1)閃光紅燈表示警告，車輛應減速接近，注意安全後通過 (2)閃光紅燈視同「停車再開」，車輛應先停車，確認安全後方可通行 (3)閃光紅燈表示前方為次要道路，確認幹道無來車後即可通過
556	3	機車行駛至交叉路口遇綠燈亮起時，關於通過路口之方式，下列敘述何者較為正確？ (1)綠燈表示允許通行，確認前方無車輛阻擋後即可直接通過 (2)綠燈時行人依規定不得穿越，故駕駛人可依號誌指示正常通過 (3)綠燈時仍應注意路口動態，如有行人穿越應讓其先行

題號	答案	題目內容
557	3	在交叉路口，交通指揮人員之指揮手勢與燈光號誌同時存在且不一致時，應依何者為準？ (1)燈光號誌 (2)交通標誌或標線 (3)交通指揮人員之指揮
558	2	機車駕駛人行至號誌化路口時，見紅燈亮起，應於何處停車？ (1)應於行人穿越道線前停車 (2)不得超越停止線或進入路口 (3)應於路口中央等待
559	2	機車行近未設行車管制號誌之行人穿越道時，關於駕駛人應有之行為，下列敘述何者正確？ (1)目視確認穿越道上無行人時，得維持原速通過 (2)無論穿越道上有無行人，均應減速慢行接近 (3)行人尚未踏入穿越道前，車輛具有優先通行權

注意大型車行駛及轉彎（內輪差、視野死角、不並行）

題號	答案	題目內容
560	2	汽車轉彎時，軸距愈長則內外輪差也愈大，也就是所需路面的寬度也 (1)愈小(2)愈大(3)不變。
561	3	執行任務完畢的消防車、救護車、警備車其行車速度應(1)不受限制 (2)每小時 50 公里(3)依道路速限規定行駛。
562	1	車輛內輪差觀念，下列何者不正確？(1)小客車沒有內輪差(2)軸距愈長車輛內輪差愈大(3)聯結車、砂石車等大型車，轉彎時會出現較大之內輪差。
563	3	在轉彎處發生車禍的原因，常是駕駛人(1)疏忽視野死角(2)疏忽大型車輛內輪差(3)以上皆是。
564	3	 <p>(1)禁止任何車輛進入(2)禁止拖車進入(3)禁止大貨車及聯結車進入。</p>
565	2	關於闖紅燈之違規認定標準，下列敘述何者正確？ (1)車輛面對號誌非為紅燈時超越停止線，惟於紅燈亮起後仍停等於路口範圍內 (2)車輛面對圓形紅燈，以牽引(騎乘)方式至其他非為紅燈號誌行向之道路後繼續騎乘 (3)車輛於紅燈亮起後，前輪超越停止線，惟未妨害橫向人車通行
566	2	機車在道路行駛時，發現有大型車跟在後方時，應怎麼做較為適當？ (1)加速，保持車距 (2)靠右減速行駛或適當禮讓，讓大型車超車 (3)立刻停車
567	2	機車行駛在大型車輛旁，應如何駕駛？ (1)應緊貼大型車輛，保持並行

題號	答案	題目內容
		(2)應避免與大型車輛並行，並保持足夠間隔 (3)因車體較小，可於大小車兩側並行行駛
568	2	下列關於執行緊急任務的特種車輛行車速度限制，何者敘述正確？ (1)所有執行緊急任務的特種車輛，其行車速度仍必須完全遵守一般道路速限 (2)執行任務中的消防車、救護車、警備車及毒性化學物質災害事故應變車等，其行車速度不受一般規定限制 (3)執行任務中的警備車及工程救險車雖可略微超速，但仍需比照高速公路最高速限行駛
569	3	執行緊急任務中的消防車、救護車及警備車等，在行駛時可以使用哪些車道？ (1)僅限行駛內側車道，以便快速抵達現場 (2)僅限行駛外側車道，避免影響正常車流 (3)內、外側車道均可行駛，不受車道及行車方向限制
570	3	發現有執行任務之救護車行駛時，機車駕駛人應如何處置？ (1)加速超越該車輛，立即超車 (2)緊跟車後追行 (3)應避讓該車，不得超越
571	3	下列何種車輛，機車駕駛人不須禮讓？ (1)身心障礙者用特製車、警備車 (2)幼童專用車、教練車 (3)垃圾車、郵務車
572	2	行駛中發現前方大型車輛開啟右轉方向燈準備右轉，騎士應如何因應？ (1)趁大型車輛減速時從其右側加速超越 (2)減速並保持距離在大型車輛後方，避免進入其右側內輪差範圍 (3)緊靠大型車輛右後方跟隨轉彎

安全駕駛能力

轉彎（左右轉、迴轉）

題號	答案	題目內容
573	3	在轉彎時發生車禍的原因為機車駕駛人(1)僅疏忽視野死角(2)僅疏忽內輪差(3)以上皆是。
574	1	設有劃分島劃分快慢車道之道路，在慢車道上行駛之車輛不得(1)左轉(2)右轉(3)左右轉。
575	2	設有劃分島劃分快慢車道之道路，在快車道行駛之車輛不得(1)左轉 (2)右轉(3)左右轉。
576	2	路口轉彎時顯示方向燈應在幾公尺前提醒其他用路人？(1)100 公尺 (2)30 公尺(3)10 公尺。
577	1	機車行駛至交岔路口，其轉彎，應依標誌或標線之規定行駛，無標誌 或標線者，內側車道設有禁行機車標誌或標線者，應 (1)兩段方式進行左轉 (2)可以由內側左轉 (3)由其他車道左轉。
578	2	未設機慢車左(右)轉待轉路段，對向行駛之左右轉彎車輛，已轉彎進入同一車道時應讓：(1)右轉彎車輛先行(2)左轉彎車輛先行(3)同時前進。
579	2	機車進入彎道前(1)不須減速(2)須適當減速(3)須適當加速。
580	2	下列何者非機車彎道行駛安全事項？ (1)彎道前應確實減速 (2)彎道中配合彎道加速以保持車身平衡 (3)出彎確認安全後再適度加速回復原速度。
581	3	下列何者非機車駕駛人轉彎前應做動作(1)顯示方向燈(2)讓大型車先行(3)開亮頭燈。
582	2	 <p>(1)單行道(2)雙向道(3)狹路。</p>
583	2	 <p>(1)禁止迴車(2)禁止左轉(3)禁止右轉。</p>

題號	答案	題目內容
584	3	 <p>(1)禁止左轉(2)禁止右轉(3)禁止左轉及直行。</p>
585	1	 <p>(1)指示改道方向(2)單行道(3)行車方向指示。</p>
586	2	 <p>(1)道路施工(2)道路封閉(3)車輛改道。</p>
587	3	 <p>(1)機慢車兩段右轉(2)機車專行(3)機慢車兩段左轉。</p>
588	1	 <p>(1)機慢車兩段右轉(2)機車專行(3)機慢車兩段左轉。</p>
589	1	 <p>圖中白色虛線為：(1)轉彎線(2)網狀線(3)槽化線。</p>
590	3	 <p>本標誌為：(1)地名里程指示(2)方向里程指示(3)地名方向指示。</p>
591	1	 <p>(1)地名里程指示(2)方向里程指示(3)地名方向指示。</p>
592	1	 <p>本號誌是：(1)車道管制號誌，表示本車道封閉(2)前有岔道(3)行車管制號誌。</p>

題號	答案	題目內容
593	2	 <p>(1)單行道(2)車道遵行方向(3)僅准左轉。</p>
594	3	 <p>(1)僅准直行(2)遵行方向(3)單行道。</p>
595	1	<p>下列行為何者屬於闖紅燈行為？</p> <p>(1)機車駕駛人於號誌為紅燈時，跨越停止線行駛至前方機慢車左轉待轉區</p> <p>(2)車輛面對紅燈亮起時，車輛前輪超越停止線，但車身未進入路口</p> <p>(3)車輛於紅燈亮起前通過停止線等待左轉，但對向來車眾多，俟全紅時段轉至銜接路段</p>
596	3	<p>機車駕駛人面對紅燈時，在行人專用號誌為綠燈之狀況下，下車牽引機車通過行人穿越道至機慢車待轉區內暫停，並於綠燈後駛離，此行為應如何認定？</p> <p>(1)視同行人，無須遵守</p> <p>(2)僅違反不遵守標線指示</p> <p>(3)因已跨越停止線及行人穿越道並妨害他人通行，視同闖紅燈</p>
597	1	<p>機車於設有待轉區之路口進行兩段式左轉時，關於進入待轉區之方式，下列敘述何者正確？</p> <p>(1)利用直行車道進入待轉區，進入前減速，顯示煞車燈即可</p> <p>(2)利用右轉車道進入待轉區，以避免妨礙直行車輛通行</p> <p>(3)待轉區空間有限時，得暫停於行人穿越道上等候進入</p>
598	1	<p>於機慢車左轉待轉區線停等之機車駕駛人，未俟其行向之號誌允許直行時，即直行至銜接路段，下列敘述何者正確？</p> <p>(1)視為闖紅燈</p> <p>(2)沒有違規</p> <p>(3)視為不遵守標線指示</p>
599	3	<p>機車駕駛人依規定變換車道或轉彎時，應在距離交叉路口或轉彎地點多少公尺前顯示方向燈？</p> <p>(1)10 公尺前</p> <p>(2)20 公尺前</p> <p>(3)30 公尺前</p>
600	2	<p>在禁止左轉路段是否可實施迴車？</p> <p>(1)可以，但應注意後方來車</p> <p>(2)不可以，違者，經當場舉發，除罰鍰外並記違規點數 1 點</p> <p>(3)可以，但須先打左轉燈</p>
601	3	<p>有關迴車規定，下列何者正確？</p> <p>(1)行經圓環路口可直接迴車</p> <p>(2)行經分向限制線可以直接迴車</p> <p>(3)禁止左轉路段，不得迴車</p>
602	3	<p>機車行駛於三快車道以上之單行道道路，關於轉彎方式之規定，下列敘述何者正確？</p> <p>(1)行駛於右側車道或慢車道欲左轉時，應先變換至左側車道後再行左轉</p> <p>(2)行駛於左側車道欲右轉時，應先變換至右側車道後再行右轉</p>

題號	答案	題目內容
		(3)行駛於右側車道欲左轉，或行駛於左側車道欲右轉，均應以兩段方式轉彎
603	2	機車行至設有「機慢車兩段左轉」標誌之路口，遇深夜時段車流稀少，關於左轉方式，下列敘述何者正確？ (1)深夜離峰時段車流量低，確認安全無虞後得直接左轉 (2)無論車流量多寡或時段，均應依規定進行兩段式左轉 (3)該標誌屬建議性質，駕駛人得視現場車流狀況自行判斷左轉方式
604	1	機車行駛至交通號誌路口欲左轉彎時，若需須進行兩段式左轉，應如何操作？ (1)應先駛入右前方待轉區等待號誌 (2)應在停止線後等待號誌並直接左轉 (3)應直接依車道行進方向行駛
605	2	機車行駛道路時，若遇內側車道為「禁行機車」路段，欲左轉彎時應依何種方式左轉？ (1)直接左轉 (2)兩段式左轉 (3)任意選擇轉彎方式
606	1	機車行駛至不須兩段式左轉之交岔路口，左轉彎時應依規定使用方向燈，以下敘述何者正確？ (1)應距岔路口 30 公尺前顯示方向燈，換入內側車道或左轉車道 (2)機車轉彎時，不需顯示方向燈 (3)機車轉彎只要看見路口淨空就可變更方向

行駛中應注意事項（保持安全車距、注意前車狀況）

題號	答案	題目內容
607	1	騎乘機車時，看見前方路邊有球滾動出來，應 (1)減速注意路況，做好隨時煞停之準備，因預期將有小朋友會衝出來撿球 (2)臨時閃避，快速通過 (3)鳴按喇叭，騎至對向車道。
608	2	騎乘機車經過煙塵路段時，應該如何駕駛？(1)緊跟在大型車後方，其尾燈有助看清路況(2)減速慢行，開亮頭燈，與前車保持更長之行車安全距離 (3)加速通過。
609	2	夜間騎車，駕駛人不易發現的目標是(1)移動中的行人(2)站立的人物 (3)移動中的車輛。
610	2	騎車時應注意(1)路旁的商家(2)前方的號誌、標誌指示及前車的行車動向(3)以上皆是。
611	1	騎車時應(1)正視前方並注意左右來車(2)左顧右盼且可以吃喝食物(3)與後座乘客嬉鬧。
612	1	大型車輛通過時猶如唧筒吸走空氣，隨後會產生強力之吸力，故與大型車輛併行或會車時應(1)握穩把手(2)身體放鬆(3)無所謂。
613	2	在狹路與他車交會時應：(1)搶先前進使對方讓路 (2)預先估計有足夠位置，儘量靠邊停讓他車先行 (3)大鳴喇叭，警告對方避讓。
614	3	因所駕駛之機車車速較慢，聞後方按喇叭請求讓路時應：(1)立即停車，讓其超越(2)仍依原行駛路線行車，不予理會(3)略靠右側行車，並亮方向燈號或手勢表示允讓。
615	2	在深夜郊外道路上，空曠無車無人的情況下：(1)可以用高速練習開快車 (2)仍應按規定速限內行駛 (3)可以隨便開車。

題號	答案	題目內容
616	2	車輛行駛速度愈高，所產生的衝擊力：(1)愈小 (2)愈大 (3)不變。
617	2	機車附載坐人(1)可以側坐(2)為求安全不得側坐(3)無規定。
618	2	後車超越前車時，應該(1)由前車右側超車(2)由前車左側超越(3)任意超越。
619	2	機車在已劃分快慢車道之雙向道路行駛，而無標誌、標線規定者，應於(1)最內側車道行駛(2)在最外側快車道及慢車道行駛(3)無規定。
620	2	機車行車速度，依速限標誌或標線之規定，無速限標誌或標線者，在 未劃設車道線或行車分向線之道路，行車速度每小時(1)不得超過 20 公里(2)不得超過 30 公里(3)不得超過 40 公里。
621	1	機車行車速度，依速限標誌或標線之規定，無速限標誌或標線者，行車時速不得超過(1)50 公里(2)40 公里(3)30 公里。
622	1	機車同一方向行駛時，後車與前車(1)應保持隨時可以煞停之距離(2) 不需保持距離(3)應平行前進。
623	1	機車在未劃分快慢車道之單行道行駛，應在(1)最左、右車道行駛(2) 只能在最右車道行駛(3)任何車道均可行駛。
624	2	機車在道路行駛(1)不受交通標誌之限制(2)應遵守道路交通標誌、標線、號誌之指示(3)標誌等與機車無關，不必理會。
625	1	機車行車速度，依標誌之規定行駛，無速限標誌或標線者，在設有快慢車道分隔線之慢車道上行駛，時速不得超過(1)40 公里(2)50 公里 (3)60 公里。
626	3	按鳴喇叭的時間，每次(1)不得超過二秒鐘(2)不得超過一秒鐘(3)不得超過半秒鐘。
627	2	無標誌或標線指示，機車在未劃分快慢車道之道路，應行駛(1)內側車道(2)最外側 2 車道(3)內側車道中央。
628	1	行車時兩車交會，其相互間隔不得少於(1)半公尺(2)1 公尺(3)2 公尺。
629	1	駕車行經彎道、陡坡、狹橋、隧道、交岔路口標誌之路段或鐵路平交道、道路施工地段時，(1)不得超車(2)可以超車(3)無規定。
630	3	關於行車間距的控制，下列何者不正確？(1)行車時兩車交會，其左右相互間隔不得少於半公尺(2)經過路邊臨停的車輛，應保持 1 公尺(約 1 個車門)以上安全間隔(3)以能通過為原則，不必考慮行車間隔。
631	1	機車在同一車道行駛時，與前車之間應保持(1)隨時可以煞停之距離 (2)5 公尺距離(3)10 公尺距離。
632	3	在同向二車道行車時，如遇汽車或機車行駛於與你同一車道的前方，你應(1)鳴按喇叭促其駛至慢車道(2)直接併行超越之(3)跟隨其後不得隨意超車。
633	1	由同向二車道進入一車道，應讓直行車道之車輛先行，無直行車道者，(1)內車道之車輛先行(2)外車道之車輛先行(3)搶快者先行。
634	3	機車與汽車或其他機車會車時，相互之間隔，不得少於(1)2 公尺(2)1 公尺(3)半公尺。
635	2	機車行駛之車道，應依標誌或標線之規定行駛；無標誌或標線者，(1)得在人行道行駛(2)不得在人行道行駛(3)無規定。
636	1	駕駛人行車速度，低於規定之最低時速，經當場舉發者(1)罰鍰並記違規點數 1 點(2)

題號	答案	題目內容
		吊扣駕照 1 個月(3)無規定。
637	1	駕駛人行經設有彎道、坡路、狹路、狹橋或隧道標誌之路段或道路施工路段，不減速慢行者(1)罰鍰(2)記違規點數 1 點(3) 吊扣駕照 1 個月。
638	1	駕駛人行經設有學校、醫院標誌之路段，不減速慢行，經逕行舉發者(1)罰鍰(2)記違規點數 1 點(3) 吊扣駕照 1 個月。
639	2	機車不在規定車道行駛，經當場舉發者(1)吊扣駕照 1 個月(2)罰鍰並記違規點數 1 點(3)施以道路交通安全講習。
640	3	下列何項設施設置之目的在於提供車輛駕駛人及行人有關道路路況之 警告、禁制、指示等資訊，以便利行旅及促進交通安全？(1)標誌、標線(2)號誌(3)以上皆是。
641	3	機車行駛之車道，無標誌或標線者，在未劃分快慢車道之道路，應在最外側 2 車道行駛，單行道應在 (1)最左側車道行駛(2)最右側車道行駛(3)以上均可。
642	1	機車行駛之車道，應依標誌或標線之規定行駛，無標誌或標線者，由同向 2 車道進入 1 車道，應讓直行車道之車輛先行，無直行車道者， (1)外車道之車輛應讓內車道之車輛先行(2)內車道之車輛應讓外車道之車輛先行(3)以上均可。
643	3	行經設有彎道、陡坡、狹橋、隧道、岔路口標誌之路段或鐵路平交 道、道路施工地段 (1)可以超車(2)須先按鳴喇叭示警並獲允讓方可超車(3)不得超車。
644	3	在設有學校、醫院標誌或其他設有禁止超車標誌、標線之處所、地段或對面有來車交會或前行車連貫 2 輛以上者，(1)可以超車(2)須先按鳴喇叭示警並獲允讓方可超車(3)不得超車。
645	3	超越同 1 車道之前車時，預先按鳴喇叭 2 單響或變換燈光 1 次，但(1)不得連續密集按鳴喇叭，迫使前車允讓(2)不得連續變換燈光，迫使前車允讓(3)以上皆是。
646	3	聞消防車、救護車、警備車、工程救險車、毒性化學物質災害事故應變車之警號，不避讓者，除罰鍰外，並 (1)違規記點(2)吊扣駕駛執照 3 個月(3)吊銷駕照。
647	2	行車最高指導原則，絕對是(1)車速越慢越好(2)與前車保持安全車距 (3)緊跟前車較不易出錯。
648	2	遇有特殊情況，必須行駛道路左側時，應該(1)加速快行(2)減速慢行並注意前方來車及路旁行人(3)多按鳴喇叭，使對面來車知道。
649	3	變換車道時，應先(1)按鳴喇叭(2)變換燈光(3)顯示方向燈。
650	1	在雙向 2 車道上「欲」超越前行車，發現對向有來車，你應該(1)立即減速放棄超車(2)馬上加速搶先超越(3)按鳴喇叭，促來車減速或避讓。
651	3	在市區交通頻繁之道路(1)按鳴喇叭兩長聲後，可以超車(2)按鳴喇叭兩短聲後，可以超車(3)不可按鳴喇叭或超車。
652	1	行車中，駕駛人看到鐵路平交道標誌或標線後，應即將車速減低至時速(1)15 公里以下(2)20 公里以下(3)30 公里以下。
653	1	禁止停車路段，其禁止時間為每日之(1)上午 7 時至晚間 8 時(2)下午 7 時至上午 8 時(3)全天 24 小時。如有延長或縮短之必要時，應以標誌及附牌標示之。
654	2	禁止停車路段(1)禁止臨時停車，但可以停車(2)禁止停車，但可以臨時停車(3)不得停車也不得臨時停車。



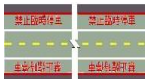
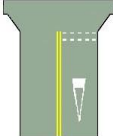
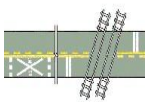




題號	答案	題目內容
655	3	禁止臨時停車路段(1)禁止臨時停車，但可以停車(2)禁止停車，但可以臨時停車(3)不得臨時停車也不得停車。
656	2	車道專供(1)行人(2)車輛(3)行人與車輛 通行之道路。
657	1	變換車道時，應：(1)讓直行車先行(2)讓轉彎車先行(3)不須禮讓。
658	3	號誌是管制：(1)警告、行進 (2)禁制、行進 (3)注意、行進、停止等之指示訊號。
659	1	除行駛在單行道或指定行駛於左側車道外，在未劃行車分向線或分向限制線之道路，應：(1)靠右行駛(2)靠左行駛(3)在道路中間行駛。
660	2	在未劃有分向標線之道路，或鐵路平交道，或不良道路會車時，應該：(1)加速快行(2)減速慢行(3)照常行駛。
661	1	在峻狹坡道會車時，應該：(1)下坡車讓上坡車先行(2)上坡車讓下坡車先行(3)不須相讓。
662	3	在設有彎道、坡路、狹橋、隧道標誌路段或鐵路平交道處：(1)可以迴車(2)減速至 5 公里左右始可迴車(3)不得迴車。
663	1	交岔路口、公共汽車招呼站多少公尺內不得臨時停車：(1)10 公尺 (2)20 公尺(3)30 公尺。
664	1	行經設有學校、醫院標誌之路段，應該：(1)減速慢行，作隨時停車之準備(2)多按鳴喇叭，使行人注意(3)加速通過，以免人車擁塞。
665	3	行駛在設有彎道、坡路、狹路標誌之路段，應該：(1)加速通過，以免車輛擁塞(2)前車行駛速度太慢時，應按鳴喇叭使前車加速前進(3) 均應減速慢行，作隨時停車之準備。
666	2	駛近學校、醫院等處時：(1)多按鳴喇叭，使學生或病人等注意(2)除遇有緊急或危險情況外，不得按鳴喇叭(3)只能按喇叭 1 短聲。
667	1	駕駛人有下列情形之一者，應施以道路交通安全講習：(1)闖越鐵路平交道(2)於交岔路口 10 公尺內臨時停車(3)變換車道時，未注意安全距離。
668	3	駕駛人駕車，違反道路交通安全規則，因而肇事致人死亡者：(1)吊扣行車執照(2)吊扣駕駛執照(3)吊銷駕駛執照。
669	3	兩輛以上之機車在道路上競駛或競技者，除處罰駕駛人新臺幣 30, 000~90, 000 元罰鍰，及當場禁止其駕駛，並應：(1)吊扣其駕駛執照(2)吊銷其牌照(3)吊銷其駕駛執照。
670	1	遇幼童專用車、校車不依規定禮讓，或減速慢行，經當場舉發者，除記違規點數外，並處：(1)罰鍰(2)吊銷駕照(3)吊扣駕照。
671	2	長時間連續使用煞車會使煞車來令片過熱，造成煞車效果(1)提升(2) 減弱(3)無差別。
672	3	發動機車引擎時，必先(1)開啟頭燈(2)打開危險警示燈(3)握住煞車拉桿。
673	2	行車安全指導原則：(1)車速愈慢愈安全(2)與前車、旁車保持安全車距(3)緊跟前車較不易出錯。
674	1	機車行車時與旁車應保持之安全距離間隔為(1)0.5 公尺以上(2)1 公尺以上(3)隨時可以超車之間隔。
675	2	機車行經路邊停車之汽車旁，應保持之安全間隔為(1) 隨時可以煞停之距離(2)1 公尺









題號	答案	題目內容
		以上(約 1 個車門) (3) 0.5 公尺以上。
676	3	良好之騎乘姿勢是騎乘安全的保障之一，眼睛要(1)保持直視(2)不時注意速度表以免超速(3)注意四周。
677	2	良好之騎乘姿勢是騎乘安全的保障之一，腳掌要(1)保持自然下垂(2)平放踏板上(3)一腳保持自然下垂、一腳平放踏板上。
678	1	行車速率愈高，駕駛人之反應距離：(1)愈長(2)愈短(3)不變。
679	1	最小安全跟車距離必須(1)大於(2)小於(3)等於 停車距離。
680	3	適當的跟車距離可以預防肇事，因為(1)有摩擦力(2)有牽引力(3)有足夠反應時間與空間。
681	2	行經無號誌管制之交岔路口，比較安全的做法：(1)先看右、後看左、再看右(2)先看左、後看右、再看左(3)先看哪邊無差別。
682	1	緊急煞車時易致車輪鎖死，煞車距離會(1)變長(2)變短(3)不變。
683	2	下列何者不是機車正確的煞車方法?(1)同時使用前後輪煞車(2)將油門保持在加油狀況(3)依煞車特性逐漸加強煞車力至最大。
684	2	下列何種行為不利於行車安全?(1)夜間市區行車使用近光燈(2)彎道行車加速以保持車身平衡(3)低速行駛時以控制油門取得平衡。
685	3	機車超車十分危險，下列何者為錯誤行為?(1)應確定該行駛路段允許超車(2)輕按喇叭警示前車、顯示左方向燈警示後方來車(3)以適當速度，由前方機車右側超越。
686	1	下列何者非騎乘機車正確行為?(1)行經圓環應讓環外車輛優先通行(2)加油站出口大多無號誌管制，駕駛人應減速慢行並注意車輛動向(3)行駛於巷道應放慢速度，並利用反射鏡查看有無來車。
687	3	騎乘機車如遇強風從左側吹來，應(1)加速行駛通過(2)向左側傾斜車身(3)雙手握穩機車把手。
688	2	騎乘機車如遇蚊蟲飛進眼睛，最適切之第一反應動作為(1)在原車道立刻煞車處理(2)減速安全停靠路邊處理(3)開亮頭燈。
689	2	騎乘機車遇前方有人孔蓋時，應(1)騎至對向車道(2)通過時握穩把手(3)加速通過。
690	3	騎乘機車經過崎嶇路段時，應(1)握穩把手避免車輛偏移(2)減速慢行，隨時準備停車(3)以上皆是。
691	1	騎乘機車經過施工路段，見地面鋪有鐵板時，應(1)減速通過(2)加速通過(3)臨時閃避。
692	1	騎乘機車時，看見前方有脫落之輪胎皮，何者為錯誤之處置?(1)快速通過(2)緊握機車把手(3)減速慢行。
693	1	機車行駛一般道路時，除擬超越同一車道前車外，後車與前車之間應保持多少距離?(1)隨時可以煞停(2)1 個車身(3)2 個車身。
694	3	騎乘機車行經路邊攤販、招牌、大型障礙物或停放之汽車時，應(1)減速慢行(2)保持適當距離(3)以上皆是。
695	1	騎乘機車至山區道路發現山壁已有落石(1)停止前進或改道(2)機車體積小、機動性高，可以閃避前進(3)戴全罩式安全帽者可繼續前進。

題號	答案	題目內容
696	1	駕駛人在高速行駛狀況下，生理上對於緊急事件之處理(1)反應較平常遲鈍，應變能力減退(2)和平常狀況相同(3)較平常狀況，應變能力加強。
697	2	在深夜郊區道路上空曠無車，騎乘機車(1)可以超速行車(2)仍應按照速限行駛(3)在安全限度內稍微超速行駛，但不宜太快。
698	3	排檔機車行進時，拉離合器拉桿：(1)車輛會慣性滑行(2)車輪空滑(3) 以上皆是。
699	1	 <p>(1)右彎(2)左彎(3)連續彎路先向右。</p>
700	1	 <p>(1)左彎(2)右彎(3)連續彎路先向左。</p>
701	1	 <p>(1)連續彎路先向右(2)左彎(3)右彎。</p>
702	1	 <p>(1)連續彎路先向左(2)右彎(3)左彎。</p>
703	1	 <p>(1)狹路(2)狹橋(3)路寬變更線。</p>
704	2	 <p>(1)右側車道縮減 (2)左側車道縮減(3)狹路。</p>
705	1	 <p>(1)右側車道縮減(2)狹路(3)匝道會車。</p>
706	2	

題號	答案	題目內容
		(1)彎路(2)圓環(3)遵行方向。
707	2	 <p>(1)路面高突(2)路面顛簸(3)修路。</p>
708	3	 <p>(1)路面顛簸(2)坡道(3)路面高突。</p>
709	3	 <p>(1)停車再開(2)讓路(3)慢行。</p>
710	2	 <p>(1)最低速限(2)最高速限(3)車輛總重限制。</p>
711	2	 <p>(1)禁止任何車輛進入(2)禁止四輪以上汽車及機車進入(3)禁止行人通行。</p>
712	3	 <p>(1)禁止大型重型機車以外之機車進入(2)禁止汽缸排氣量 550 立方公分以上大型重型機車進入(3)禁止大型重型機車進入。</p>
713	1	 <p>(1)禁止汽缸排氣量 550 立方公分以上大型重型機車進入(2)汽缸排氣量 550 立方公分以上大型重型機車專用車道(3)禁止自行車進入。</p>
714	2	 <p>(1)禁止電動自行車進入(2)禁止自行車進入(3)禁止機車進入。</p>

題號	答案	題目內容
715	1	 <p>(1)禁止超車(2)禁止聯結車超車(3)禁止行人。</p>
716	2	 <p>(1)禁止左轉(2)禁止迴車(3)禁止停車。</p>
717	2	 <p>(1)最低速限(2)最高速限(3)車輛總重限制。</p>
718	1	 <p>(1)靠右行駛(2)單行道(3)右轉。</p>
719	2	 <p>(1)禁止停車(2)停車再開(3)禁止臨時停車。</p>
720	2	 <p>圖中黃色實線是指：(1)行人穿越道線(2)禁止停車線(3)停止線。</p>
721	1	 <p>(1)行車分向線(2)枕木紋行人穿越道線(3)禁止超車線。</p>
722	3	 <p>(1)路寬變更線(2)近鐵路平交道線(3)近障礙物線。</p>
723	2	 <p>圖中白色虛線是指：(1)枕木紋行人穿越道線(2)車道線(3)路面邊線。</p>

題號	答案	題目內容
717	2	 <p>(1)停放車輛線(2)指向線(3)停止線。</p>
724	2	 <p>圖中黃色雙實線是指：(1)禁止停車線(2)雙向禁止超車線(3)路寬變更線。</p>
725	2	 <p>圖中紅色實線是指：(1)停止線(2)禁止臨時停車線(3)車輛停放線。。</p>
726	1	 <p>圖中白色倒三角形標線是指：(1)讓路線(2)停止線(3)近障礙物線。</p>
727	1	 <p>((1)近鐵路平交道線(2)近障礙物線(3)路寬變更線。</p>
728	3	 <p>(1)車道線(2)行車分向線(3)枕木紋行人穿越道線。</p>
729	2	 <p>(1)右道封閉(2)左道封閉(3)車輛改道。</p>
730	1	 <p>(1)右道封閉(2)左道封閉(3)車輛改道。</p>
731	3	 <p>(1)道路封閉(2)車輛改道(3)道路施工。</p>

題號	答案	題目內容
732	3	 <p>(1)道路施工(2)道路封閉(3)車輛改道。</p>
733	3	 <p>道路指定(1)汽車專行(2)大客車專行(3)自行車及大型重型機車以外之機車專行。</p>
734	1	 <p>(1)指定四輪以上汽車及汽缸排氣量 550 立方公分以上大型重型機車專行(2)指定自行車與機車專行(3)禁止四輪以上汽車與汽缸排氣量 550 立方公分以上大型重型機車進入。</p>
735	2	 <p>(1)指定四輪以上汽車及汽缸排氣量 550 立方公分以上大型重型機車專行(2)道路指定四輪以上汽車及大型重型機車專行(3)禁止四輪以上汽車及大型重型機車進入。。</p>
736	2	 <p>(1)車道指定四輪以上汽車專行(2)車道指定四輪以上汽車及汽缸排氣量 550 立方公分以上大型重型機車專行(3)禁止四輪以上汽車及汽缸排氣量 550 立方公分以上大型重型機車進入。</p>
737	1	 <p>(1)車道指定自行車及大型重型機車以外之機車專行(2)車道指定自行車及大型重型機車專行(3)車道指定自行車及輕型機車專行。。</p>
738	1	 <p>(1)車道指定自行車專行(2)車道指定汽車專行(3)車道指定機車專行。</p>
739	2	 <p>(1)雙向道(2)狹橋(3)狹路。</p>

題號	答案	題目內容
740	1	 <p>(1)捷運車站(2)鐵路車站(3)高速鐵路車站。</p>
741	1	 <p>左臂向上，手掌向右微曲，表示：(1)右轉彎(2)左轉彎(3)讓後車超車。</p>
742	2	 <p>左臂平伸，手掌向下，表示：(1)右轉彎(2)左轉彎(3)慢行。</p>
743	1	 <p>左臂向下垂伸，手掌向後，表示：(1)減速暫停(2)讓後車超越(3)倒車。</p>
744	1	 <p>(1)道路僅准左轉(2)單行道(3)靠左側車道行駛。</p>
745	2	 <p>(1)地名里程指示(2)方向里程指示(3)地名方向指示。</p>
746	3	 <p>本標誌為高速公路指引標誌，用以指引：(1)快速公路(2)高速公路(3)一般道路之車輛駛往高速公路交流道。</p>
747	2	 <p>(1)里程碑(2)里程牌(3)縣道路線編號標誌。</p>
748	3	

題號	答案	題目內容
		(1)捷運車站(2)鐵路車站(3)高速鐵路車站。
749	1	 <p>(1)人行天橋(2)人行地下道(3)停車處。</p>
750	1	<p>機車行駛彎路時，關於安全駕駛之操作方式，下列敘述何者正確？</p> <p>(1)應於進入彎道前充分減速，並於彎道中保持穩定速度通過</p> <p>(2)彎道中若發現車速過快，應壓低車身即可，不必減速</p> <p>(3)通過彎道期間時應持續輕含煞車，以便隨時控制車速應變突發狀況</p>
751	1	<p>機車行駛時應保持隨時可以煞停之安全距離，其距離判斷，下列何者正確？</p> <p>(1)與前車保持適當的距離，以能隨時煞停為準</p> <p>(2)與前車保持一個輪胎之距離</p> <p>(3)與前車保持一個車身長度</p>
752	1	<p>在同向三車道的道路上，如無標誌或標線規定者，大型重型機車以外的機車如何行駛？</p> <p>(1)應行駛於最外側二車道</p> <p>(2)應行駛於最內側快車道</p> <p>(3)可以隨意行駛任一車道</p>
753	2	<p>在雙向二車道道路，對面有來車交會時，應採何種方式超車？</p> <p>(1)應加速超車</p> <p>(2)不得超車</p> <p>(3)依據來車車種決定是否超車</p>
754	2	<p>於設有行車分向線之雙向二車道超車時，滯留對向車道時間與肇事危險機率是否有關？</p> <p>(1)無關</p> <p>(2)滯留時間越久，肇事危險的機率越大</p> <p>(3)滯留時間越久，肇事危險的機率越小</p>
755	1	<p>在平坦筆直路段，雖劃有雙實黃線，但遇對向車道無來車時，可否超車？</p> <p>(1)仍不可跨越或駛入對向車道超車</p> <p>(2)只要注意安全，仍可暫時駛入對向車道超車</p> <p>(3)可超車，但必須加速通過</p>
756	1	<p>後車跟隨前車行駛時，應如何保持最小安全跟車距離？</p> <p>(1)應大於停車距離</p> <p>(2)應小於停車距離</p> <p>(3)不一定，但是與停車距離無關</p>
757	1	<p>關於機車行駛時防止追撞前車之措施，下列敘述何者正確？</p> <p>(1)保持適當安全跟車距離與車速是防止追撞前車最有效的措施</p> <p>(2)隨時注意前車煞車燈號變化，較保持安全距離更能有效防止追撞</p> <p>(3)機車煞車性能良好者，得縮短跟車距離以提升道路通行效率</p>
758	1	<p>機車駕駛人行進間應隨時注意後照鏡（例如每隔 5 秒），且不得長時間（例如超過 2 秒）盯住前方或單一目標。此敘述：</p> <p>(1)正確</p> <p>(2)錯誤</p> <p>(3)只需看左後鏡即可</p>
759	1	<p>機車行駛於劃有分向限制線（雙黃實線）之路段，關於跨越該標線之規定，下列敘述何者正確？</p>

題號	答案	題目內容
		(1)分向限制線禁止車輛跨越，不得駛入對向車道 (2)確認對向車道無來車且安全無虞時，得暫時跨越進行超車 (3)前方同向車輛行駛緩慢或暫停時，得跨越至對向車道繞行通過
760	3	機車在行駛中遇有障礙物時，應與障礙物保持最少的橫向安全距離間隔？ (1)30 公分 (2)40 公分 (3)50 公分
761	2	機車行駛於劃設行車分向線之雙向道路，關於行駛位置之敘述，下列何者正確？ (1)為便利後方汽車超越，機車應盡量靠車道右側路緣行駛 (2)機車應保持於所行駛車道之中央位置行駛 (3)機車車身較窄，可於同一車道內左右變換位置以保持靈活
762	2	機車行駛於已劃分快慢車道之道路，應在 (1)只能在慢車道行駛 (2)最外側快車道及慢車道行駛 (3)所有快車道及慢車道都可以行駛
763	3	未設立標誌或標線規定機車行駛車道時，普通重型機車不得行駛於以下哪一個車道？ (1)最外側車道（由外側算起） (2)第二車道（由外側算起） (3)最內側車道
764	2	行駛於未劃設分向限制線或行車分向線之道路，與對向來車交會時，下列何種駕駛行為正確？ (1)道路寬度足夠兩車通行時，得維持原速通過以保持車流順暢 (2)無論道路寬度或路況條件，均應減速慢行 (3)若對向來車已減速禮讓，本車得維持原速優先通過
765	2	跟隨前車行駛時，前後兩車之距離應如何保持？ (1)應保持固定一個車身距離 (2)應保持隨時可煞停之安全距離 (3)緊跟前車以免被其他車輛超越
766	2	欲超越前車時，下列駕駛行為何者正確？ (1)應由右方加速超車 (2)應由左方超車 (3)左右方皆可超車
767	2	車輛與對向車輛交會時，相互之間應離多少距離較為安全？ (1)30 公分以上 (2)50 公分以上 (3)緊貼邊緣即可
768	3	機車行駛時，與左右相鄰車輛之間應保持多少公分以上間隔？ (1)20 公分 (2)30 公分 (3)50 公分
769	3	關於分向限制線（雙黃實線）之交通規範，下列敘述何者錯誤？ (1)車輛不得跨越雙黃實線超車 (2)車輛不得於雙黃實線路段迴轉 (3)對向車道淨空無來車時，得暫時跨越雙黃實線行駛
770	3	機車行駛於劃設雙黃實線之雙向二車道公路，關於超車之規定，下列敘述何者正確？ (1)前車速度明顯低於速限且妨礙交通時，得跨越雙黃實線超車

題號	答案	題目內容
		(2)確認對向車道淨空且能於安全距離內完成時，得暫時跨越雙黃實線超車 (3)雙黃實線路段禁止超車，不得跨越或駛入對向車道超車
771	1	在道路上劃設有黃色虛線，欲超越前車應？ (1)由前方車輛左側超越 (2)由前方車輛右側超越 (3)視情況而由左側或右側超越
772	2	避免碰撞發生的準則，下列何者適當？ (1)不論車速多少，與前車均保持1個車身距離 (2)與前車應保持安全跟車距離 (3)與前車保持速度一致
773	1	關於行車安全距離與變換車道之觀念，下列敘述何者正確？ (1)跟車過近、任意變換車道及搶道轉彎皆為常見肇事主因，駕駛人應隨時保持安全距離並避免任意變換車道 (2)保持安全距離主要適用於高速公路及快速道路，一般市區道路因車速較慢，可縮短跟車距離以維持車流順暢 (3)駕駛技術純熟者可依經驗判斷適當跟車距離，不受安全距離規範之限制
774	2	騎乘機車行駛時，應與路邊停放之車輛保持多少安全間隔，以避免突發狀況（如車門開啟）？ (1)保持隨時可煞停的距離 (2)至少1公尺（約1個車門）以上 (3)50公分以上
775	1	機車駕駛人行經交叉路口、彎道或遇有視線不良之處時，應如何行駛？ (1)應減速慢行，並隨時注意路況與左右來車，確保行車安全 (2)應加速通過，避免在路口或彎道處逗留 (3)只要保持原速，專注於前方視野，不必注意兩側動態
776	1	機車在未劃設車道線、行車分向線或分向限制線的道路上，行車時速應為多少？ (1)不得超過30公里 (2)不得超過40公里 (3)不得超過50公里
777	2	機車行駛於「已劃分快慢車道分隔線」之道路，行駛於慢車道，在未設有道路速限路段，此時最高行車時速限制為何？ (1)不得超過30公里 (2)不得超過40公里 (3)不得超過50公里
778	2	機車行駛於未設有速限標誌或標線之一般道路時，其最高行車時速為多少？ (1)不得超過40公里 (2)不得超過50公里 (3)不得超過60公里

正確使用燈光（頭燈、霧燈、方向燈）

題號	答案	題目內容
779	3	夜間行駛，應使用燈光，如市區照明清楚時，(1)戴有色眼鏡(2)使用遠光燈(3)使用近光燈

題號	答案	題目內容
780	1	變換車道時，為預防因自己的駕駛死角而發生危險，應(1)提前顯示方向燈，觀看照後鏡並擺頭察看(2)緊盯前方注意路況(3)與前方車輛保持安全距離。
781	3	夜間行車遙見對向有來車時應： (1)使用遠光燈及大鳴喇叭警告來車，並加速前進 (2)立即就地停車，並熄滅全部燈光，以待來車通過 (3)使用近光燈，並減速交會
782	1	夜間跟隨他車行駛之車輛：(1)用近光燈 (2)用遠光燈 (3)不必開燈。
783	3	機車在隧道內行駛時：(1)不得開燈 (2)應開燈快行 (3)應開燈慢行。
784	3	在紅燈亮時，行人穿越道上無人穿越，且交叉路口車輛不擁擠時：(1)可以向前行駛 (2)可以右轉行駛 (3)禁止行駛。
785	1	夜間會車時應(1)使用近光燈(2)使用遠光燈(3)無規定。
786	1	機車夜間在照明清楚之市區行駛(1)使用近光燈(2)可用遠光燈(3)可以關燈。
787	3	下列何者並非機車行駛時應開亮頭燈之情形？ (1)夜間或行經隧道(2)遇濃霧、雨、雪、天色昏暗或視線不清時(3)行經市區道路。
788	3	機車之車燈(1)不可噴色(2)不可黏貼膠紙(3)以上皆是。
789	3	使用燈光規定下列何者不正確？ (1)夜間應開亮頭燈(2)行經隧道、調撥車道應開亮頭燈(3)天色昏暗或視線不清時，得使用霧燈。
790	2	夜間行車交會，來車不變換近光燈時應如何處置？(1)以眼還眼，也用 遠光燈報復(2)不和對方一般見識，以近光燈減速行駛(3)按喇叭警告。
791	3	機車行駛於最外側車道要進入待轉區時，方向燈的使用方式何者正確？(1)需打右轉方向燈(2)需打左轉方向燈(3)無須打方向燈
792	1	 (1)開亮頭燈(2)注意號誌(3)按鳴喇叭。
793	2	機車駕駛人行駛至交叉路口，右轉彎之操作順序，下列何者為正確？ (1)檢查照後鏡→打方向燈→確認安全→換入外側車道、右轉車道或慢車道，駛至路口後再行右轉 (2)打方向燈→檢查照後鏡→確認安全→換入外側車道、右轉車道或慢車道，駛至路口後再行右轉 (3)打方向燈→換入外側車道、右轉車道或慢車道，駛至路口後再行右轉→檢查照後鏡→確認安全
794	3	為增加車輛辨識度，機車駕駛人行駛於道路時，頭燈於何時開啟？ (1)僅在夜間、隧道或視線不良時應開啟 (2)僅行經郊區或山區道路時應開啟 (3)全日均可開啟（白天可開啟頭燈或日間行車燈）
795	2	雖然是白天，有濃霧時，應如何使用燈號？

題號	答案	題目內容
		(1)僅需開霧燈 (2)應開啟頭燈及霧燈 (3)僅需開頭燈
796	1	為免對向車輛駕駛人目眩，夜間會車時，機車駕駛人應如何使用燈光？ (1)使用近光燈 (2)使用遠光燈 (3)交互使用遠光燈和近光燈
797	1	機車夜間跟車行駛於照明不足之道路時，關於燈光使用方式，下列敘述何者正確？ (1)應開啟頭燈並使用近光燈，以利辨識前方路況並避免影響前車駕駛人視線 (2)應開啟遠光燈以獲得較遠照明範圍，確保充分掌握前方道路狀況 (3)跟隨前車行駛時可借助前車燈光照明，僅需開啟定位燈標示車輛位置即可
798	2	機車於夜間或視線不清之路段臨時停車時，關於燈光顯示之規定，下列敘述何者正確？ (1)停放於路燈照明範圍內或有反光設施處，得免開啟停車燈光 (2)應顯示停車燈光或反光標示，以利其他用路人辨識 (3)已放置車輛故障標誌或反光三角牌者，得免開啟停車燈光
799	2	依道路交通安全規則，除夜間外，車輛行經下列何種情況時應開啟頭燈？ (1)僅於無照明設施之隧道或涵洞時須開啟頭燈，有照明設施者得免開燈 (2)行經隧道、涵洞、調撥車道或遇濃霧、大雨致視線不清時，應開啟頭燈 (3)行經設有完善照明之地下道時，因環境亮度充足，得免開啟頭燈
800	2	機車駕駛人，警員現場攔查舉發不依規定使用燈光者，將會有何種處罰？ (1)僅處以罰鍰 (2)處以罰鍰加記違規點數 (3)吊扣駕駛執照
801	2	機車於路邊停車起駛時，駕駛人應如何處置？ (1)因速度慢，不須顯示方向燈 (2)應顯示方向燈，並注意前後左右來車，確認安全後始得起駛 (3)應顯示方向燈即可起駛
802	2	夜間騎乘機車，下列何種行為最能提高行車安全？ (1)開啟遠光燈以獲得最佳照明 (2)穿著淺色或反光衣物，並確認車燈及反光裝置功能正常 (3)夜間車少，可加快車速以縮短行駛時間
803	2	電動機車起步時，駕駛人應特別注意下列何項特性？ (1)起步加速較慢，需多催油門 (2)扭力輸出直接快速，應謹慎控制電門 (3)需預熱引擎後才能起步
804	2	騎乘電動機車行經住宅區巷弄時，下列何種做法最為適當？ (1)因車輛安靜，可快速通過以減少干擾 (2)應減速慢行並提高警覺，因行人可能未察覺車輛接近 (3)持續按喇叭提醒行人注意