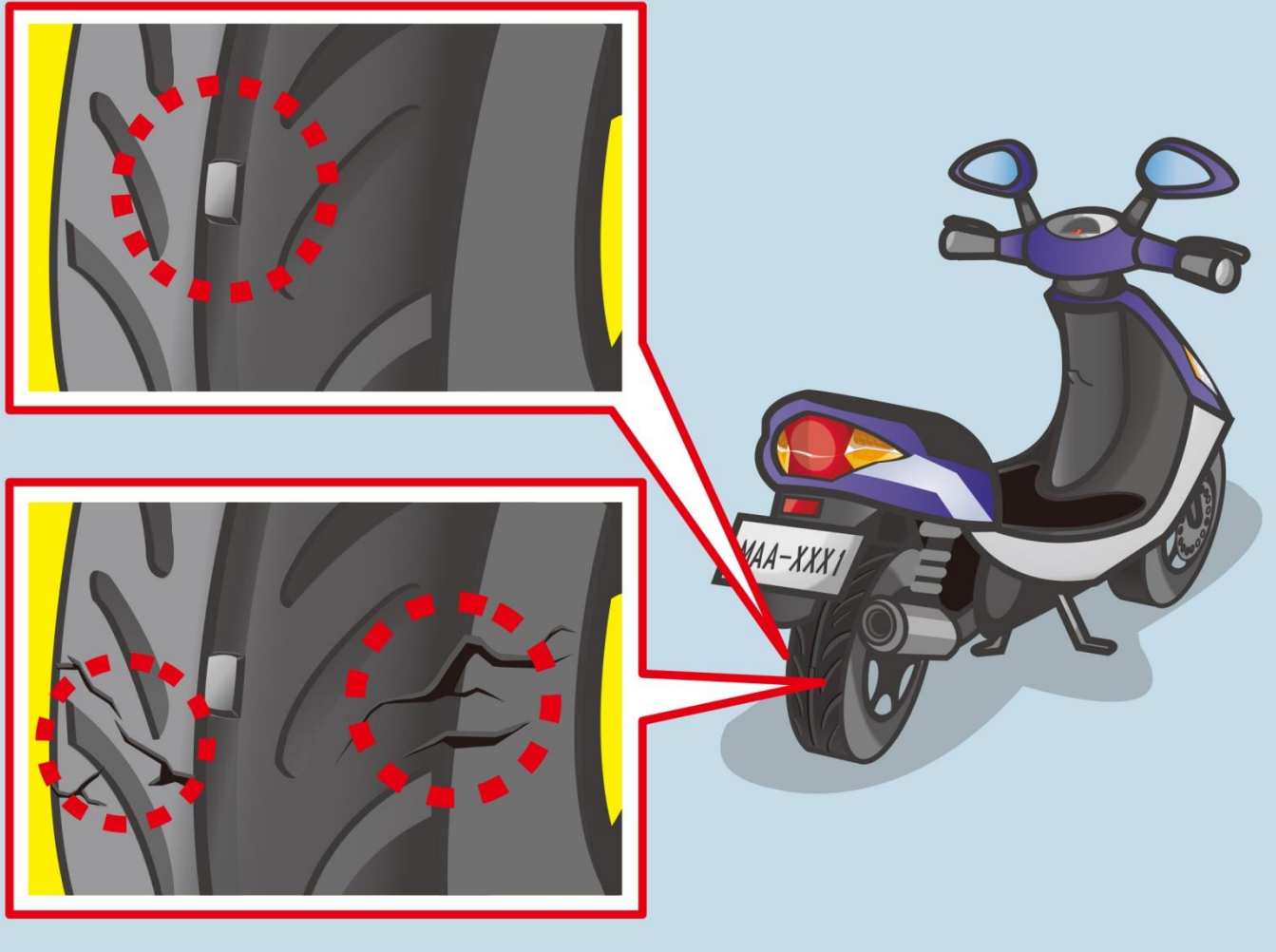
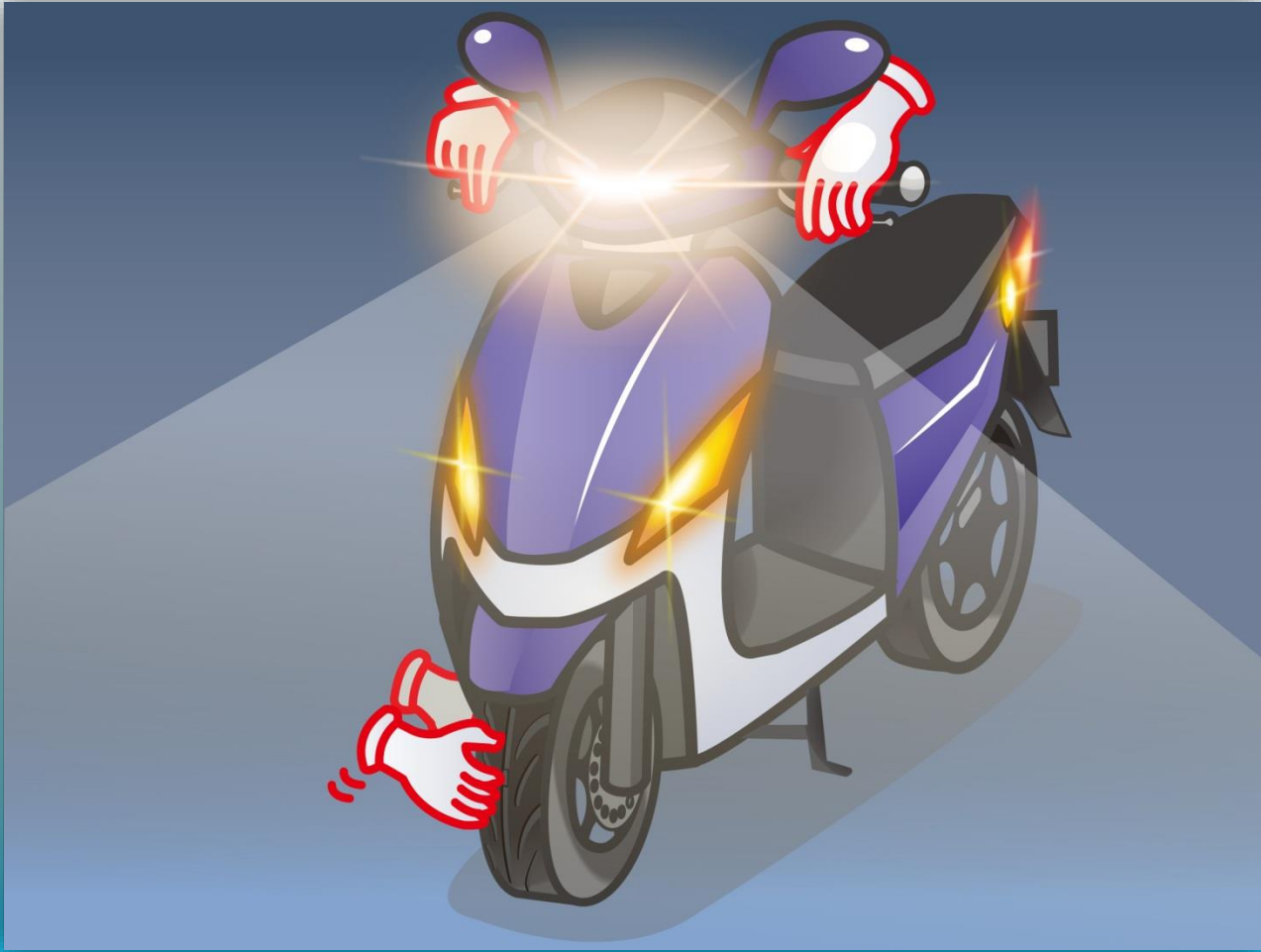


1. ပုံအရ ဆိုင်ကယ်မောင်းမထွက်မီ တာယာကိုမည်သို့ စစ်ဆေးရသနည်း။



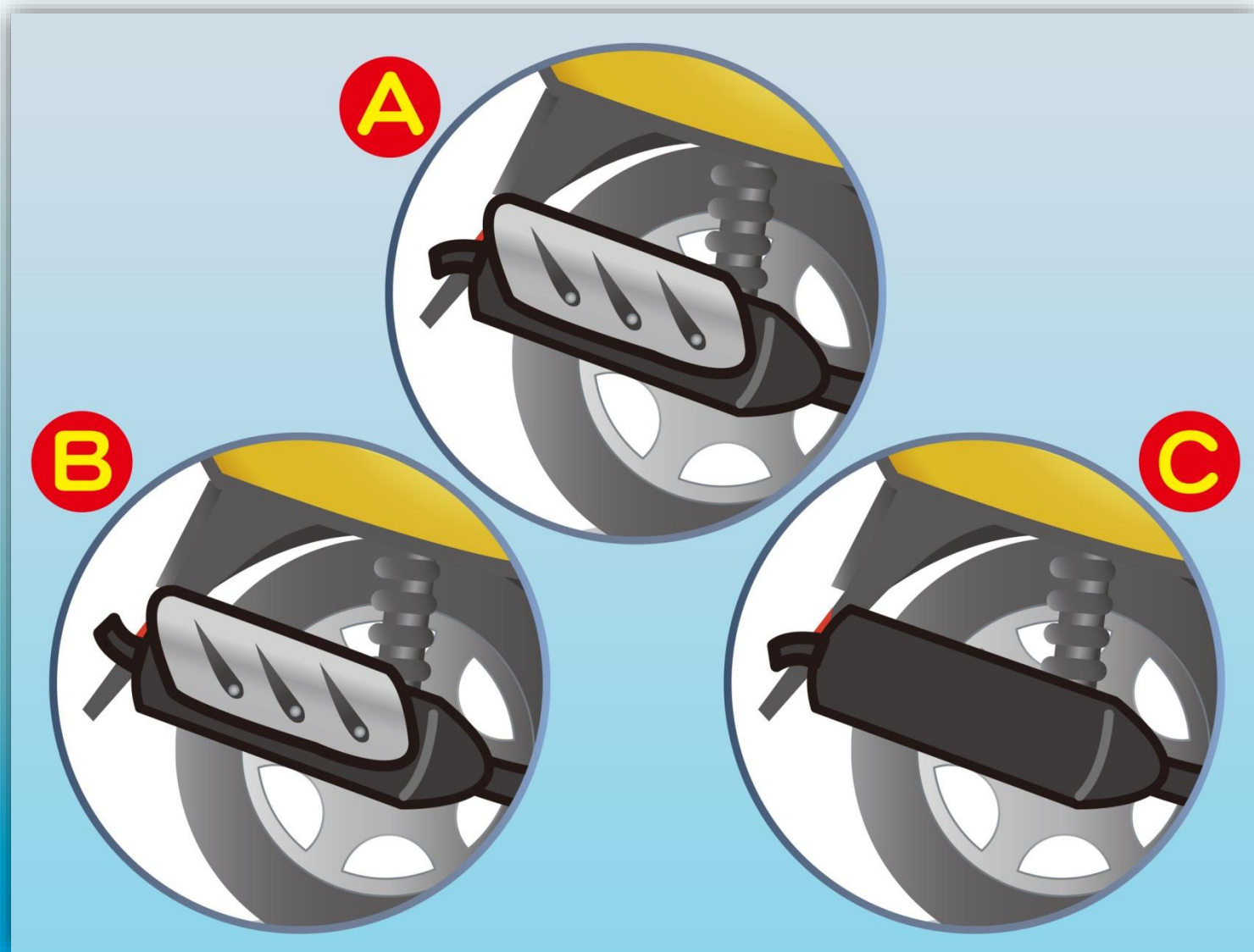
- (1) တာယာမျက်နှာပင်သည် ပွတ်တိုက်မ+အညွှန်းမှတ်အောက် ရောက်။ မရောက်စစ်ဆေးရမည်။
- (2) တာယာပင်ပွ ပျက်စီးခင်း။ ကွဲအက်ခင်းဏှိ။ မဏှိစစ်ဆေးရမည်။
- (3) အထက်ပါအားလုံးစစ်ဆေးရမည်။

2. ဆိုင်ကယ်မောင်းမစီးမီ စီးနင်းသူသည် မည်သည့်အရာများကို စစ်ဆေးရသနည်း။



- ( 1 ) ယာဉ်မောင်းအန္တရာယ်ကင်းစေရန် ယာဉ်မထွက်မီ တာယာ။ မီး။ ဟွန်း။ ဘရိတ်။ ဆီ စသည်တို့ကို စစ်ဆေးသင့်သည်။
- ( 2 ) အချိန်ကုန်သ\_ဖင့် စစ်ဆေးရန်မလိုပါ။
- ( 3 ) ခရီးဝေးသွားမှသာစစ်ဆေးရန်လိုအပ်\_ပီး ခရီးနီးလိမ့်မည်စစ်ဆေးရန်မလိုအပ်ပါ။

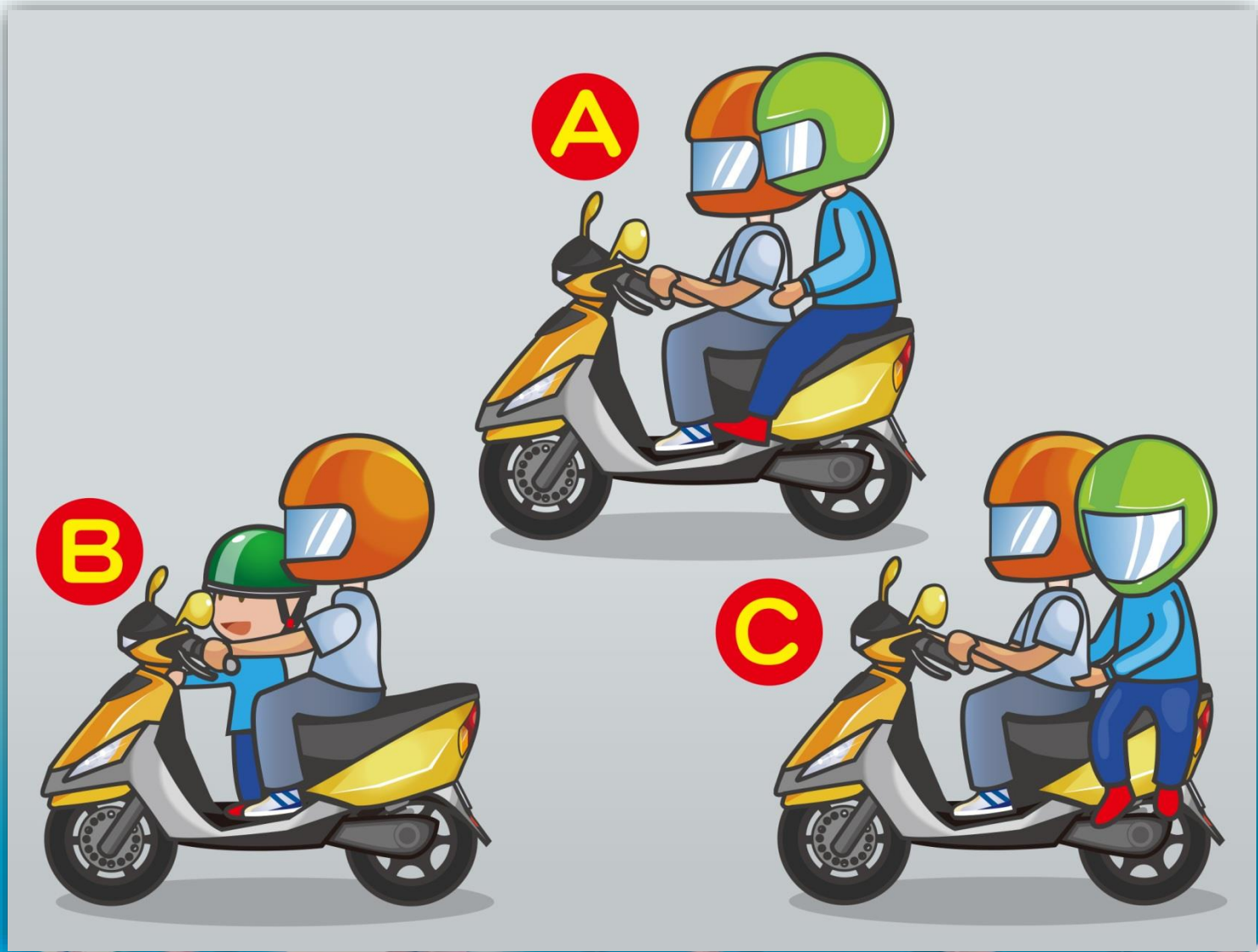
3. မည်သည့်ဆိုင်ကယ် အိတ်ဇောပိုက်တပ်ဆင်ပုံသည် မှန်ကန်သနည်း။



(1) A    (2) B    (3) C

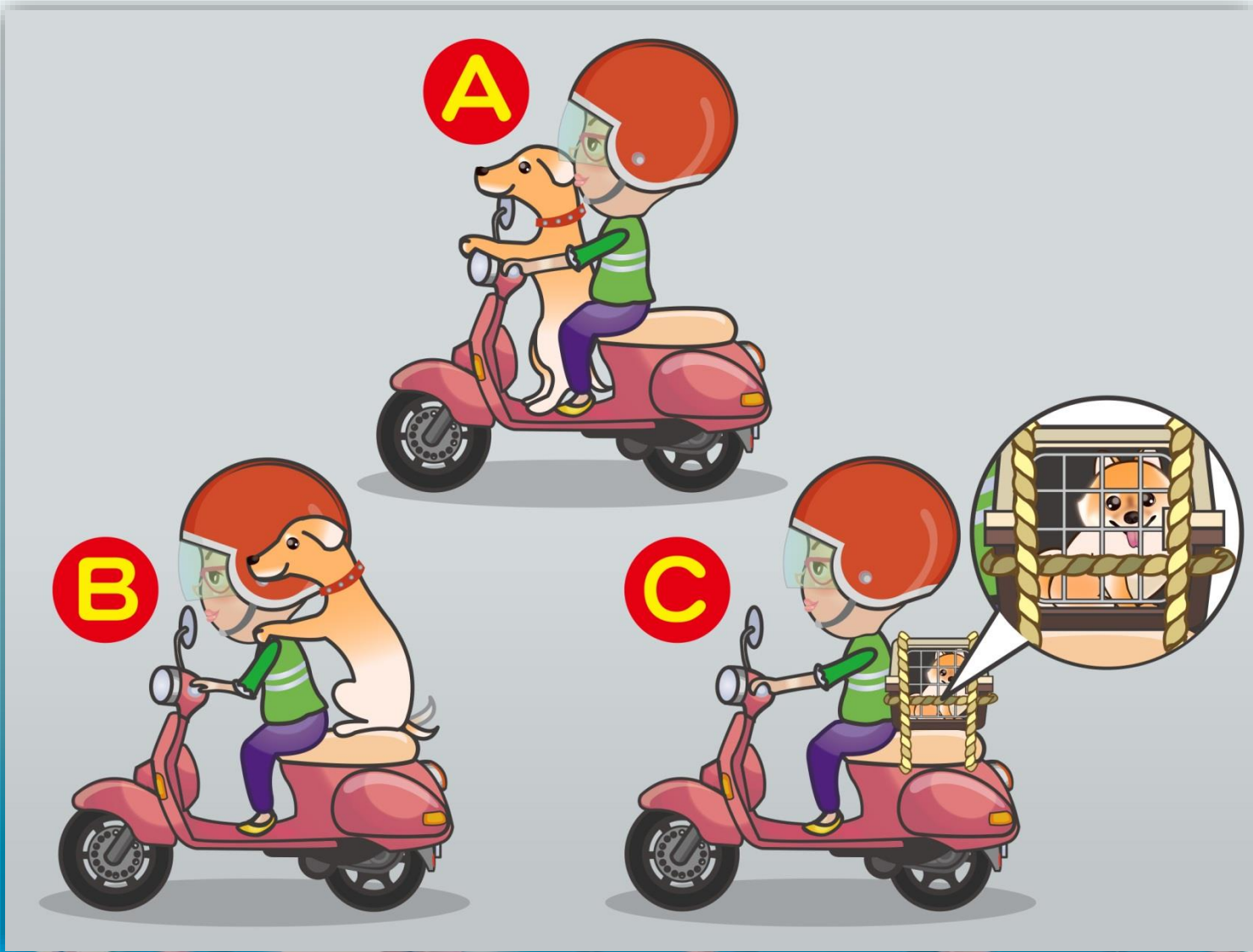
答案：1

4. ပုံအရ နောက်မှမည်သို့စီးပုံသည် မှန်ကန်သနည်း။



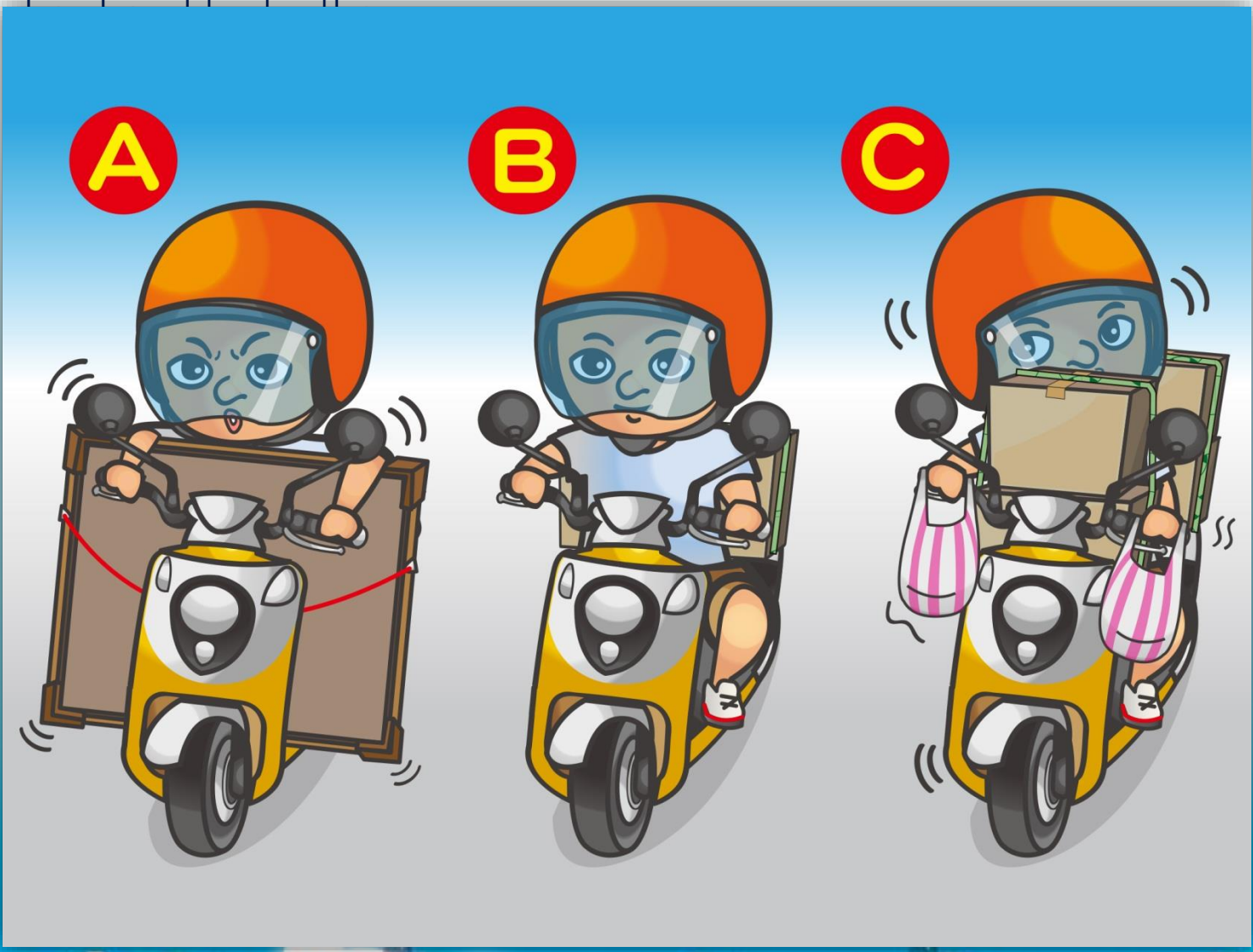
(1) A (2) B (3) C

5. ပုံအရ အိမ်မွေးတိရစ္ဆာန်တင်ဆောင်ပုံအနက် မည်သည့်ပုံက မှန်ကန်သနည်း။



(1) A (2) B (3) C

6. ပုံထဲက အန္တရာယ်ကင်းသည့် ပစ္စည်းသယ်ဆောင်နည်းများအနက် မည်သည့်ကမ္ဘာမှန်ကန်သနည်း။



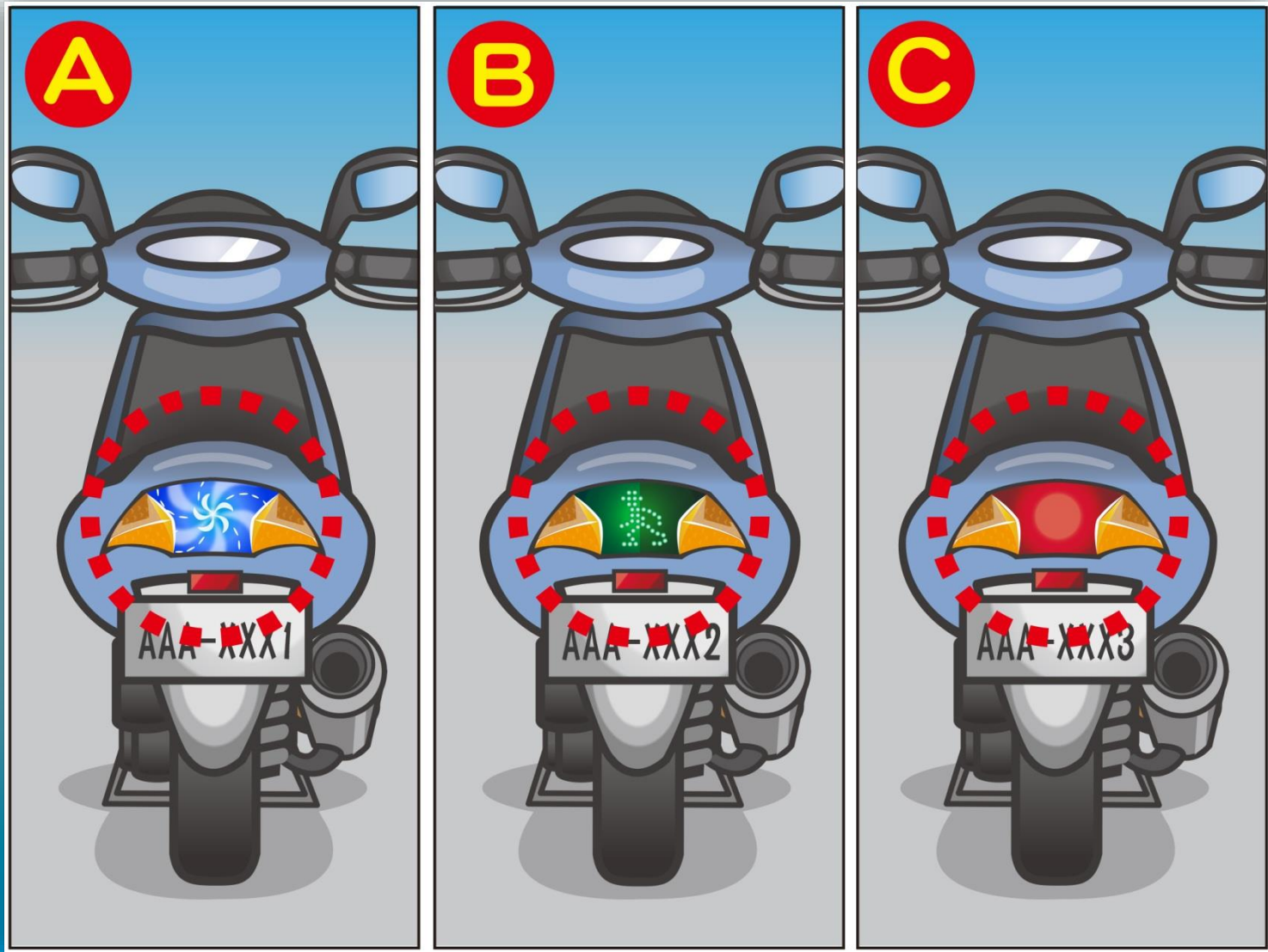
(1) A (2) B (3) C

7. ဓါတ်ပုံအရ အချက်\_ပမီး.မည်သည့်အရောင်သည် မှန်ကန်သနည်း။



(1) လိမ္မော်ရောင် (2) အစိမ်းရောင် (3) အ\_ဟရောင်

8. ဓါတ်ပုံအရ မည်သည့်ဆိုင်ကယ်. အနောက်မီးသည် သတ်မှတ်ချက်နှင့် ကိုက်ညီသနည်း။



(1) A (2) B (3) C



9. ဓါတ်ပုံအရ ဆိုင်ကယ်စီးသူသည် မည်သို့စတင်မောင်းထွက်မှ မှန်ကန်သနည်း။



- (1) နောက်ကြည့်မှန်ကြည့်၊ ယာဉ်သွားလာမ+မဏ္ဍိလငွင် မောင်းထွက်နိုင်သည်။
- (2) အချက်\_ပမီး\_ပ\_ပီးလငွင် မောင်းထွက်နိုင်သည်။
- (3) အချက်\_ပမီး\_ပ\_ပီး။ ဧဏ္ဏ။နောက်လှည့်ကြည့်ကာ သွားလာသူနှင့်ယာဉ်မဏ္ဍိကြောင်း သေချာမှ မောင်းထွက်နိုင်သည်။

10. ဓါတ်ပုံအရ မည်သည့်ဆိုင်ကယ်ရပ်သည့်နေရာသည် မှန်ကန်သနည်း။



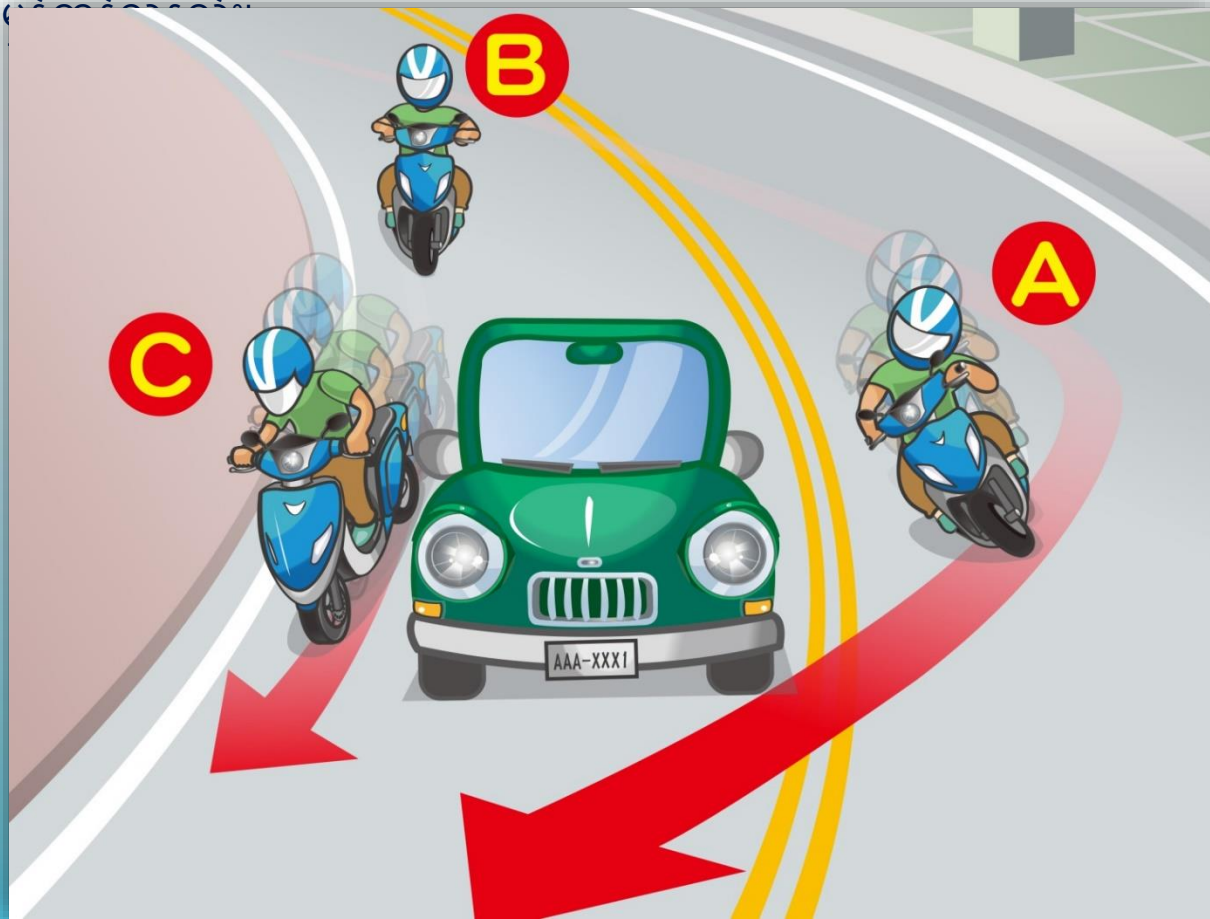
(1) A (2) B (3) C

11. ပုံအရ ဆိုင်ကယ်ရပ်နားသည့်နေရာနှင့် ပတ်သက်၍ အောက်ဖော်ပြပါ မည်သည့်အချက်က မှန်ကန်သနည်း။



- ( 1 ) မျဉ်းအနီမဖိမိလငွင် ဆိုင်ကယ်ရပ်\_ခင်းစည်းကမ်းချက် မဖောက်ဖျက်မိပါ။
- ( 2 ) ယာဉ်ယာယီရပ်ခွင့်မ\_ပုသောမျဉ်း. ဘယ်နှင့်ညှာလမ်းတဝိုက် ယာဉ်မရပ်ရပါ။
- ( 3 ) ယာဉ်အသွားအလာကို မထိခိုက်ပါက ခေတ္တရပ်နိုင်\_ပီး ၁၅%ငွေမဆောင်ရပါ။

12. ဓါတ်ပုံအရ မည်သည့်ဆိုင်ကယ်မောင်းသူ လမ်းကြွေဖတ်ကူးပုံသည်



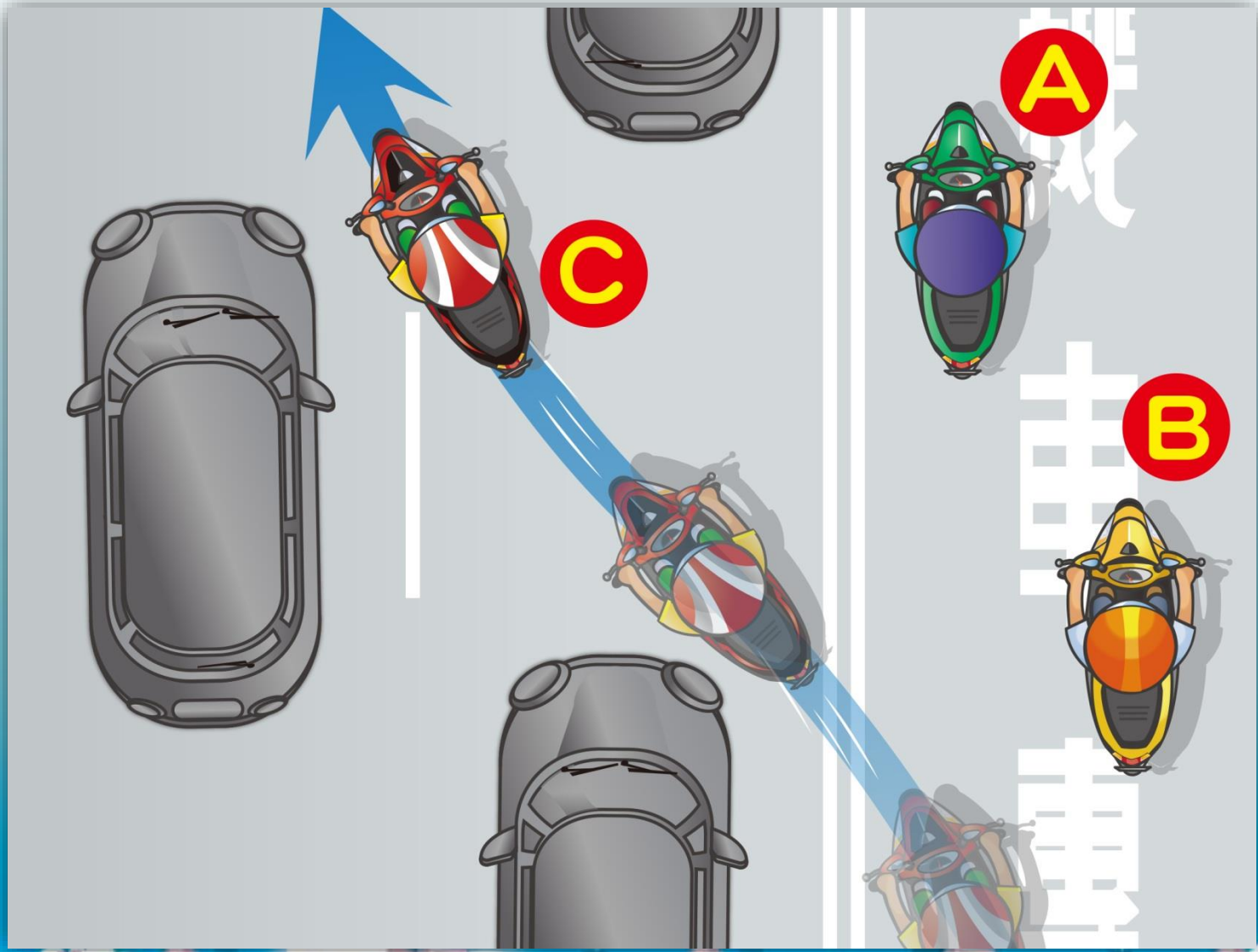
- (1) မောင်းသူ ဗ သည် လမ်းအလယ်ဏှိ အဝါရောင်မျဉ်းနှစ်ကြောင်းကို ကူးကျော် ပီး အ မန်ကျော်တက် ခင်း၊
- (2) မောင်းသူ B သည် အဏှိန် မန်လွန်း၊ ဆန်ကျင်ဘက်ယာဉ်ကြောတွင်းသို့ မကျူးဝင်မိရန် ကားမကျော်ဘဲ အဏှိန်လျော့မောင်း ခင်း၊
- (3) မောင်းသူ ဃ သည် ဧကားညာဘက်မှ အ မန်မောင်းကျော်တက် ခင်း၊

13. ဓါတ်ပုံအရ ဆိုင်ကယ်စီးသူသည် မည်သည့်စည်းကမ်းကို ဖောက်ဖျက်မိပါသနည်း။



- ( 1 ) အ\_မန်ကားလမ်းပေါ် မောင်းနှင်\_ခင်း၊
- ( 2 ) ခေါင်းမီးမဖွင့်ထား\_ခင်း၊
- ( 3 ) သတ်မှတ်ထားသောယာဉ်ကြောအတိုင်း မမောင်းနှင်\_ခင်း၊

14. ဓါတ်ပုံပါ ဆိုင်ကယ်မောင်းသူတို့ မောင်းနှင်ပုံ မည်သည်က မှားယွင်းသနည်း။



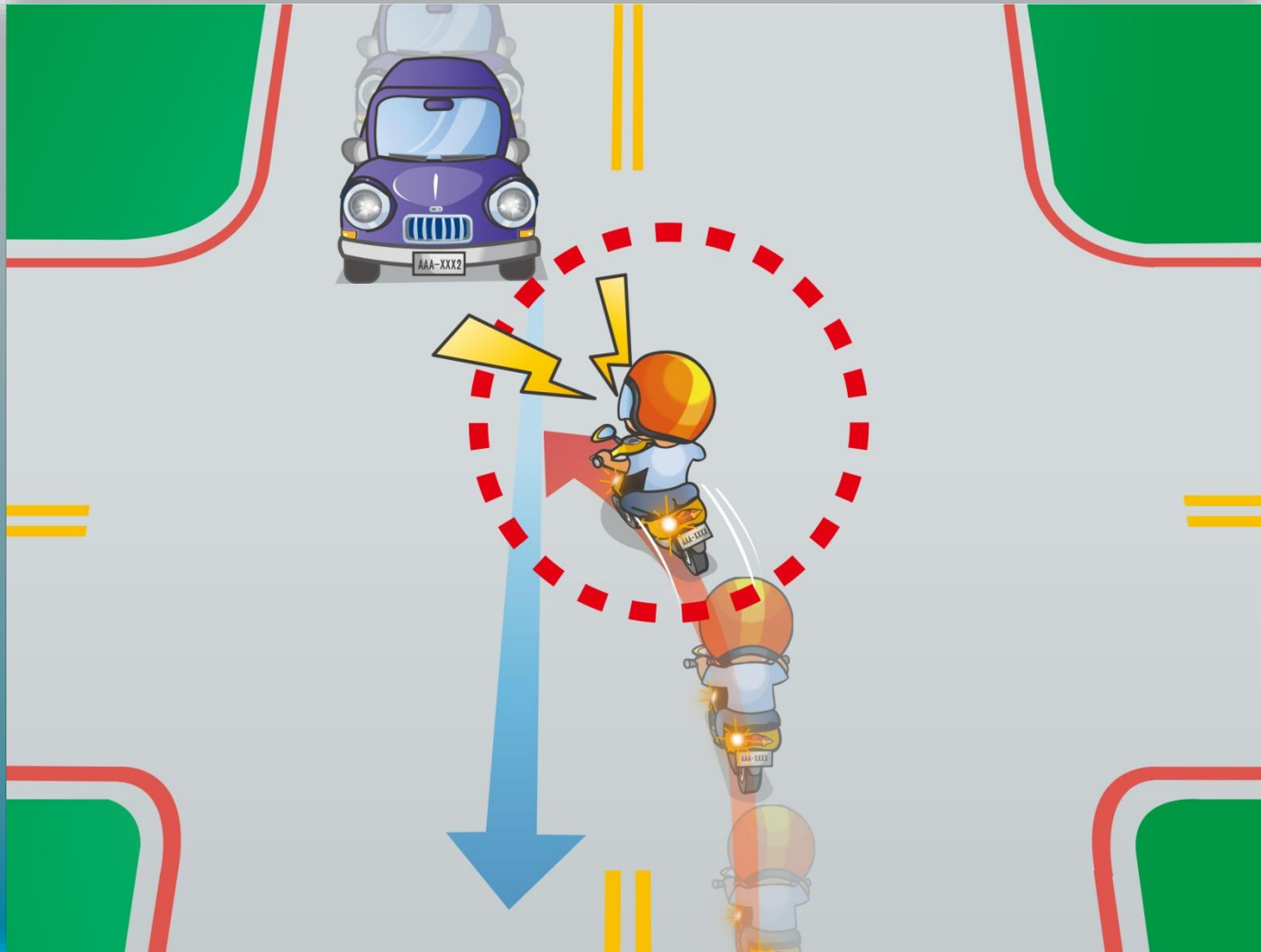
(1) A (2) B (3) C

15. ဓါတ်ပုံအရ ဆိုင်ကယ်စီးသူသည် ဘေးကင်းစေရန် မည်သို့မောင်းနှင်သင့်သနည်း။



- ( 1 ) သူတပါးဧကွာင်ဖယ်စေရန် ဟွန်းတီးရမည်။
- ( 2 ) အဏ္ဏိန်လျော့မောင်း\_ပီး။ အချိန်မရွေးရပ်နိုင်ရန် \_ပင်ဆင်ထားမည်။
- ( 3 ) အဏ္ဏိန်သို့လှမောင်း\_ခင်း\_ဖင့် သူတပါးကို လမ်းဖယ်စေမည်။

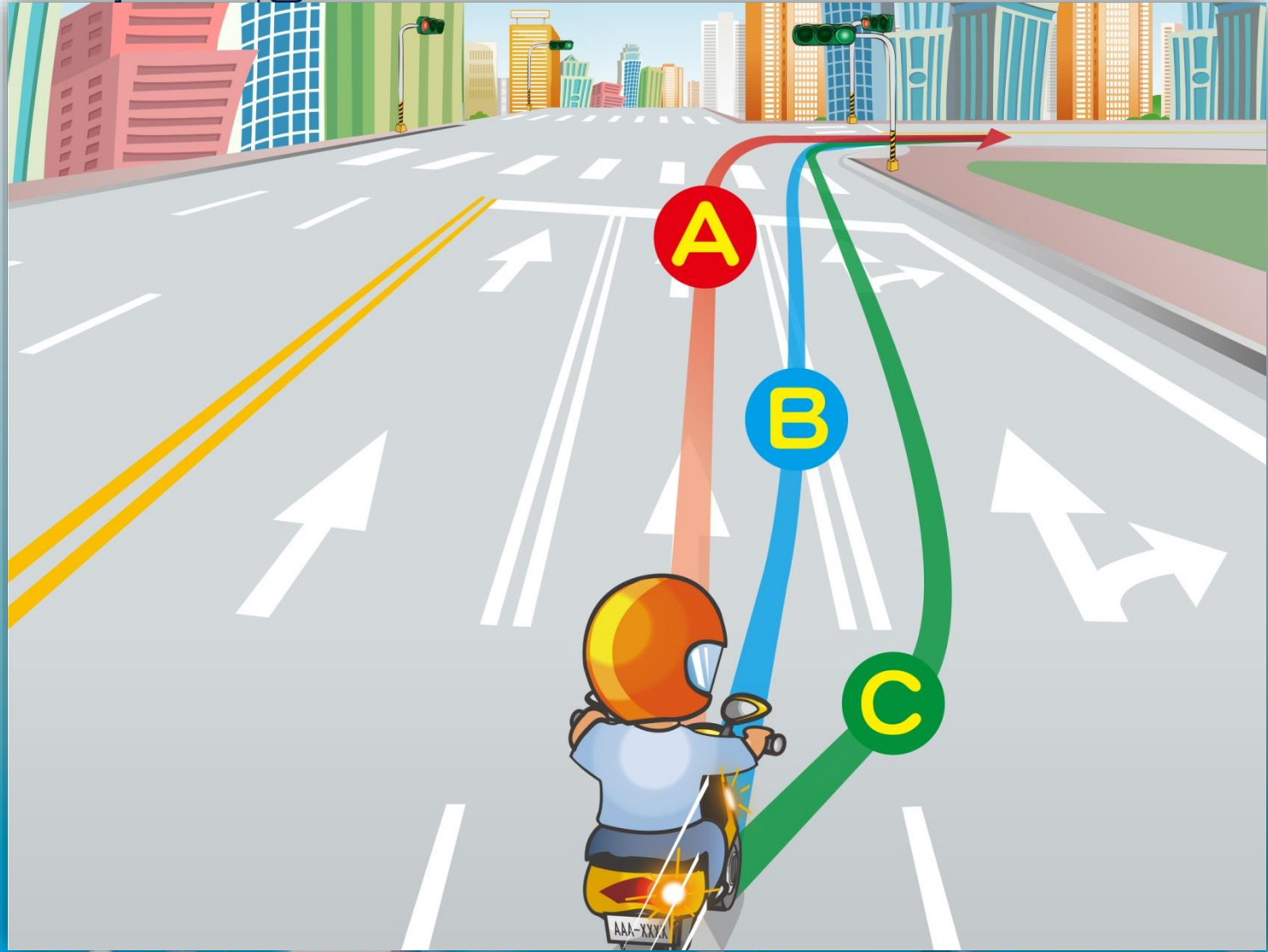
16. ဓါတ်ပုံအရ ဆိုင်ကယ်မောင်းသူ မည်သည့်အပုဒ်အမှုက မှားယွင်းသနည်း။



- ( ၁ ) ဟွန်းပင်းပင်းနိုင်ပီး တိုက်ဏှိုက်လုကေခင်း၊
- ( ၂ ) ကေမည့်ယာဉ်သည် အတည့်သွားယာဉ်ကို ဦးစားပေးသင့်သည်။
- ( ၃ ) လမ်းမကွေ့မီ အဏှိန်လျော့ပီး အချိန်မရွေးရပ်နိုင်ရန် ပံင်ဆင်ထားမည်။



17. ဓါတ်ပုံအရ ဆိုင်ကယ်သည် ဧကွေ့လမ်းဆို့ ညှာကွေ့လိုပါက မည်သည့်လမ်းကြောတွင် မောင်းနှင်သင့်သနည်း။



(1) A (2) B (3) C

18. ဓါတ်ပုံအရ ဆိုင်ကယ်စီးသူသည် အတားအဆီးတွေ၊ ဘရိတ်အုပ်သည့်အခါ မည်ကဲ့သို့ အဆင့်ဆင့်တုန့်ပန်ရမည်နည်း။



- ( 1 ) A→B→C    ( 2 ) B→A→C    ( 3 ) C→B→A

19. ပုံအရ သူတို့အိမ်\_ပန်လိုပါက မည်သို့\_ပန်ရမည်နည်း။



- ( 1 ) အများသုံးယာဉ်စီး၊\_ဖစ်စေ။ အိမ်သား။ သူငယ်ချင်းကို ကြို။ပို့ခိုင်း၊\_ဖစ်စေ အိမ်\_ပန်ပါ။
- ( 2 ) အရက်နည်းနည်းမူးတာကိစ္စဏမဏ္ဍိပါ။ ဆိုင်ကယ်စီး\_ပီးအိမ်\_ပန်နိုင်သည်။
- ( 3 ) အိမ်နှင့်နီးသောကြောင့် ဆိုင်ကယ်စီး\_ပန်လ၍ ကိစ္စဏမဏ္ဍိပါ။

20. ဆိုင်ကယ်စီးနေစဉ် ဖုန်း\_မည်ပါက မည်သို့လုပ်ဆောင်သင့်သနည်း။




(1) A (2) B (3) C

21. ပုံအရ မည်သည့်\_ပုအမှုသည် စည်းကမ်းဖောက်မိပါသနည်း။




- ( 1 ) ဆိုင်ကယ်မောင်းသူသည် မောင်းရင်းဆေးလိပ်သောက်\_ခင်း။
- ( 2 ) အနောက်ထိုင်လိုက်သူသည် ဘေးတစောင်းထိုင်\_ခင်း။
- ( 3 ) အထက်ပါအားလုံး\_ဖစ်ပါသည်။

22. ပုံအရ ဆိုင်ကယ်စီးသူသည် အဏ္ဏေယျာဉ်ကို မှန်ကန်စွာ မည်သို့ကျော်တက်ရမည်နည်း။



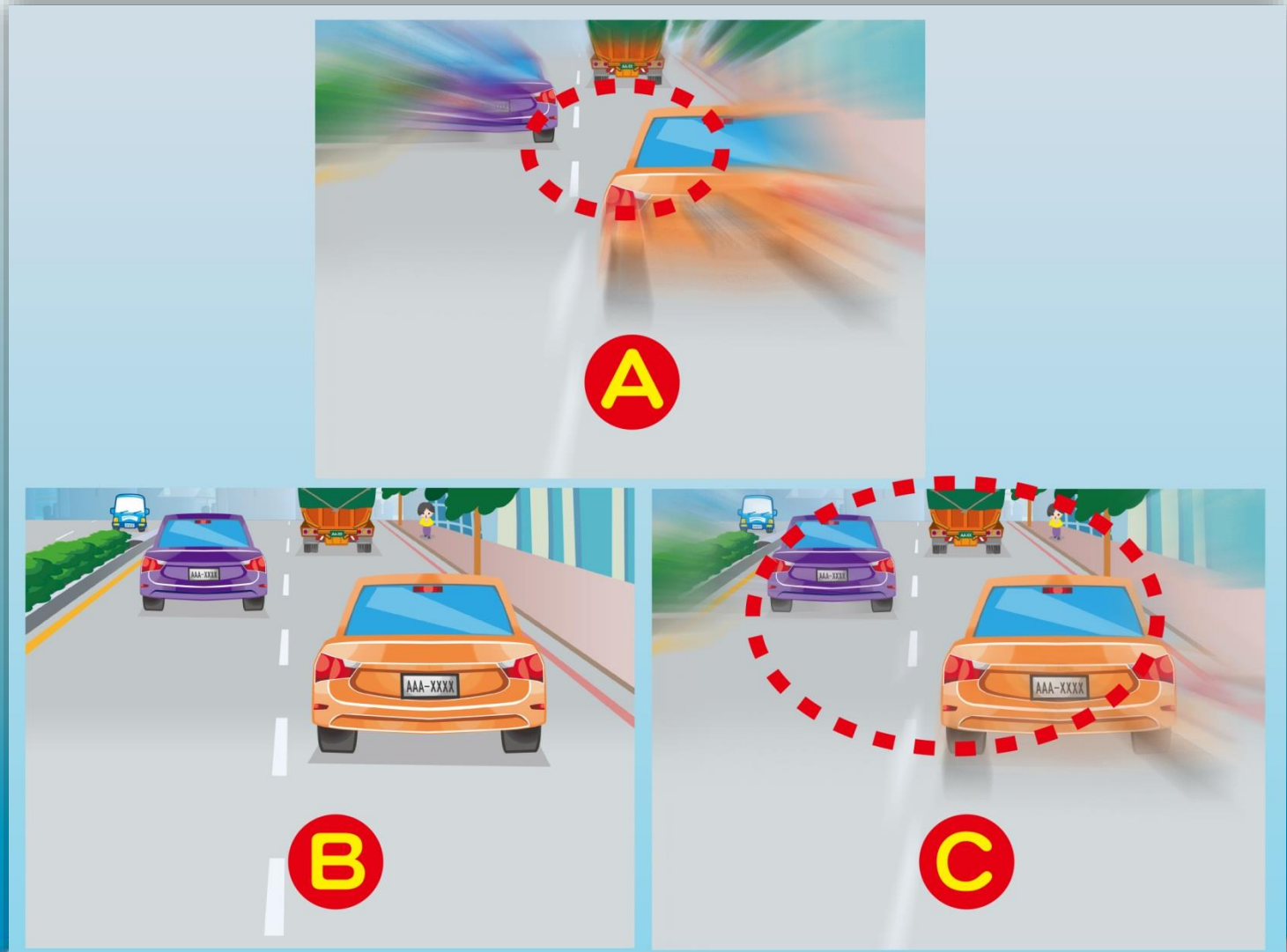
- ( 1 ) စည်းကမ်းသတ်မှတ်ချက်မဏ္ဍိပါ။
- ( 2 ) အဏ္ဏေယျာဉ် ညာဘက်မှကျော်တက်ရမည်။
- ( 3 ) ဘယ်ဘက်အချက်\_ပမီး\_ပ\_ပီး ဧကားနှင့် မီတာဝက်အထက် ခွာမောင်းရမည်။

23. ဓါတ်ပုံအရ ဆိုင်ကယ်စီးသူသည် မည်သည့်ဧရိယာတွင် ယာဉ်ကြော\_ခားမျဉ်းကို ကျော်မောင်းနိုင်သနည်း။



(1) A (2) B (3) C



24. ဓါတ်ပုံအရ မတူသောယာဉ်အမျိုးအစားတွေရသော\_မင်ကွင်းကို ယာဉ်အမျိုးအစားမှအ\_မန်အတိုင်း စဉ်ပေးပါ။



( 1 ) A→C→B    ( 2 ) B→C→A    ( 3 ) C→A→B



25. ပုံအရ ဆိုင်ကယ်စီးသူသည် မည်သည့်အချိန် အဝေးမီးဖွင့်နိုင်သနည်း။



(1) A (2) B (3) C

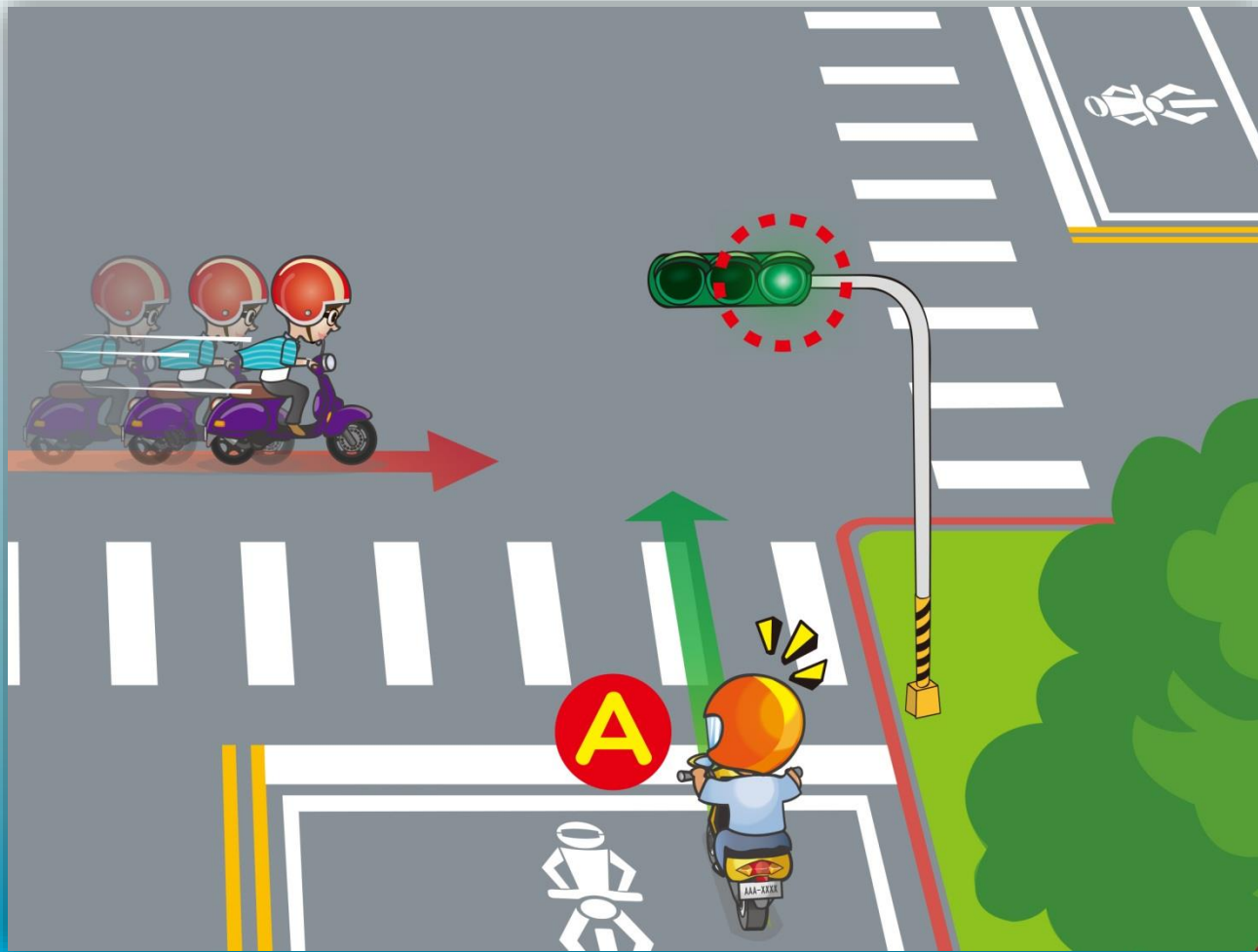
答案：2

26. ဆိုင်ကယ်စီးသူသည် ပုံပါလမ်းကို\_ဖတ်စဉ် မည်သို့မောင်းလှည့်မှန်သနည်း။



- ( 1 ) အဏ္ဏိန်လျော့\_ပီး ကန့်သတ်ထားသောအဏ္ဏိန်အတိုင်း မောင်းရမည်။
- ( 2 ) ဧကန်ယာဉ်သွားရာလမ်း အဟန့်အတားမဏ္ဍိလှည့် နောက်မှဆိုင်ကယ်သည် အဏ္ဏိန်\_မိုင်တင်\_ပီး ကျော်တက်နိုင်သည်။
- ( 3 ) သူတပါးနှင့်\_ပိုင်မောင်း\_ခင်း။ ယာဉ်ကျော်တက်\_ခင်း \_ပုလုပ်နိုင်သည်။

27. ပုံအရ ဆိုင်ကယ်စီးသူ ဗ သည် စည်းကမ်းမလိုက်နာသောယာဉ်နှင့်ကြုံလေ့ငှင်  
 ဘေးကင်းအောင် မည်သို့မောင်းနှင်သင့်သနည်း။



- ( 1 ) စည်းကမ်းဖောက်သောယာဉ်ကို ဂဏ္ဍာမစိုက်ဘဲ လမ်းဆုံကို ဖတ်မောင်းမည်။
- ( 2 ) ဆိုင်ကယ်အာအအနေကိုသတိထား ပီး အဏ္ဏိန်လျော့မောင်းမည်။
- ( 3 ) ဟွန်းတီး ပီးနောက် အဏ္ဏိန် မှင့်တင်ကာ ဖတ်မောင်းမည်။

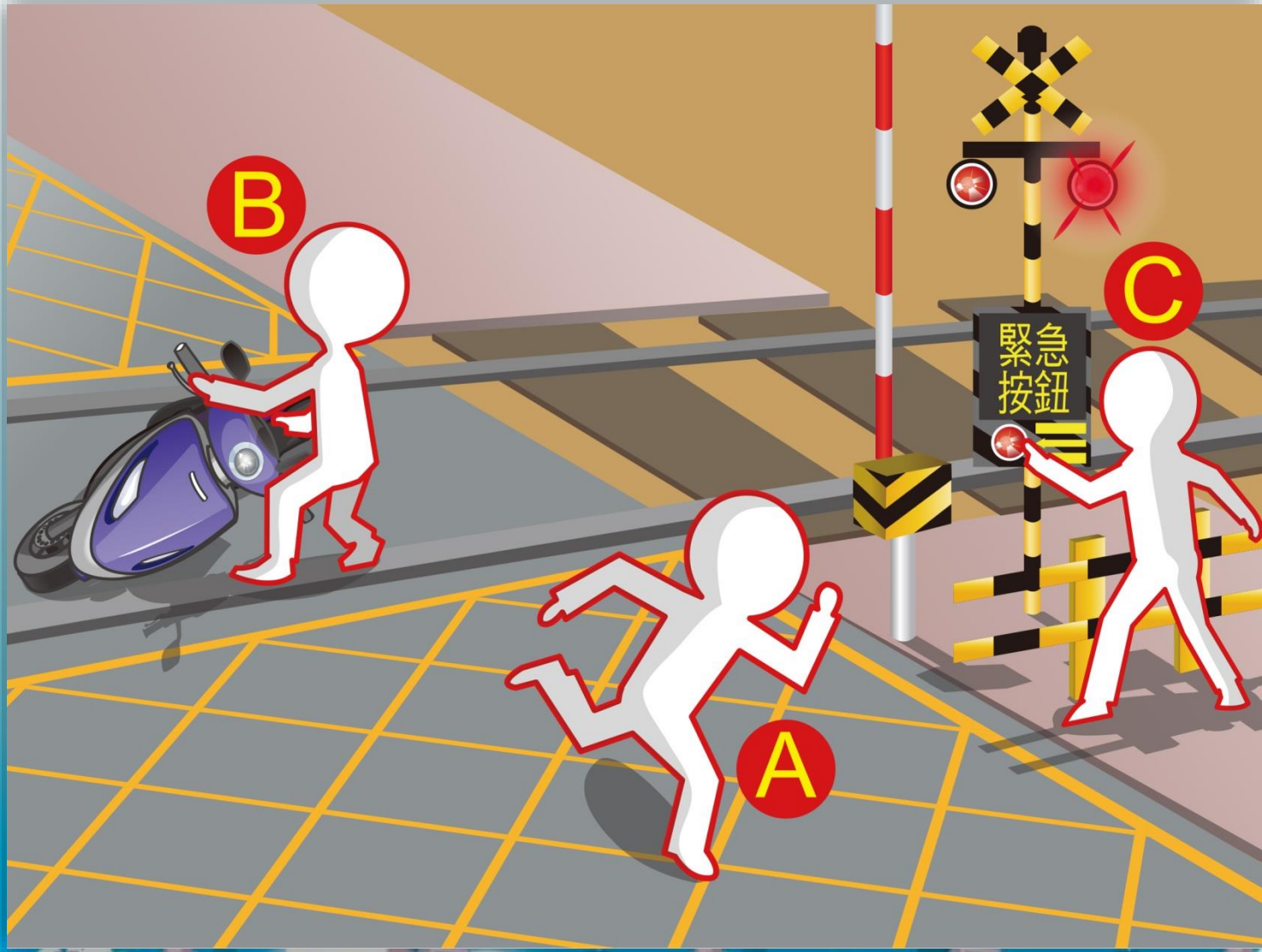
28. ပုံအရ မည်သည့်ဆိုင်ကယ်စီးသူ့အပုအမူသည် မှားယွင်းသနည်း။



(1) A (2) B (3) C

答案：1

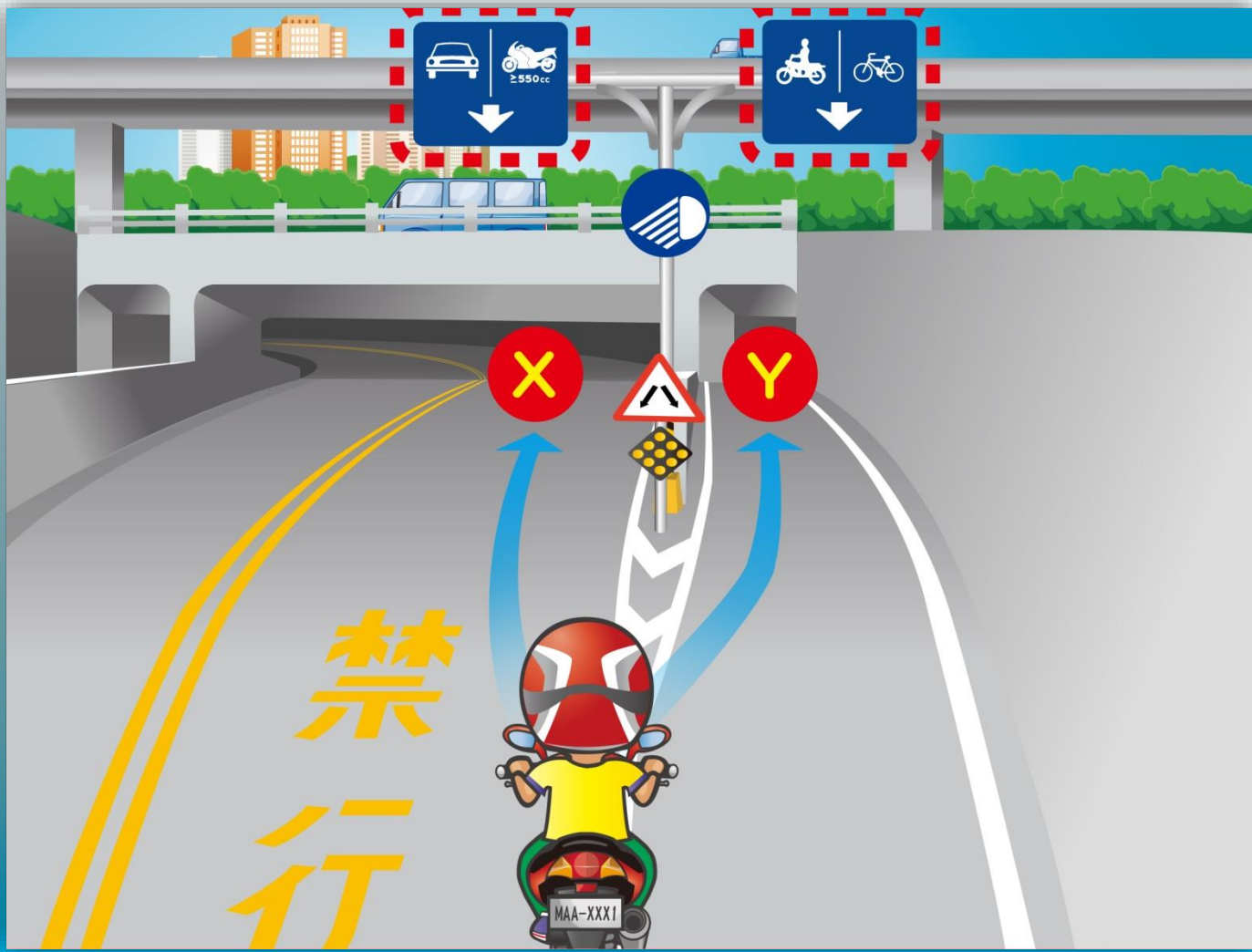
29. ဓါတ်ပုံအရ a\_မညီရထားလမ်းပေါ် ယာဉ်ပျက်ပါက မည်သို့အဆင့်ဆင့်လုပ်ဆောင်ရမည်နည်း။



(1) A→B→C    (2) C→B→A    (3) B→C→A

答案：2

30. ပုံအရ ဆိုင်ကယ်စီးသူသည် ဘေးကင်းအောင် မည်သို့မောင်းနှင်ရမည်နည်း။



- (1) အဏ္ဏမီးဖွင့်ပီး လမ်းကြော ၄ သို့ မောင်းဝင်ရမည်။
- (2) အဏ္ဏမီးဖွင့်ပီး လမ်းကြော Y သို့ မောင်းဝင်ရမည်။
- (3) အထက်ပါအားလုံးမှန်ပါသည်။

31. ပုံပါဆိုင်ကယ်စီးသူ ဗယB တို့သည် မီးပွိုင့်အချက် ပမီးအရ မည်သူကတည့်တည့်မောင်းနိုင်(သို့) ညာကွေ့မောင်းနိုင်သနည်း။



(1) A (2) B (3) A、B

32. ပုံအရ ဆိုင်ကယ်စီးသူသည် ဘေးကင်းအောင် မည်သို့မောင်းနှင်ရမည်နည်း။



- ( ၁ ) အဏ္ဏိန် မှင်တင် ပီး ဖတ်ကားရမည်။
- ( ၂ ) ဟွန်းတီး၊ အဏ္ဏိန် မှင်တင် ပီး ဖတ်ကားရမည်။
- ( ၃ ) ယာဉ်အသွားအလာကို သတိ ပု၊ အဏ္ဏိန်လျော့ ဖတ်မောင်းရမည်။



33. ပုံအရ ဆိုင်ကယ်စီးသူသည် ပျားအုပ်နှင့်ကြုံတွေ့ပါက ဘေးကင်းအောင် မည်သို့မောင်းနှင်ရမည်နည်း။



- ( 1 ) လမ်းအဟောင်းမောင်း၊ ဖစ်စေ။ နောက်ဆုတ်၍ ဖစ်စေ။  
ဧကန်သွားရမည်။ ရမ်းရမ်းကားကားမလုပ်ရ။
- ( 2 ) ယာဉ်ရပ်ပြီး အမှတ်တရခါတ်ပုံဏှိုက်မည်။
- ( 3 ) ယာဉ်ရပ်ပြီး ပျားအုပ်ကိုနှင်ထုတ်မည်။

34. ပုံအရ ဆိုင်ကယ်စီးသူသည် မည်သို့မောင်းနှင်သင့်သနည်း။



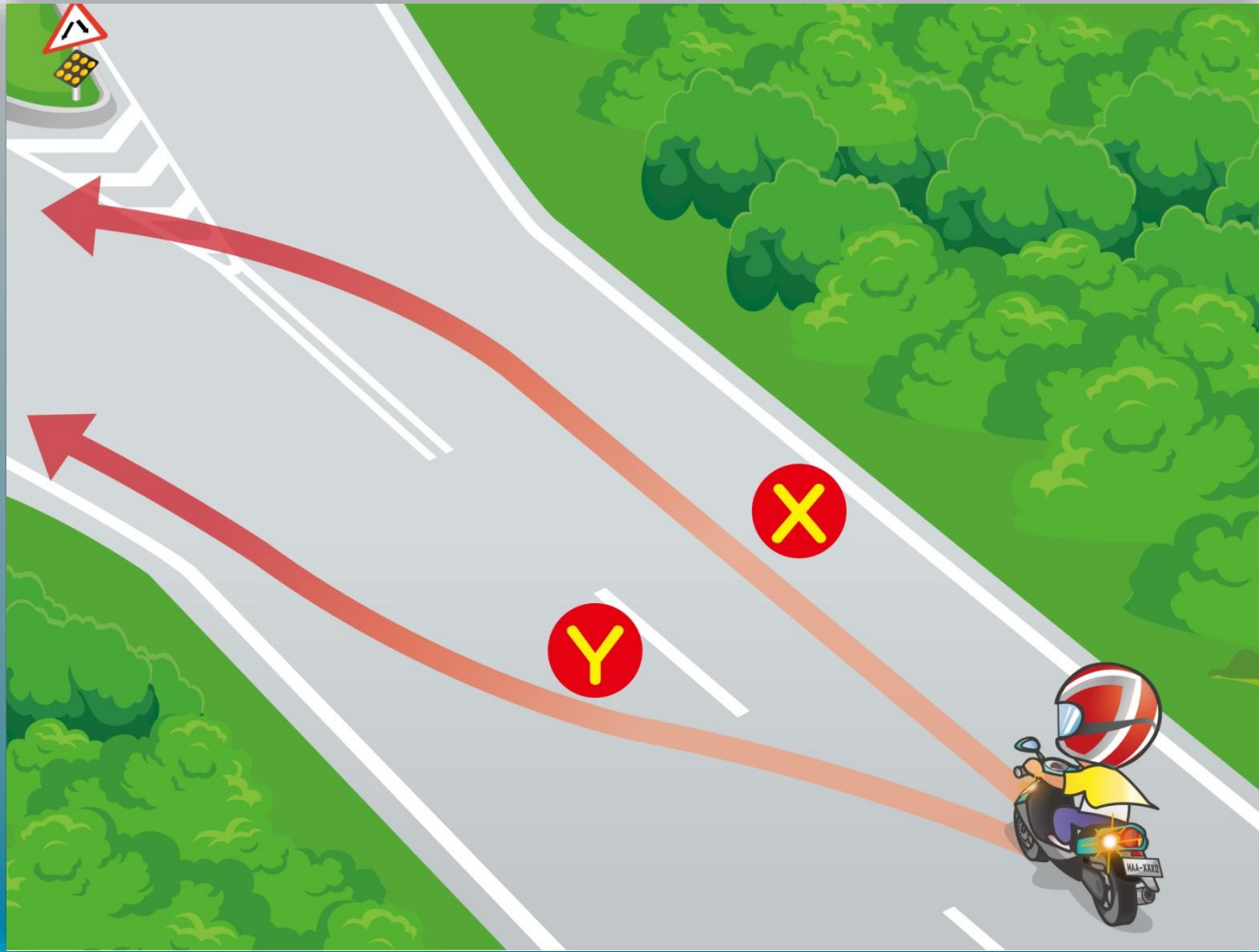
- (1) အတွင်းနှင့်အပင်ယာဉ်ကြောနှစ်ခုလုံး မောင်းနှင်နိုင်သည်။
- (2) အချက်ပေးဖွင့်ပီး။ နောက်ယာဉ်မဏှိကြောင်းစစ်ဆေးပီးလငှင် အတွင်းယာဉ်ကြောသို့ တိုက်ဏှိုက်ခဟင်းမောင်းနိုင်သည်။
- (3) အဏှိန်လျော့ပီး ဘယ်အချက်ပေးဖွင့်ကာ နောက်ကြည့်မှန်မှတဆင် ယာဉ်ဏှိ။မဏှိကြည့်ပီးလငှင် ကပ်လငှက်ယာဉ်ကြောသို့ ခဟင်းမောင်း နိုင်သည်။

35. ပုံအရ ဆိုင်ကယ်စီးသူသည် လမ်းအဖုံးတွေ့ပါက ဘေးကင်းအောင် မည်သို့မောင်းနှင်ရမည်နည်း။



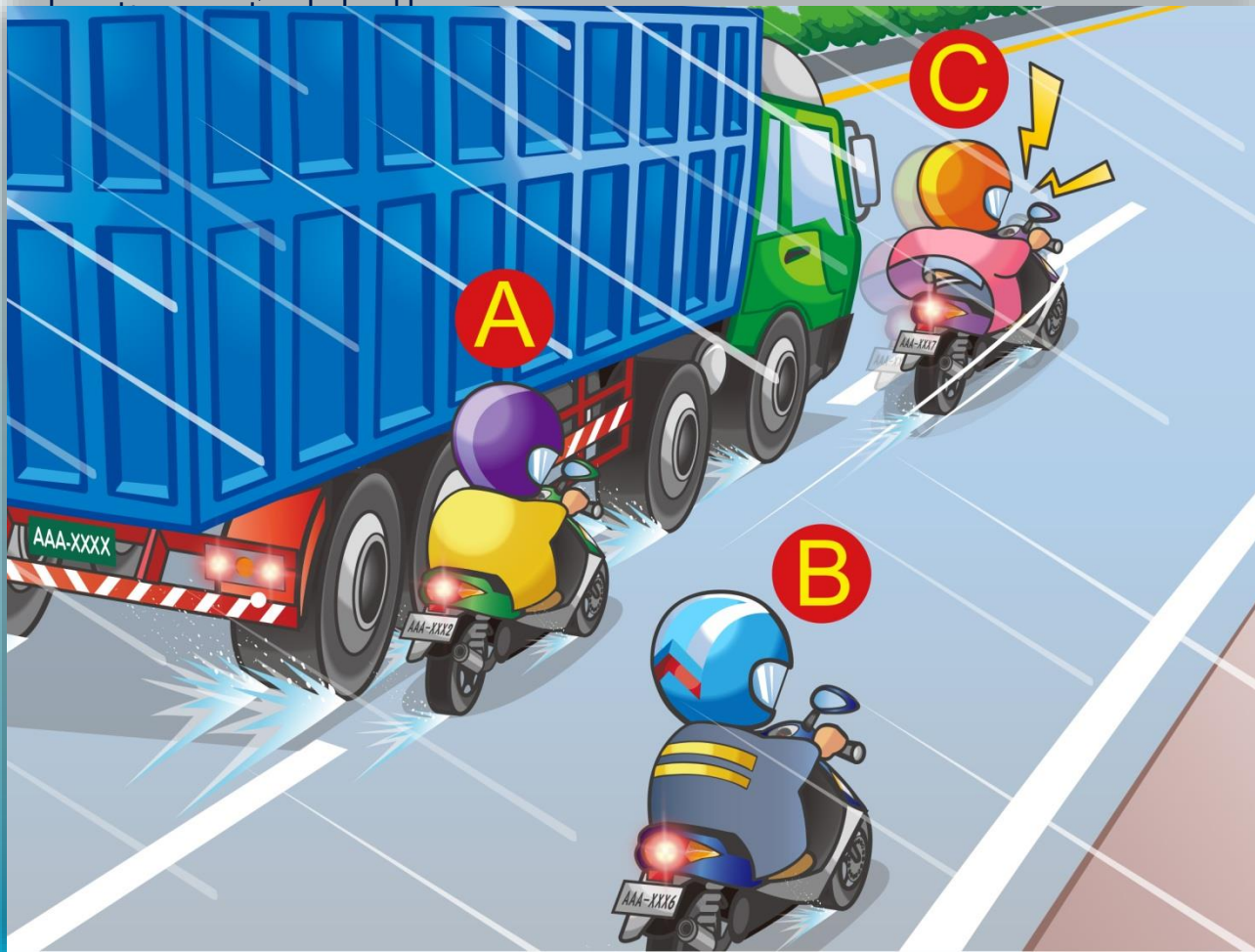
- ( 1 ) အရှေးပေါ်ဘရိတ်အုပ်ရမည်။
- ( 2 ) အဏ္ဏိန်လျှော့\_ပီး\_ဂရုစိုက်မောင်းရမည်။
- ( 3 ) ယာဉ်ကြောလျှင်\_မန်စွာa\_ဟင်း\_ခင်း\_ဖင့် လမ်းအဖုံးကိုရှောင်ရမည်။

36. ပုံအရ ဆိုင်ကယ်စီးသူသည် မည်သို့မောင်းနှင်ရမည်နည်း။




- (1) လမ်းကြော ၄ သို့ မောင်းနှင်\_ပီးနောက် ယာဉ်ကြောa\_ဟင်းရမည်။
- (2) ယာဉ်ကြောတိုက်ဏှိုက်a\_ဟင်း\_ပီး လမ်းကြော Y သို့မောင်းနှင်ရမည်။
- (3) ဘယ်အချက်\_ပမီး\_ပကာ နောက်ကြည့်မှန်မှတစ်ဆင့် ယာဉ်ဏှိုက်မဏှိုက်ကြည့်\_ပီးမှ လမ်းကြော Y သို့a\_ဟင်းမောင်းရမည်။

37. ပုံအရ Tပတ်ဝန်းကျင် ဆိုင်ကယ်စီးသူသည် ဘေးကင်းအောင် မည်သို့မောင်းနှင်ရမည်နည်း။



- ( 1 ) A
- ( 2 ) B
- ( 3 ) C

38. ပုံအရ မည်သည့်အ\_ပုအမူသည် မှန်ကန်သနည်း။



(1) A (2) B (3) C

39. ပုံအရ ဆိုင်ကယ်စီးသူသည် မည်သို့မောင်းလေ့င် ပို၊ဘေးကင်းသနည်း၊



- ( 1 ) လူနှင့်ယာဉ်နည်းသောကြောင့် အ\_မန်မောင်းနိုင်သည်။
- ( 2 ) ကန့်သတ်ထားသောအထိန်အတိုင်းမောင်းနှင့်\_ပီးလမ်းညွှန်ချက်ကိုဂဏ္ဍာ\_ပုကာ ဖြော့မီးဖွင့်မောင်းရမည်။
- ( 3 ) လမ်းမီးအရန်းကောင်းသောကြောင့် ဖြော့မီးဖွင့်ရန်မလိုပါ။

40. ပုံအရ ဆိုင်ကယ်စီးသူ၊ မည်သည့်အပုဒ်အမူသည် မှားယွင်းသနည်း။



- (1) အထွေထွေမီးဖွင့်\_ခင်း၊
- (2) အထွေထွေလျှော့မောင်းနှင်\_ခင်း၊
- (3) ဟွန်း\_ပင်းထန်စွာတီး\_ပီး အထွေထွေ\_မည့်မောင်းနှင်\_ခင်း။

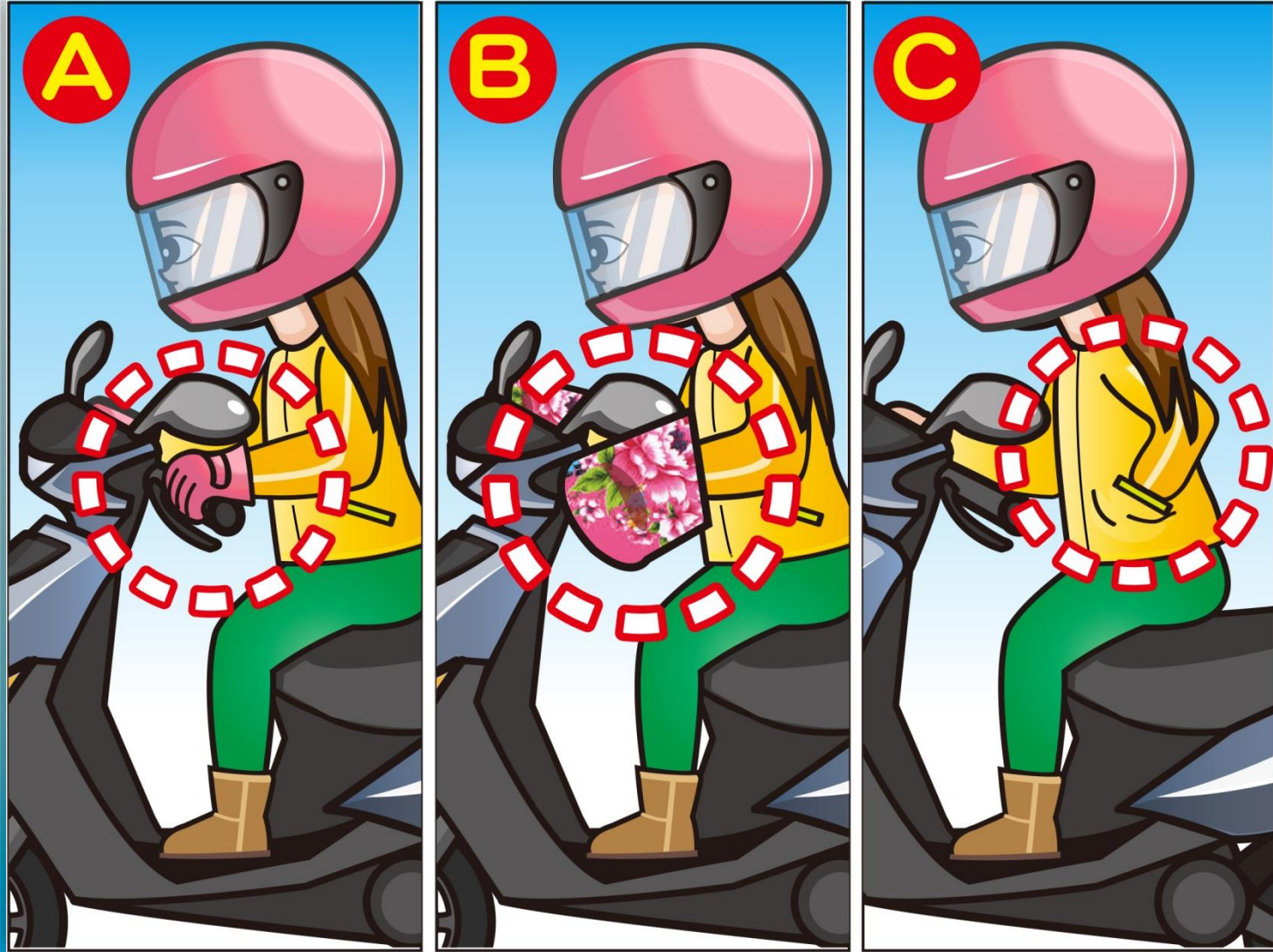


41. ပုံအရ ဆိုင်ကယ်စီးသူ မည်သည့်အပုဒ်အမှန်သည် မှားယွင်းသနည်း။



- ( ၁ ) လက်ကိုင်ကိကြပ်ကြပ်ကိုင်\_ပီး အထွန်လျော့မောင်းနှင့်\_ခင်း။
- ( ၂ ) အချိန်မရွေးရပ်တန့်နိုင်ရန် အဆင်သင့်\_ပင်ထား\_ခင်း။
- ( ၃ ) အထွန်\_မှတ်တင်\_ပီး ဆက်လက်မောင်း\_ဖတ်သွား\_ခင်း။

42. ပုံအရ ရာသီဥတုအေးသောအခါ ဆိုင်ကယ်စီးသူ့ မည်သည့်အပုအမူသည် ပိုသေးကင်းစေသနည်း။



(1) A (2) B (3) C

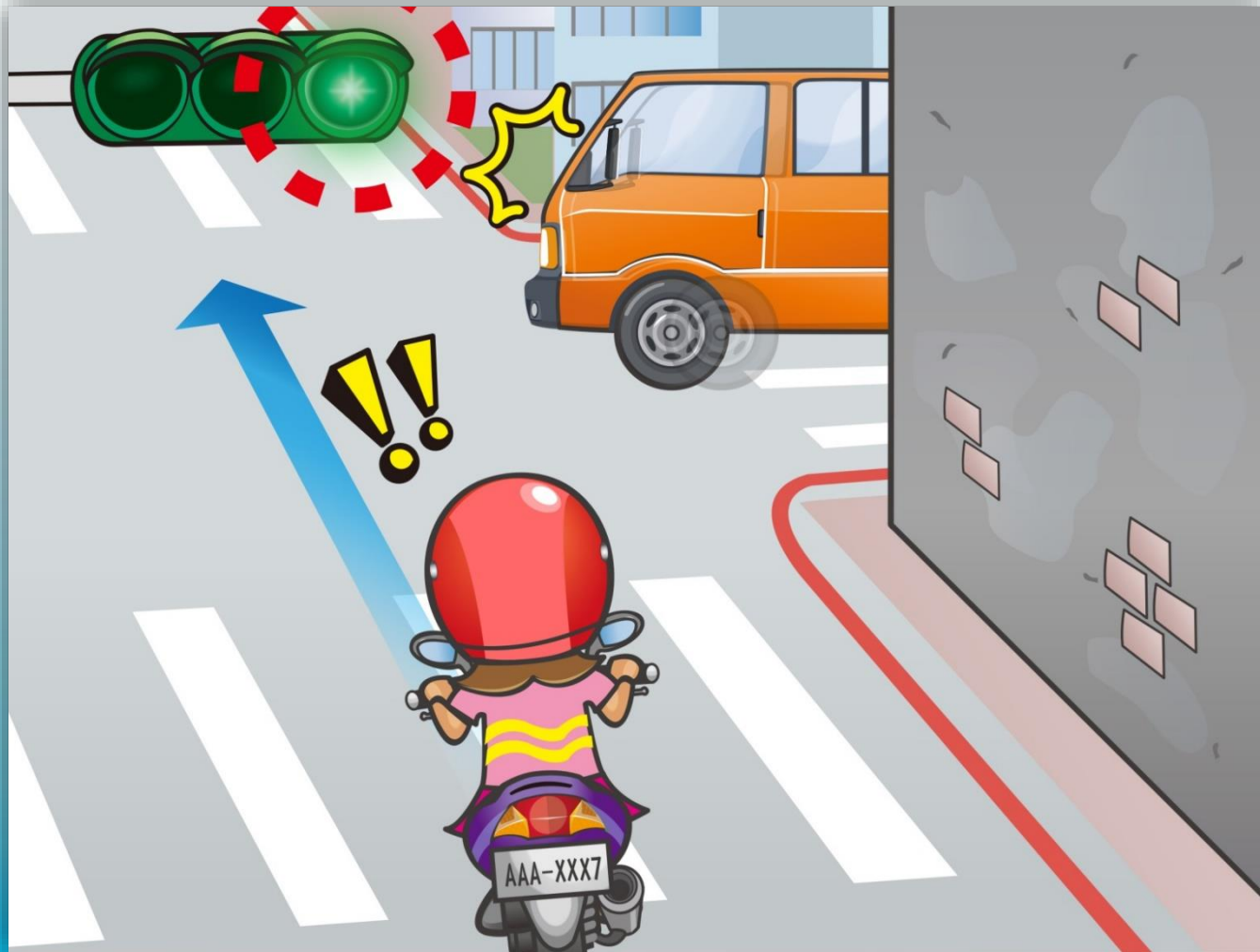
答案：1

43. ပုံအရ ဆိုင်ကယ်စီးသူသည် မည်သို့မောင်းလှည့် ပို၊ဘေးကင်းသနည်း။



- ( 1 ) ညာကပ်မောင်းပါ။ သို့မှသာ ကုန်းတက်သည့်အခါ မ\_မင်နိုင်သောဏှာ+ဒေါင့်မျိုးမှ ကင်းဝေးမည်။
- ( 2 ) ဟွန်း\_ပင်းထန်စွာတီး\_ပီး မူလအဏ္ဏိန်အတိုင်းမောင်းမည်။
- ( 3 ) အဏ္ဏိန်\_မှင်တင်\_ပီး \_ဖတ်ကူးသွားရမည်။

44. ပုံအရ ဆိုင်ကယ်စီးသူသည် မည်သို့မောင်းလင့် ပို၊ဘေးကင်းသနည်း။



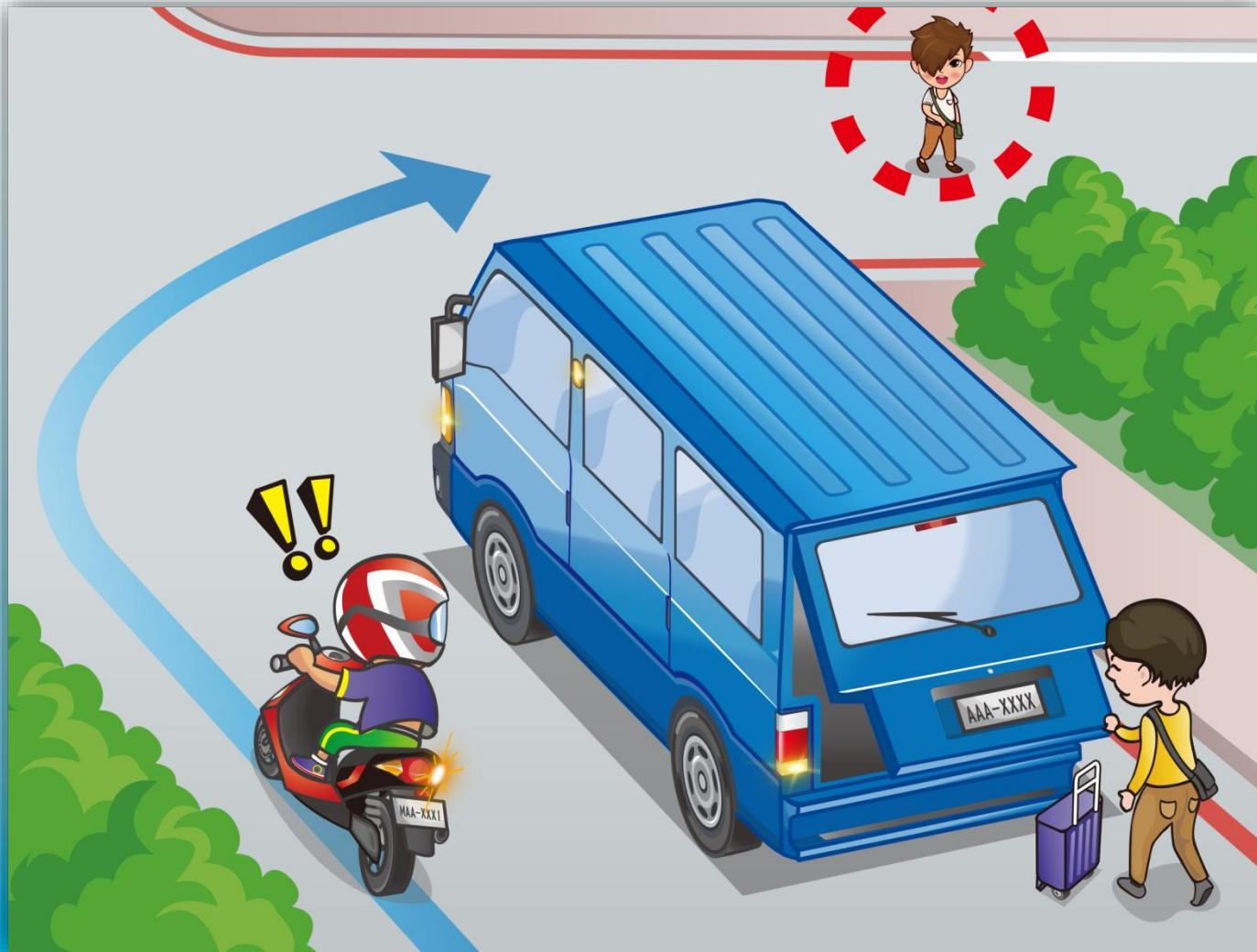
- (1) စည်းကမ်းမလိုက်နာသောယာဉ်ကို ဂဏ္ဍာမစိုက်ဘဲ တည့်တည့်မောင်းနှင်မည်။
- (2) ဧည့်သည်အခါအနေကိုဂဏ္ဍာစိုက်ပီး အထွန်လျော့ကာ အလိုက်အထိုက်မောင်းမည်။
- (3) ဟွန်းတီးကာ ချက်ချင်းအထွန်မှင့်တင်၍ ဖတ်ကူးသွားနိုင်သည်။

45. ပုံအရ ဆိုင်ကယ်စီးသူသည် မည်သို့မောင်းလှည့် ဘေးပိုလုံ-ခုံသနည်း။



- ( 1 ) တောင်ကျကျောက်များကိုဏှောင်တိမ်း\_ပီး ဆက်မောင်းနှင်နိုင်သည်။
- ( 2 ) လမ်းအခ\_ခအနေကို သေချာစစ်ဆေး!\_ဖစ်စေ။ လမ်းခ\_ဟင်း!\_ဖစ်စေ မောင်းပါ။
- ( 3 ) ကျောက်တုံးကိုဖယ်ဏှား\_ပီး ဆက်လက်မောင်းသွားနိုင်သည်။

46. ပုံအရ ဆိုင်ကယ်စီးသူသည် မည်သို့မောင်းလင့် ပိုဘေးကင်းသနည်း။



- ( 1 ) အထွန် မှင်ကာ ကော့ ပီး ဖတ်မောင်း ခင်း။
- ( 2 ) အရေးပေါ်ဘရိတ်အုပ် ခင်း။
- ( 3 ) မင်ကွင်းဒေါင့်ကွယ် ခင်းကြောင့် အန္တရာယ်မ ဖစ်ပွားရန် အထွန်လျော့မောင်းရမည်။

47. ပုံအရ ဆိုင်ကယ်စီးသူသည် လမ်းဆုံ \_ဖတ်ကူးလငွှင် မည်သို့မောင်းနှင်မှ ဘေးပိုကင်းသနည်း။



- ( ၁ ) ဘာမဂဏ္ဍမစိုက်ဘဲ ဆက်မောင်းနှင်\_ခင်း၊
- ( ၂ ) ဟွန်းတီး\_ပီး ဧည့်သို့အဏ္ဏိန်\_မျှင်တင်မောင်းနှင်\_ခင်း၊
- ( ၃ ) အဏ္ဏိန်လျော့\_ပီး ကလေးကျောင်းကားကို

ဦးစားပေးကျော်တက်စေ\_ခင်း။

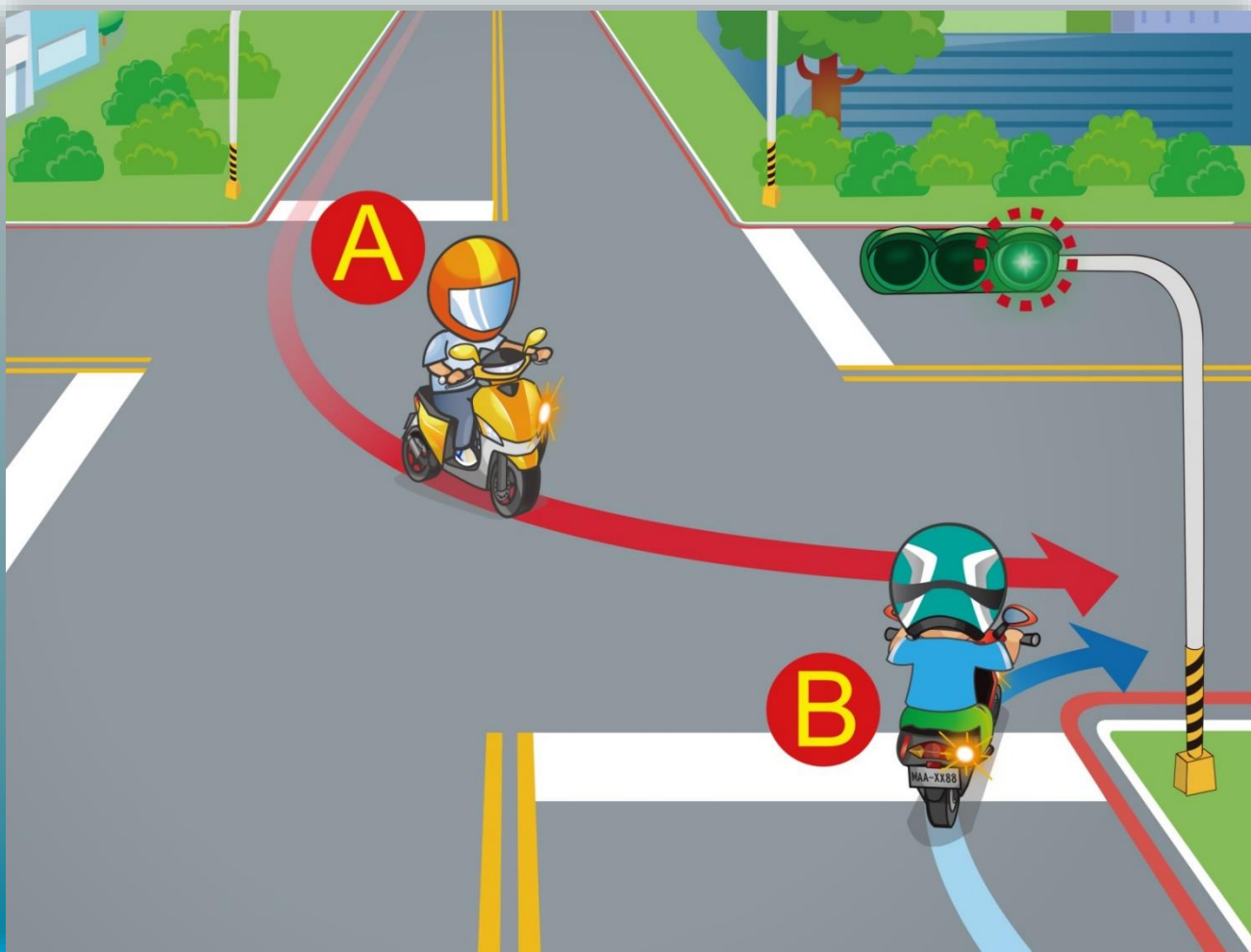
48. ပုံအရ ဆိုင်ကယ်စီးသူသည် မည်သို့မောင်းလှည့် ပို၊ဘေးကင်းသနည်း။



- ( 1 ) အ\_ပင်ပိုင်းဣတ္ထိယာဉ်များကို ဦးစားပေးမောင်းစေရမည်။
- ( 2 ) ဦးစားပေးရန်မလိုပါ။
- ( 3 ) ဟွန်းတီး\_ပီးအဏ္ဏိန်\_မှင့်တင်ကာ \_ဖတ်မောင်းနိုင်သည်။

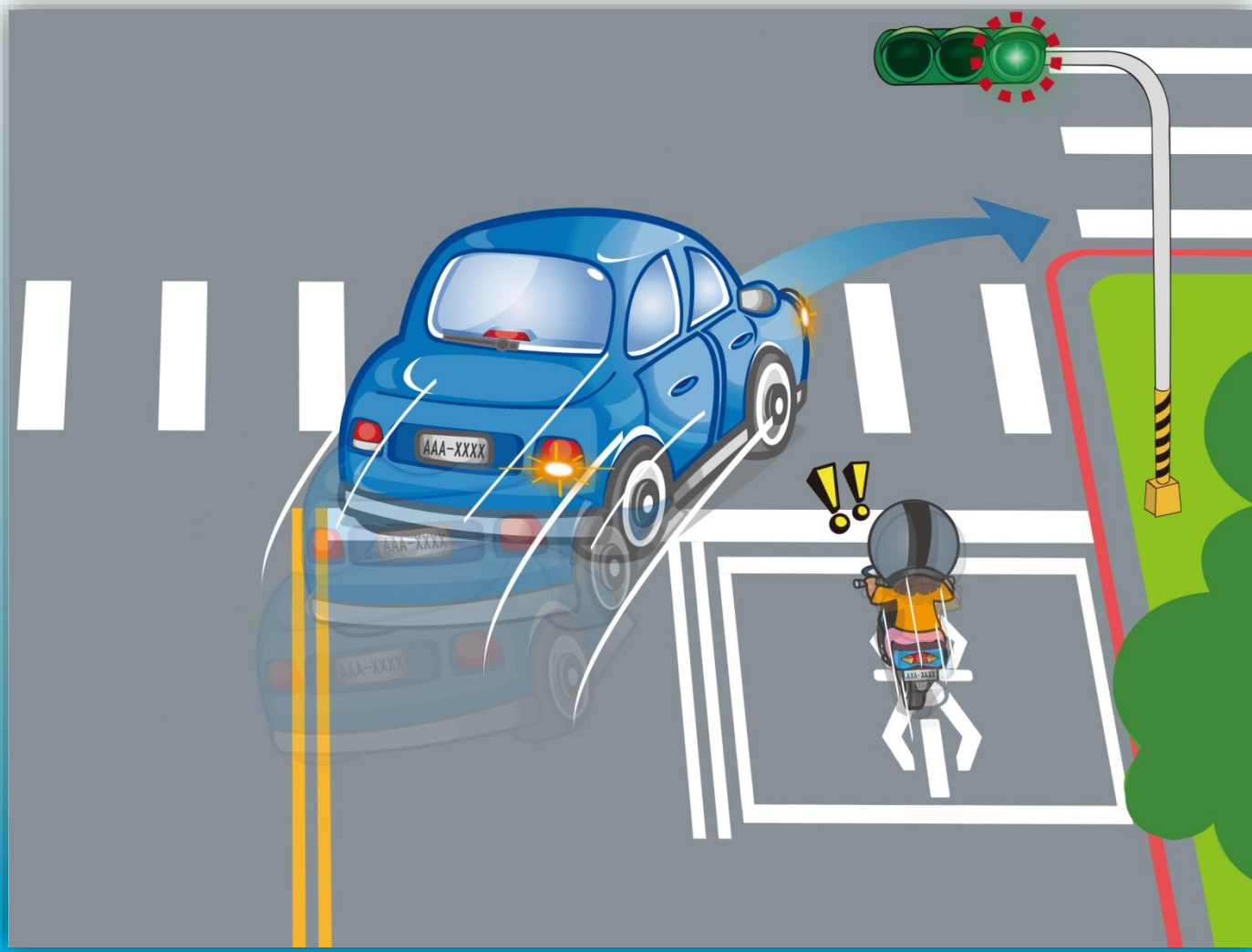


49. ပုံအရ လမ်းကြောတစ်ခုထဲ ယာဉ်နှစ်စီး တပိုင်နက်မောင်းဝင်လာပါက မည်သူ့ကို ဦးစားပေးရမည်နည်း။



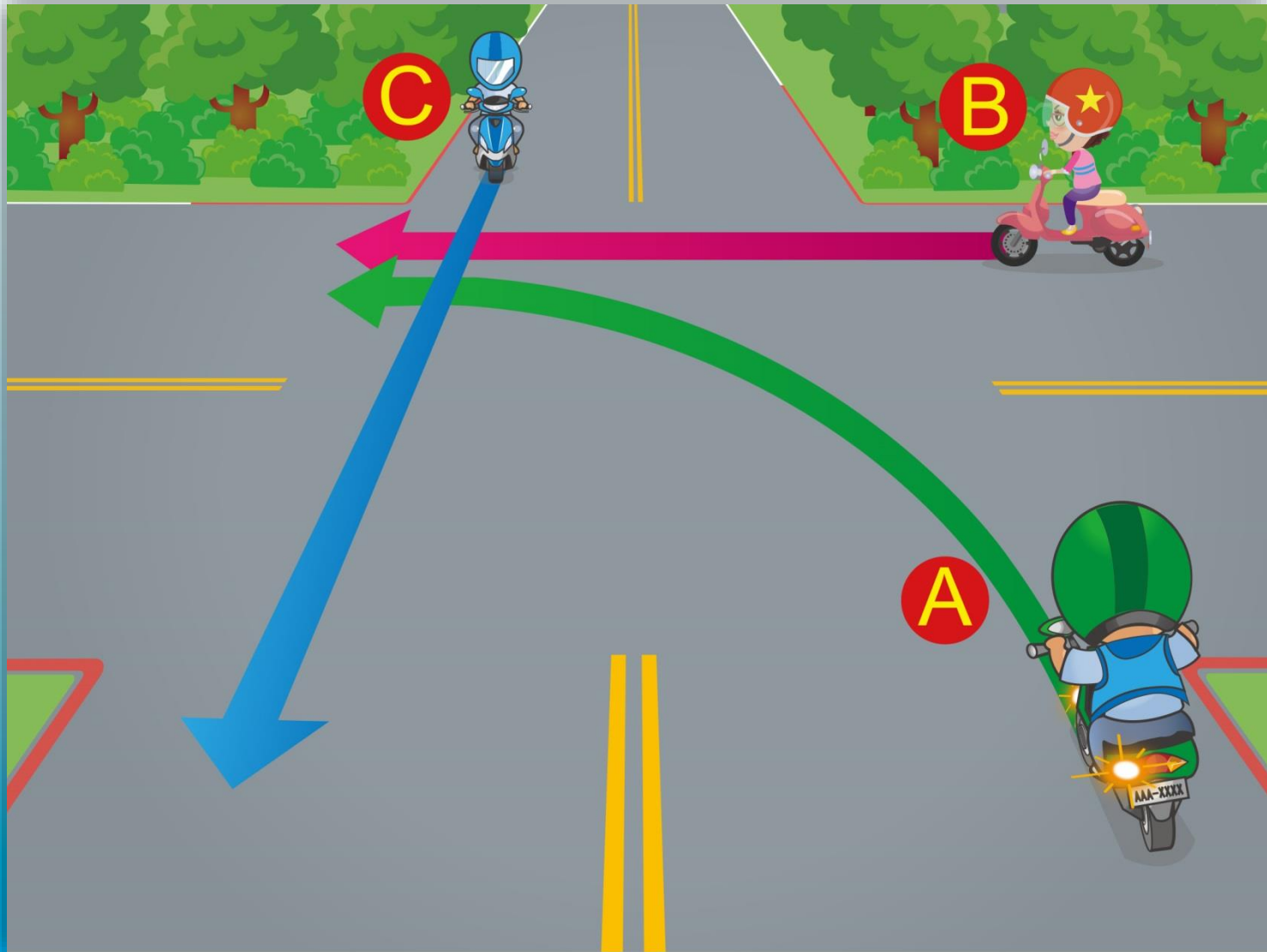
- ( ၁ ) B ယာဉ်ကို ဦးစားသွားစေရမည်။
- ( ၂ ) ဗ ယာဉ်ကို ဦးစားသွားစေရမည်။
- ( ၃ ) ပိုမန်သောယာဉ်ကို ဦးစားပေးရမည်။

50. လမ်းဆုံဖတ်မောင်းစဉ် ဆိုင်ကယ်စီးသူသည် မည်သို့မောင်းလှည့် ပိုဘေးကင်းသနည်း။



- ( ၁ ) ဟွန်းတီး\_ပီးနောက် ကားညာဘက်မှကျော်တက်နိုင်သည်။
- ( ၂ ) ဟွန်းတီး\_ပီးနောက် ကားဘယ်ဘက်မှကျော်တက်နိုင်သည်။
- ( ၃ ) အထွန်လျော့\_ပီး စည်းကမ်းမလိုက်နာသောယာဉ်ကို သတိ\_ပုရမည်

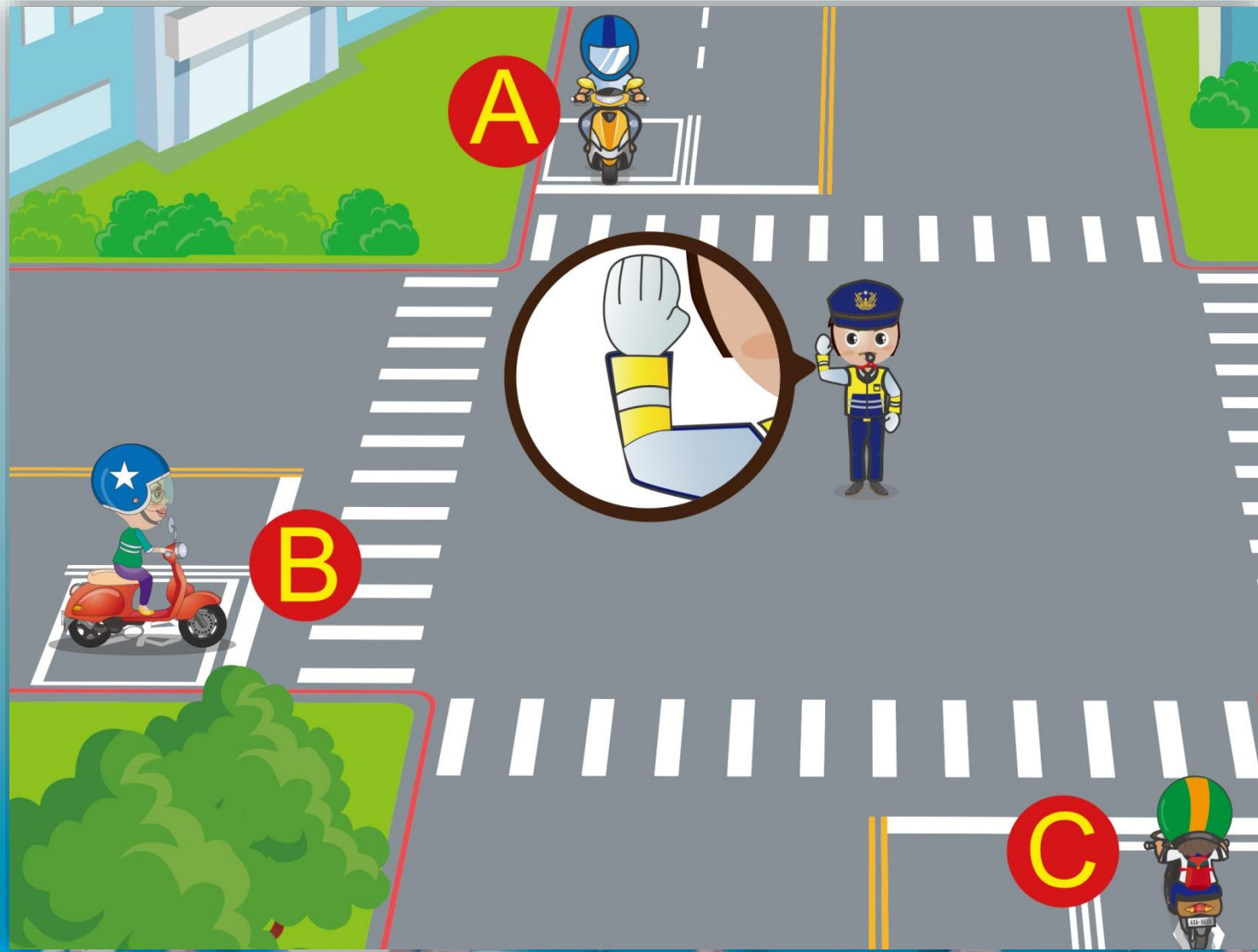
51. ဓါတ်ပုံအရ လမ်းကို ဦးဆုံးအသုံး\_ပုနိုင်သော အစီအစဉ်အတိုင်း စဉ်ပေးပါ။



- ( 1 ) A→B→C    ( 2 ) C→B→A    ( 3 ) B→C→A

答案 : 2

52. ပုံအရ ယာဉ်ထိန်းရဲ့ လက်အမှုအယာသည် မည်သည့်ဆိုင်ကယ်ကို ရပ်ခိုင်းသနည်း။



(1) A (2) B (3) C

53. ပုံအရ ဆိုင်ကယ်စီးသူသည် မည်သို့မောင်းလှည့် ပို၊ဘေးကင်းသနည်း။




(1) A (2) B (3) C

54. ပုံအရ ဆိုင်ကယ်စီးသူသည် မည်သို့မှန်ကန်စွာ တုန့်ပန်ရမည်နည်း။



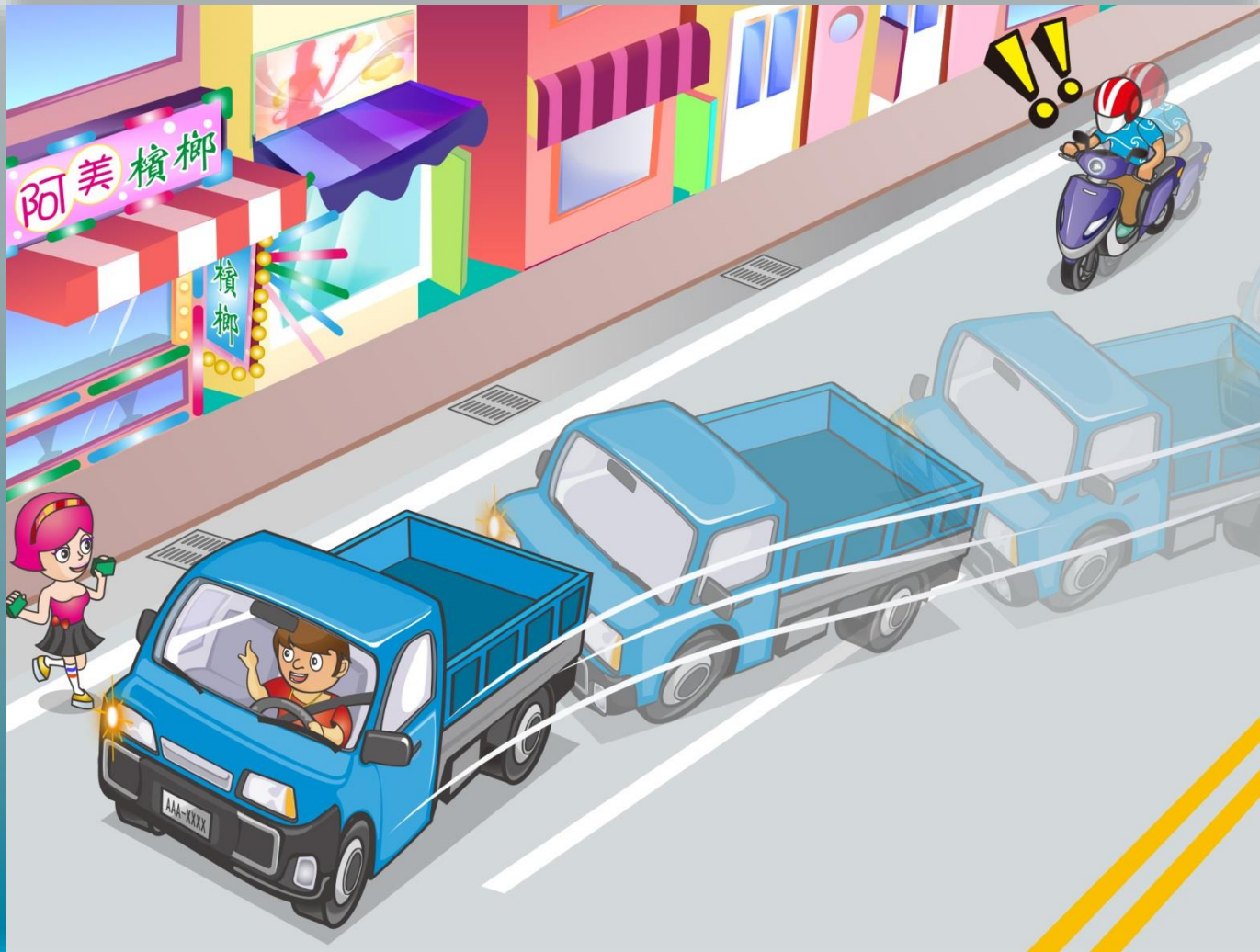
- ( 1 ) ဟွန်းတီး\_ပီးအဏ္ဏိန်\_မှင့်တင်ကာ ကားဘယ်ဘက်မှ ကျော်တက်ရမည်။
- ( 2 ) မကျော်ဘဲအဏ္ဏိန်လျော့မောင်း\_ပီး အချိန်မရွေးရပ်နိုင်ရန် အဆင့်သင်ဏ္ဍိရမည်။
- ( 3 ) ဆန့်ကျင်ဘက်ယာဉ်ကြောကို အသုံး\_ပု\_ပီး ကားကိုကျော်တက်ရမည်။

55. ပုံအရ ဆိုင်ကယ်စီးသူသည် မည်သို့ခ-ဖဏ္ဍာင်းရမည်နည်း။



- ( 1 ) အချိန်မဏ္ဍောကျပုံးဘရိတ်အုပ်နိုင်သောအနေအထား \_ပင်ထားရမည်။
- ( 2 ) အဏ္ဏိန်လျော့\_ပီး တကုဆိ.အခ\_ခအနေကို ဂဏ္ဏု\_ပုရမည်။
- ( 3 ) အထက်ပါအားလုံး\_ဖစ်သည်။

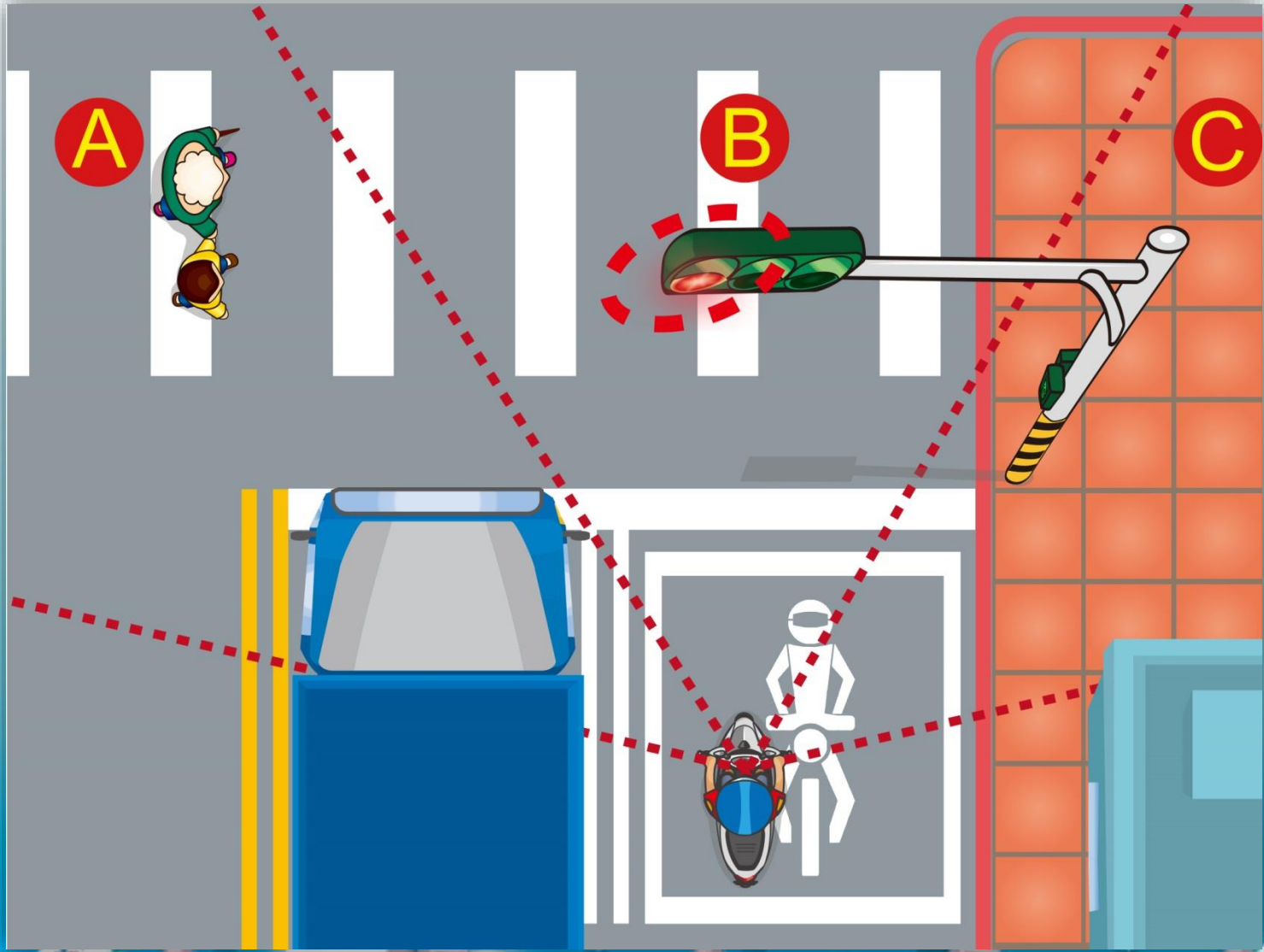
56. ပုံအရ ဆိုင်ကယ်စီးသူသည် မည်သို့မောင်းလင့် ပိုဘေးကင်းသနည်း။



- ( 1 ) အဏ္ဏေယျာဉ်.အa ခအနေကို ဂဏ္ဏုစိုက်\_ပီး ယာဉ်ကြောကို သတိထားa\_ဟင်း၊ အဏ္ဏိန်လျော့မောင်းရမည်။
- ( 2 ) ဟွန်း\_ပင်းထန်စွာတီး\_ခင်း\_ဖင့် မောင်းရန်တွန်းအားပေးပါ။
- ( 3 ) အဏ္ဏိန်\_မှင့်တင်\_ပီး ကျော်တက်ပါ။



57. ပုံအရ မည်သည့်ဧရိယာသည် ဆိုင်ကယ်စီးသူအတွက် အန္တရာယ်များသနည်း။



(1) A (2) B (3) C

58. ပုံအရ ဆိုင်ကယ်စီးသူသည် ၎င်းအာ\_ခအနေမျိုးကြုံတွေ့ပါက မည်သို့မောင်းနှင်ရမည်နည်း။



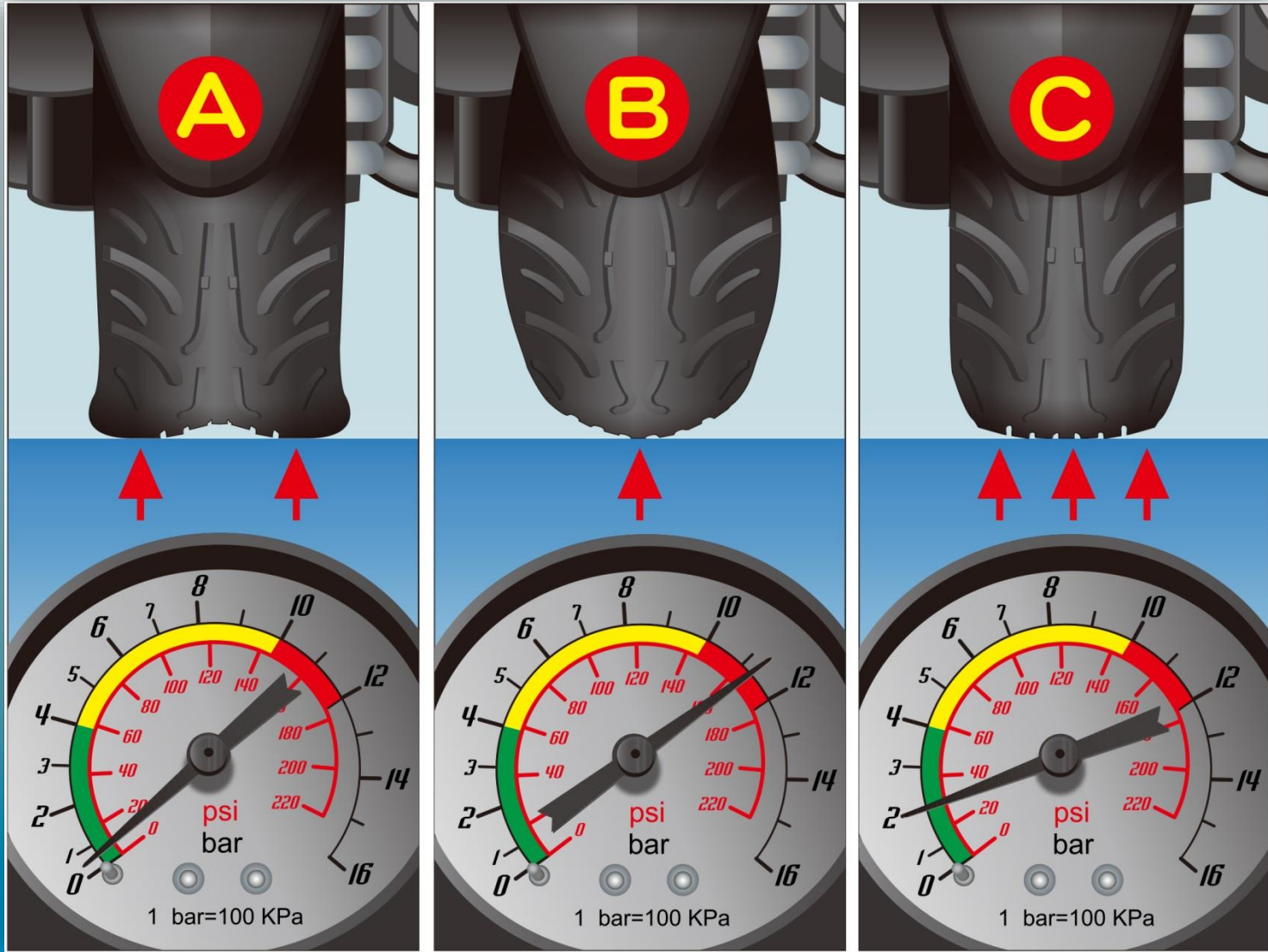
- ( 1 ) အဏ္ဏိန်လျော့\_ပီး\_ဂဏ္ဏုတစိုက်\_ဖတ်မောင်းရမည်။
- ( 2 ) ဟွန်း\_ပင်းထန်စွာတီး\_ပီး\_အဏ္ဏိန်\_မှင်တင်\_ဖတ်ကူးရမည်။
- ( 3 ) မူလအဏ္ဏိန်အတိုင်းမောင်းနှင်\_ပီး\_မီးရောင်ခ\_ဟင်းကာ\_သတိပေးရမည်။

59. ပုံအရ ဆိုင်ကယ်ပျက်သွားပါက မောင်းသူသည် မည်သို့ခံ့ဖဏ္ဍင်းရမည်နည်း။



(1) A (2) B (3) C

60. ပုံအရ မည်သည့်ဘီးဖိအားသည် ပုံမှန်ဣာ်သနည်း။



(1) A (2) B (3) C